

ASSISTENTE ADMINISTRAÇÃO

Código: 201

ABRA APENAS QUANDO AUTORIZADO.

Leia com atenção as seguintes instruções:

- Este caderno contém as **40 questões** da Prova Objetiva, composta por: 10 questões de Língua Portuguesa, 5 questões de Informática Básica, 10 questões de Legislação, e 15 questões de Conhecimentos Específicos.
Caso haja algum problema em seu caderno de provas, informe ao aplicador de provas.
- As informações / instruções dadas no dia da prova complementam o edital.
- Durante as provas, não é permitido o uso de dispositivos eletrônicos de qualquer tipo e celulares, assim como relógios e materiais de consulta.
- Use a Folha de Respostas (versão do candidato) reproduzida no final do Caderno de Provas apenas para marcar seu Gabarito. Esse rascunho somente poderá ser destacado pelo aplicador de provas.
- Na **Folha de Respostas**:
 - Confira seu nome, número de inscrição e cargo.
 - Assine, A TINTA, no espaço próprio indicado.
 - Transcreva a seguinte frase, com sua caligrafia usual, mantendo as letras maiúsculas e minúsculas, desconsiderando aspas e autoria:
- A Folha de Respostas deve ser assinada e não deve ser dobrada, amassada ou rasurada.
- Ao transferir as respostas para a Folha de Respostas:
 - Use somente caneta AZUL ou PRETA, preenchendo toda a área reservada à letra correspondente à resposta solicitada em cada questão, conforme o modelo:

| | | | | |
|----|-------------------------------------|--------------------------|--------------------------|--------------------------|
| 01 | A | B | C | D |
| | <input checked="" type="checkbox"/> | <input type="checkbox"/> | <input type="checkbox"/> | <input type="checkbox"/> |
 - Assinale somente uma alternativa em cada questão e não deixe nenhuma questão sem resposta.
- Sua prova e Folha de Respostas poderão ser entregues somente após o término do período de sigilo: 1 hora.
- Sua resposta **NÃO** será computada se houver marcação de mais de uma alternativa, questões não assinaladas ou rasuradas.
- Ao entregar sua prova, recolha seus objetos, deixe a sala de provas e, em seguida, o prédio. Até deixar as dependências do local de prova, continuam válidas as proibições do uso de aparelhos eletrônicos e celulares, bem como não lhe é mais permitido o uso dos sanitários.
- O Caderno de Questões da Prova Objetiva e os gabaritos serão divulgados no endereço eletrônico www.gestaodeconcursos.com.br, no dia subsequente à data da prova.

“Perder-se também é caminho.”

Clarice Lispector

**DURAÇÃO TOTAL DAS PROVAS,
INCLUINDO TRANSCRIÇÃO DA
FOLHA DE RESPOSTAS:
QUATRO HORAS**

Escreva seu nome completo de forma legível.

NOME: _____

INSTRUÇÃO: Leia o texto a seguir para responder às questões 1 e 2.

Glamorizar o passado é se deixar enganar

Prefiro a caneta ao teclado — apesar da minha letra, que às vezes nem eu entendo —, o papel à tela, o livro físico ao digital. Não é saudosismo e muito menos uma vilanização dos avanços tecnológicos, que ao mesmo tempo são uma bênção e uma maldição. Não glamorizo o passado como sendo melhor: o melhor vive na nossa imaginação [...].

Mantenho o melhor de antes — que gravei no meu HD apertando o rec e o play — e aproveito o melhor de hoje. O que posso escolher escolho, dentro de uma lista nada coerente entre o antigo e o novo, com a vantagem de carregar comigo o passado. A nossa história é um caminho irreversível, saber viver o presente é o melhor dos mundos.

KORICH, Becky S. Glamorizar o passado é se deixar enganar. **Folha de S.Paulo**. Colunas, 11 set. 2023. Disponível em: <https://www1.folha.uol.com.br/colunas/becky-korich/2023/09/glamorizar-o-passado-e-se-deixar-enganar.shtml>. Acesso em: 11 set. 2023. [Fragmento]

QUESTÃO 1

De acordo com as informações apresentadas, pode-se inferir que, para a autora,

- A) o passado apresentava condições melhores que o futuro, que é desesperançoso.
- B) o presente supera o passado devido aos avanços tecnológicos que se apresentam.
- C) o antigo e o novo convivem juntos, e ela aproveita o que há de melhor de cada um.
- D) o saudosismo do passado é o que alimenta a busca por saber viver bem o presente.

QUESTÃO 2

Releia este trecho.

“Não **glamorizo** o passado como sendo melhor: o melhor vive na nossa imaginação [...]”.

O termo em destaque nesse fragmento indica que a autora

- A) não atribui ao passado valor excessivo, mais atraente que o presente.
- B) desconsidera o passado como sendo importante para o futuro.
- C) ignora que o passado foi a melhor época da sua vida.
- D) apaga as lembranças positivas em suas memórias.

QUESTÃO 3

Gaúcho resgatou mais de 100 pessoas de enchente com pequeno barco: ‘fiquei 23 horas em cima do rio’

Mais de 100 pessoas foram salvas por apenas um homem durante a tragédia que atingiu o Vale do Taquari, no Rio Grande do Sul, no começo da semana passada. Com um pequeno barco, o gaúcho Sérgio Benini, morador de Roca Sales, conseguiu resgatar vários vizinhos da enchente que atingiu a cidade, uma das mais afetadas.

“Eu fiquei 23 horas em cima do rio. Nós arrancamos o telhado à mão. As pessoas subiam no segundo piso, no forro embaixo do telhado, porque estava chovendo. E lá eles só gritavam socorro, socorro, socorro”, relembrou ele ao Fantástico.

[...] Conforme a água foi ganhando força pelas ruas da cidade, começaram os pedidos por ajuda. Das janelas, moradores começaram a registrar a força da água.

PORTAL G1. Gaúcho resgatou mais de 100 pessoas de enchente com pequeno barco: ‘fiquei 23 horas em cima do rio’. **Portal G1**. Disponível em: <https://g1.globo.com/fantastico/noticia/2023/09/11/gaucho-resgatou-mais-de-100-pessoas-de-enchente-com-pequeno-barco-fiquei-23-horas-em-cima-do-rio.ghhtml>. Acesso em: 11 set. 2023. [Fragmento]

As diferentes funções da linguagem atendem a propósitos específicos da comunicação. Considerando o texto, a função da linguagem a ele associada é aquela que

- A) valoriza a figura de heróis modernos, reais, sendo classificada como poética.
- B) transmite informações com foco no assunto, classificando-se como referencial.
- C) busca convencer o leitor sobre um posicionamento, sendo chamada de apelativa.
- D) estabelece um diálogo indireto com o leitor do texto, sendo classificada como fática.

QUESTÃO 4

Paz e guerra

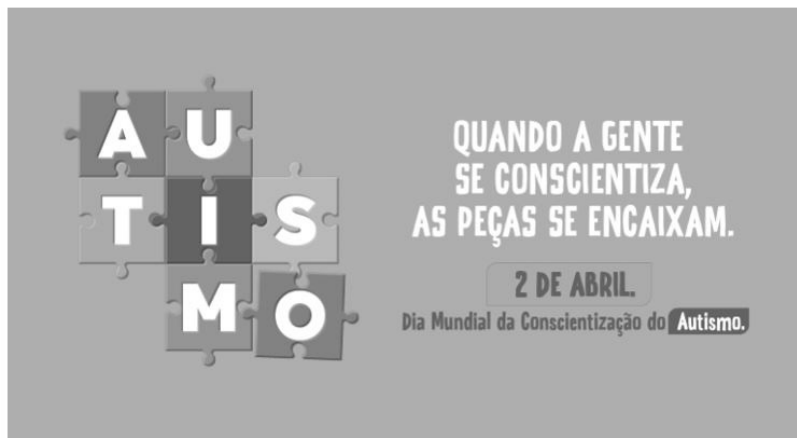
Eu estava atrasado para a guerra; tive de tomar um táxi. Uma contrariedade: com o recente aumento do preço da corrida, aquilo era uma despesa imprevista e inoportuna, um abalo em meu orçamento. Contudo, cheguei justo a tempo de marcar o ponto, evitando assim transtornos maiores.

SCLIAR, Moacyr. Paz e guerra. *In*: **Conto Brasileiro**. Disponível em: <https://contobrasileiro.com.br/paz-e-guerra-conto-de-moacyr-scliar/>. Acesso em: 6 set. 2023. [Fragmento]

Nesse conto de Moacyr Scliar, o sinal de dois-pontos tem a função de introduzir uma

- A) advertência.
- B) dúvida.
- C) explicação.
- D) enumeração.

QUESTÃO 5



Disponível em: <https://prefeitura.pbh.gov.br/noticias/bh-promove-campanha-e-acoes-de-visibilidade-no-mes-de-conscientizacao-do-autismo>. Acesso em: 7 set. 2023.

Tendo em vista os elementos verbais e não verbais do cartaz, infere-se que seu objetivo é

- A) incentivar a busca de tratamento para pessoas diagnosticadas com transtorno do espectro autista.
- B) promover a visibilidade e a inclusão de pessoas com transtorno do espectro autista na sociedade.
- C) sugerir a definição de uma data para celebrar a inclusão de pessoas com autismo no meio social.
- D) defender a luta por maior visibilidade das pessoas com autismo nos ambientes governamentais.

QUESTÃO 6



Disponível em: <https://tirasarmandinho.tumblr.com>. Acesso em: 6 set. 2023.

Na construção da tirinha, foi usada linguagem

- A) corporal, pois o personagem utiliza todas as partes do corpo para parabenizar a mulher em uma data comemorativa.
- B) simbólica, pois as flores representam um objeto de desejo feminino, reproduzindo uma visão superficial das mulheres.
- C) verbo-visual, pois o texto escrito está em elipse, sendo inferido pelo contexto em que os personagens estão inseridos.
- D) visual, pois a mensagem comunicativa pode ser compreendida mesmo sem uso de palavras, mas apenas de imagens.

QUESTÃO 7

Podemos alimentar o discurso de ódio sem perceber

As redes sociais se tornam convenientes para quem produz falas discriminatórias e intolerantes porque elas conseguem interpretar o comportamento dos usuários, recomendando automaticamente conteúdos alinhados com os interesses deles. As redes criam, portanto, uma audiência para oradores de discursos de ódio que normalmente teriam pouco alcance.

Ocorre que, também por essa razão, as mesmas ações que contribuem para a propagação de um vídeo, foto ou meme, como as curtidas e compartilhamentos, colaboram para disseminar essas mensagens problemáticas. Entender isso é importante para evitarmos propagar o discurso que queremos combater.

Explico: por causa de como as plataformas funcionam, quanto mais interagirmos com a postagem problemática, maior será a audiência atingida por ela e mais perigosa esta mensagem será. Isso acontece mesmo quando compartilhamos uma manifestação de ódio como forma de denúncia ou publicamos um comentário criticando o conteúdo.

[...]

Infelizmente, mesmo com boas intenções e sem perceber, podemos acabar ajudando a disseminar posts que depreciam pessoas por sua etnia, gênero, orientação sexual ou outro marcador social. Isso é profundamente perigoso, pois quanto mais pessoas são alcançadas e têm suas opiniões formadas por discursos de ódio, mais provável se torna que algumas delas pratiquem atos concretos de discriminação e violência contra minorias sociais e grupos vulneráveis.

SALVADOR, J. P. F. Podemos alimentar o discurso de ódio sem perceber. **Hoje em Dia**. Opinião, 18 out. 2023. Disponível em: <https://www.hojeemdia.com.br/opiniao/opiniao/podemos-alimentar-o-discurso-de-odio-sem-perceber-1.984113>. Acesso em: 23 out. 2023. [Fragmento]

Em seu texto, o autor argumenta que

- A) ter cuidado com conteúdos consumidos e compartilhados nas redes sociais é uma forma de evitar a disseminação de discursos de ódio.
- B) alimentar a disseminação de discursos de ódio é um dos objetivos das plataformas de redes sociais, devido ao engajamento.
- C) acabar com os discursos de ódio nas redes sociais requer que os usuários façam comentários negativos nos posts.
- D) disseminar discursos de ódio nas redes sociais é uma característica dos produtores de conteúdo que têm pouco alcance.

QUESTÃO 8

Codinome Beija-flor

Pra que mentir
Fingir que perdoou
Tentar ficar amigos sem rancor
A emoção acabou
Que coincidência é o amor
A nossa música nunca mais tocou

Pra que usar de tanta educação
Pra destilar terceiras intenções
Desperdiçando o meu mel
Devagarzinho, flor em flor
Entre os meus inimigos, beija-flor

CAZUZA. Codinome Beija-flor. In: **Vagalume**. Disponível em: <https://www.vagalume.com.br/cazuza/codinome-beija-flor.html>. Acesso em: 6 set. 2023. [Fragmento]

As palavras podem ser formadas por diferentes processos. Um deles é a composição por justaposição, em que dois termos são unidos um ao outro, sem perda de seus elementos.

Na canção de Cazuzza, ocorre justaposição na formação da palavra

- A) destilar.
- B) inimigos.
- C) devagarzinho.
- D) beija-flor.

QUESTÃO 9

A disciplina do amor

Foi na França, durante a Segunda Grande Guerra: um jovem tinha um cachorro que todos os dias, pontualmente, ia esperá-lo voltar do trabalho. Postava-se na esquina, um pouco antes das seis da tarde. Assim que via o dono, ia correndo ao seu encontro e na maior alegria acompanhava-o com seu passinho **saltitante** de volta à casa. A vila inteira já conhecia o cachorro e as pessoas que passavam faziam-lhe festinhas e ele correspondia, chegava até a correr todo animado atrás dos mais íntimos. Para logo voltar atento ao seu posto e ali ficar sentado até o momento em que seu dono apontava lá longe.

TELLES, Lygia Fagundes. A disciplina do amor. In: **Conto Brasileiro**. Disponível em: <https://contobrasileiro.com.br/a-disciplina-do-amor-conto-de-lygia-fagundes-telles/>. Acesso em: 6 set. 2023. [Fragmento]

Assinale a alternativa em que o termo destacado pertença, no contexto, à mesma classe de palavras daquela em destaque no texto.

- A) “Foi na França, durante a Segunda **Grande** guerra [...]”.
- B) “Assim que via o dono, ia correndo ao seu **encontro** [...]”.
- C) “[...] até o momento em que seu **dono** apontava lá longe.”
- D) “Postava-se na esquina, um **pouco** antes das seis da tarde.”

QUESTÃO 10

Escola em tempo integral para uma educação integral

O Brasil é um dos países mais desiguais do mundo, tanto na área econômica como na social, e continuará sendo enquanto a oferta da educação de qualidade permanecer desigual. Sem oportunidades iguais de acesso a um ensino de qualidade para todas as crianças e adolescentes, jamais ultrapassaremos os umbrais da mediocridade. Por isso, termos as escolas funcionando em período estendido é uma das poucas quase-unanidades, como demonstram diversas pesquisas.

VENTURI, Jacir. Escola em tempo integral para uma educação integral. **Gazeta do povo**. Opinião, 31 ago. 2023. Disponível em: <https://www.gazetadopovo.com.br/opiniaio/artigos/escola-em-tempo-integral-para-uma-educacao-integral/>. Acesso em: 6 set. 2023. [Fragmento]

No texto, observa-se o sentido conotativo em:

- A) “Umbrais da mediocridade”, que indica uma limitação do Brasil no avanço da qualidade do ensino escolar.
- B) “Ensino de qualidade”, que alude às escolas particulares, às quais a maior parte da população não tem acesso.
- C) “Diversas pesquisas”, que indefine propositadamente as pesquisas, evidenciando ausência de embasamento.
- D) “Oportunidades iguais”, que ironiza o fato de que a igualdade da educação no Brasil não é possível para a grande massa.

INFORMÁTICA BÁSICA

QUESTÃO 11

A impressão de apresentações é uma etapa importante na comunicação de informações por meio do Microsoft PowerPoint. Analise as afirmativas a seguir, relacionadas à impressão de apresentações no Microsoft PowerPoint para office 365.

- I. A opção de imprimir *slides* selecionados permite selecionar partes de cada *slide* a ser impresso.
- II. Pode-se selecionar a impressão de um intervalo de *slides*, como imprimir todos os *slides*, exceto a capa da apresentação.
- III. A opção de anotações do apresentador permite imprimir a apresentação juntamente com as anotações feitas pelo elaborador da apresentação.

Estão corretas as afirmativas

- A) I e II, apenas.
- B) I e III, apenas.
- C) II e III, apenas.
- D) I, II e III.

QUESTÃO 12

Tendo em vista os tipos de gráficos disponíveis no Microsoft Excel para office 365, numere a COLUNA II de acordo com a COLUNA I, associando os conceitos aos tipos de gráficos correspondentes.

COLUNA I

- 1. Gráfico de pizza
- 2. Gráfico de linhas

COLUNA II

- () Mostram o tamanho dos itens, em um série de dados, proporcional à soma desses itens.
- () Podem mostrar dados contínuos ao longo do tempo em um eixo com escalas iguais e, portanto, são ideais para mostrar tendências de dados em intervalos iguais, como meses, trimestres ou anos fiscais.
- () Pontos de dados deste gráfico são exibidos como uma porcentagem do total de dados.

Assinale a sequência correta.

- A) 2 1 2
- B) 1 2 1
- C) 1 1 2
- D) 2 2 1

QUESTÃO 13

O sistema operacional Windows 10 oferece uma variedade de configurações que podem ser personalizadas por meio do Painel de Controle. Analise as afirmativas a seguir, relacionadas às configurações básicas do Windows 10.

- I. No Painel de Controle, o usuário pode personalizar as configurações de rede no Windows 10, como a configuração de uma conexão Wi-Fi.
- II. No Painel de Controle, é possível alterar a resolução da tela, ajustar as configurações de vídeo e gerenciar dispositivos de impressão conectados ao computador.
- III. O Painel de Controle é o local principal para a instalação e a remoção de programas e aplicativos no Windows 10.

Estão corretas as afirmativas

- A) I e II, apenas.
- B) I e III, apenas.
- C) II e III, apenas.
- D) I, II e III.

QUESTÃO 14

Existem muitos tipos de ataques a redes, cada um visando a explorar vulnerabilidades específicas para comprometer a segurança da rede.

O ataque que visa a sobrecarregar um servidor ou rede com um volume massivo de tráfego, tornando-o inacessível para os usuários legítimos, é chamado de

- A) Ataque de Envenenamento de ARP.
- B) Ataque de Negação de Serviço (DDoS).
- C) Ataque de *Phishing*.
- D) Ataque de Força Bruta.

QUESTÃO 15

A internet é uma rede global que conecta bilhões de dispositivos em todo o mundo, permitindo a troca de informações e recursos.

Com relação às noções básicas de internet, assinale a alternativa correta.

- A) A internet é uma rede de computadores exclusiva para uso governamental e militar.
- B) HTTP é um protocolo de segurança usado para criptografar todas as comunicações na internet, garantindo a privacidade de todos os usuários.
- C) Um endereço IP (Internet Protocol) é um identificador exclusivo atribuído a um dispositivo conectado à internet para facilitar a comunicação e a identificação na rede.
- D) A World Wide Web (WWW) também pode ser chamada de internet.

LEGISLAÇÃO

QUESTÃO 16

Em relação aos direitos e deveres individuais e coletivos previstos na Constituição da República Federativa do Brasil de 1988, assinale a alternativa incorreta.

- A) É assegurada, mediante o pagamento de taxa, a obtenção de certidões em repartições públicas para defesa de direitos.
- B) As entidades associativas, quando expressamente autorizadas, têm legitimidade para representar seus filiados judicial ou extrajudicialmente.
- C) É livre a expressão da atividade intelectual, artística, científica e de comunicação, independentemente de censura ou licença.
- D) A pena será cumprida em estabelecimentos distintos, de acordo com a natureza do delito, a idade e o sexo do apenado.

QUESTÃO 17

Sobre as vedações ao servidor público, previstas no Decreto nº 1.171, de 22 de junho de 1994, que aprova o Código de Ética Profissional do Servidor Público Civil do Poder Executivo Federal, analise as afirmativas a seguir.

- I. É vedado ao servidor exercer atividade profissional aética ou ligar o seu nome a empreendimentos de cunho duvidoso.
- II. É vedado ao servidor público retirar da repartição pública livro ou bem pertencente ao patrimônio público, salvo se for autorizado pelo superior hierárquico.
- III. É vedado ao servidor público embriagar-se, ainda que esporadicamente.

Está(ão) correta(s) a(s) afirmativa(s)

- A) I, apenas.
- B) II, apenas.
- C) I e II, apenas.
- D) I, II e III.

QUESTÃO 18

O credenciamento, de acordo com as previsões da Lei nº 14.133, de 1º de abril de 2021, conhecida como Lei de Licitações e Contratos Administrativos, poderá ser usado na seguinte hipótese de contratação:

- A) Paralela e excludente
- B) Com seleção a critério de terceiros
- C) Em mercados sem flutuação
- D) De particular para provimento de atividade do Poder Público

QUESTÃO 19

Conforme disposto na Lei nº 13.709, de 14 de agosto de 2018, conhecida como Lei Geral de Proteção de Dados Pessoais (LGPD), o término do tratamento de dados pessoais ocorrerá nas seguintes hipóteses, exceto:

- A) Verificação de que a finalidade foi alcançada
- B) Cumprimento de obrigação legal ou regulatória pelo controlador
- C) Fim do período de tratamento
- D) Determinação da autoridade nacional, quando houver violação ao disposto na LGPD

QUESTÃO 20

De acordo com a Lei nº 12.527, de 18 de novembro de 2011, conhecida como Lei de Acesso à Informação, não constitui conduta ilícita que enseja responsabilidade do agente público ou militar:

- A) Impor sigilo à informação para obter proveito pessoal ou de terceiro, ou para fins de ocultação de ato ilegal cometido por si ou por outrem
- B) Ocultar da revisão de autoridade superior competente informação sigilosa para beneficiar a si ou a outrem, ou em prejuízo de terceiros
- C) Destruir ou subtrair, por qualquer meio, documentos concernentes a possíveis violações de direitos humanos por parte de agentes do Estado
- D) Agir com negligência ou imprudência na análise das solicitações de acesso à informação

QUESTÃO 21

Segundo a Lei nº 8.112, de 11 de dezembro de 1990, que dispõe sobre o regime jurídico dos servidores públicos civis da União, das autarquias e das fundações públicas federais, não é uma forma de provimento de cargo público a

- A) ascensão.
- B) recondução.
- C) reversão.
- D) promoção.

QUESTÃO 22

Segundo o Estatuto da Universidade Federal dos Vales do Jequitinhonha e Mucuri, não é uma competência do diretor da Unidade Acadêmica:

- A) Submeter à apreciação da Congregação o orçamento anual e as prioridades para aplicação dos recursos
- B) Estabelecer as normas de afastamento de docentes, para fins de capacitação e cooperação
- C) Planejar e gerir os recursos de pessoal, orçamentários, financeiros, materiais e patrimoniais sob sua responsabilidade
- D) Convocar e presidir as reuniões da Congregação, com voto comum e de qualidade

QUESTÃO 23

Sobre os currículos e as normas previstas no Estatuto da Universidade Federal dos Vales do Jequitinhonha e Mucuri, analise as afirmativas a seguir.

- I. Os conteúdos dos componentes curriculares relacionados às disciplinas serão especificados em ementas e programas, com carga horária e créditos pré-definidos.
- II. O Conselho de Curadores disporá sobre a criação, a organização, o funcionamento e a extinção dos cursos de graduação.
- III. Qualquer que seja a forma de admissão, deverá o discente, nas datas fixadas pelo calendário acadêmico, realizar seu registro, conforme especificado no edital do processo seletivo correspondente.

Está(ão) correta(s) a(s) afirmativa(s)

- A) I, apenas.
- B) II, apenas.
- C) I e III, apenas.
- D) I, II e III.

QUESTÃO 24

De acordo com o Regimento Geral da Universidade Federal dos Vales do Jequitinhonha e Mucuri, são órgãos das Unidades Acadêmicas, exceto:

- A) Congregação
- B) Diretoria
- C) Conselho universitário
- D) Colegiado de curso

QUESTÃO 25

Sobre as normas relativas ao funcionamento dos órgãos colegiados previstas no Regimento Geral da Universidade Federal dos Vales do Jequitinhonha e Mucuri, assinale com V as afirmativas verdadeiras e com F as falsas.

- () As reuniões dos colegiados serão convocadas pelo respectivo Presidente, com antecedência de 48 (quarenta e oito) horas para as reuniões ordinárias.
- () O comparecimento dos membros nas reuniões de órgãos colegiados é facultativo.
- () Serão consideradas aprovadas as propostas que obtiverem maioria simples de votos dos presentes, salvo disposição expressa no Estatuto ou no Regimento Geral.
- () Os representantes do corpo técnico-administrativo serão escolhidos pelos seus pares em processo organizado por eles ou pelas respectivas entidades representativas, por sufrágio secreto e universal.

Assinale a sequência correta.

- A) V V F V
- B) F F V V
- C) F F V F
- D) V V F F

CONHECIMENTOS ESPECÍFICOS

ASSISTENTE ADMINISTRAÇÃO

QUESTÃO 26

Com base na abordagem às características das organizações formais e patrimônio, analise as afirmativas a seguir.

- I. O patrimônio líquido não aumenta com a aquisição de empréstimos, mas também não diminui.
- II. Uma empresa, de início, forma seu patrimônio com a integralização de capital proveniente dos sócios ou acionistas.
- III. Empresas limitadas possuem contrato social, enquanto as sociedades anônimas têm Estatuto Social como documento de constituição.

Está(ão) correta(s) a(s) afirmativa(s)

- A) I, apenas.
- B) II e III, apenas.
- C) III, apenas.
- D) I, II e III.

QUESTÃO 27

A comunicação é o eixo de trabalho e condição para a realização do propósito das organizações. Nesse sentido, numere a COLUNA II de acordo com a COLUNA I, relacionando as habilidades de comunicação às ações correspondentes.

COLUNA I

1. Habilidades de *feedback*
2. Habilidade de transmissão
3. Habilidades de auditivas

COLUNA II

- () Usar canais diversificados para acessar os diferentes sentidos do receptor
- () Ser sensível às pessoas, perceber o que sentem, colocar-se no lugar delas buscando entendê-las
- () Ir direto ao assunto, descrever as circunstâncias de forma simples, compreensível, sem juízos de valor

Assinale a sequência correta.

- A) 1 2 3
- B) 2 3 1
- C) 3 2 1
- D) 1 3 2

QUESTÃO 28

Com relação ao patrimônio imobilizado, assinale a alternativa incorreta.

- A) É integrante do ativo patrimonial.
- B) No ato da sua aquisição, o imobilizado deve ser registrado pelo seu preço de custo.
- C) Os ativos operacionais são aqueles utilizados nas atividades específicas do segmento ou ramo de atividade da instituição.
- D) Com o tempo, ocorre o desgaste dos bens adquiridos pela empresa, que é calculado e registrado por meio da amortização de seu valor.

QUESTÃO 29

Os contratos públicos proporcionam a realização de inúmeros trabalhos, aplicações, e, segundo a legislação, estão sujeitos a serem unilateralmente alterados pela administração na situação em que

- A) ocorrer modificação de projeto ou especificações para melhor ajustamento técnico aos objetivos do próprio projeto.
- B) se fizer necessária a modificação da forma de pagamento, por imposição de situação que ocorrer após o acordo inicial.
- C) sucederem fatos imprevisíveis de resultados incertos ou não mensuráveis que gerem atrasos ou impedimento à realização do contratado.
- D) houver a necessidade da modificação do regime de cumprimento do serviço ou forma de fornecimento ante o exame técnico da não aplicabilidade dos termos anteriores do contrato.

QUESTÃO 30

As organizações modernas cada vez mais devem estar atentas aos contextos dos quais participam e integram.

Nesse sentido, assinale com V as afirmativas verdadeiras e com F as falsas.

- () Um fator interno cuja administração deve estar ciente e atuando adequadamente às suas determinações é a legislação ambiental inerente à atividade da organização, que deve adequar seus processos às exigências legais.
- () O capital intelectual, que se traduz como a capacidade do corpo de colaboradores na realização do trabalho, é uma oportunidade que deve ser aproveitada pela instituição.
- () Durante o processo de planejamento, não se deve realizar análises de concorrência ou se há novos concorrentes no mercado, sob o risco de se perder o foco no propósito institucional.
- () Uma ameaça que merece atenção especial ao se lidar com os problemas ambientais é a falta de qualificação dos recursos humanos da empresa, somada à deficiência em comunicar claramente seus objetivos.

Assinale a sequência correta.

- A) V F V V
- B) F F F F
- C) F V V V
- D) V V F F

QUESTÃO 31

Existem dois esquemas de comunicação na empresa, nos sentidos formal e informal. E pode-se aumentar a intensidade deles realizando algumas ações.

Assinale a alternativa que apresenta a ação que não irá impactar a intensidade da comunicação informal.

- A) Alteração da estrutura organizacional
- B) Práticas de jogos e competições esportivas
- C) Uso de salas pequenas para reuniões ou café
- D) Aproximação das pessoas pela comunicação direta

QUESTÃO 32

Para que os analistas e assistentes tenham uma visão abrangente e conclusiva quanto à distribuição do trabalho na instituição, deve-se montar um quadro que apresente dados sobre, exceto:

- A) Cálculo de tempo gasto por colaborador na execução das atividades
- B) Todas as atividades executadas nos departamentos, reunidas por colaborador
- C) Análise comparativa das atividades executadas pelos diferentes colaboradores
- D) Número de vezes que a tarefa ou atividade se repete pela unidade de tempo definida

QUESTÃO 33

As organizações lançam mão de algumas modalidades de orçamento, geralmente entre seis ou sete tipos mais utilizados, cada qual com suas características distintas e benefícios destacados.

Com base nessa temática, analise as afirmativas a seguir.

- I. O orçamento flexível permite ajustes em decorrência das variações de custos reais ou do nível de trabalho da empresa ou mesmo variações do faturamento.
- II. O orçamento de base zero permite alta comunicação entre as áreas, viabilizando a análise do custo-benefício de todos os projetos e atividades da organização.
- III. O orçamento de caixa exige a provisão de recursos ou margem de segurança, pois está exposto a imprecisões e erros e, dessa forma, pode reparar ou minimizar alguma diferença quanto ao previsto.

Estão corretas as afirmativas

- A) I e II, apenas.
- B) II e III, apenas.
- C) I e III, apenas.
- D) I, II e III.

QUESTÃO 34

Com relação às funções e à estrutura das Demonstrações de Resultado do Exercício – DREs utilizadas nas empresas, assinale a alternativa incorreta.

- A) Nas DREs, um aumento no caixa não implica lucro.
- B) Mostram o resumo anual, ou outro período de despesas e receitas.
- C) Iniciam-se com os custos fixos e despesas diretas, e ao final têm a soma das receitas.
- D) Apresentam as ocorrências que geram alteração no patrimônio líquido da organização.

QUESTÃO 35

Ao se estruturar a redação do texto de um formulário, deve-se observar as seguintes regras, exceto:

- A) Dar ênfase ao uso de título, proporcionando a pronta identificação do formulário e sua função.
- B) Valorizar a clara definição dos termos empregados, prevenindo-se erros de interpretação do formulário e confusões no preenchimento.
- C) Enfocar o registro de série de impressão e data, contribuindo com o controle e com a visualização, pelo usuário, da vigência ou não do modelo do formulário.
- D) Reforçar a aplicação do uso de siglas, sinais e abreviaturas, reduzindo o volume textual, tornando mais ágil a leitura e gerando economia de impressões.

QUESTÃO 36

A visão e o entendimento dos custos, o controle e a apuração são ações fundamentais para a segurança patrimonial.

A esse respeito, numere a COLUNA II de acordo com a COLUNA I, relacionando o mecanismo de apuração de custos a seus respectivos elementos e atribuições.

COLUNA I

- 1. Acumulação
- 2. Classificação
- 3. Apropriação

COLUNA II

- () Elementos de custo relacionados a tempo, volume de produção, tipo ou área de responsabilidade. Contabilidade de custo integrada à contabilidade geral da empresa.
- () Atribuição dos custos à produção, com apuração dos custos unitários em seguida. Unidades produzidas, homens-hora, custo primário.
- () Controle de mão de obra, inventários, previsões e despesas antecedentes.

Assinale a sequência correta.

- A) 1 2 3
- B) 2 3 1
- C) 3 1 2
- D) 1 3 2

QUESTÃO 37

Minimizar o investimento em estoques, ajustar o planejamento de produção e aumentar o uso eficiente dos recursos financeiros nas operações e atividades da organização são

- A) metas do sistema de custeio direto.
- B) funções da administração de estoques.
- C) princípios da administração de materiais.
- D) objetivos da centralização do armazenamento.

QUESTÃO 38

Nas ações e práticas de arquivos, incluindo-se as atividades com correspondências e documentos, estão incluídas as seguintes rotinas de expedição, exceto:

- A) Separar documentos originais de cópias
- B) Conferir se há folhas ou anexos suficientes
- C) Arquivar fichas de protocolo em disposição numérica
- D) Enumerar e preencher a data nos originais e nas cópias

QUESTÃO 39

A elaboração dos instrumentos para identificação e a viabilidade de se localizar os documentos da instituição é a tarefa que dispõe todo o acervo arquivístico ao alcance das pessoas.

Nesse contexto, analise as afirmativas a seguir.

- I. A guia, o inventário, o catálogo e o repertório representam os gêneros fundamentais dos instrumentos de pesquisa.
- II. As tabelas de equivalência ou concordância auxiliam na orientação referente às paridades de notações antigas ou anteriores e das novas aplicadas.
- III. O sistema de arranjo, a natureza dos documentos, a disponibilidade de recursos e a adequação do tipo de instrumento para o objetivo são peças fundamentais para o planejamento da atividade, ou seja, da elaboração dos instrumentos de pesquisa.

Estão corretas as afirmativas

- A) I e II, apenas.
- B) II e III, apenas.
- C) I e III, apenas.
- D) I, II e III.

QUESTÃO 40

A visão sobre a atuação dos funcionários e as tendências quanto à avaliação de desempenho têm evoluído, e as organizações estão investindo no seu pessoal, no seu desenvolvimento, incentivando os talentos humanos.

Nesse contexto, analise as afirmativas a seguir e as relações propostas entre elas.

- I. A empresa busca melhorar as habilidades dos colaboradores, para o alcance de seus objetivos, de modo mais eficiente e otimizado. A avaliação de desempenho passa a ter um sentido mais abrangente, envolvendo novas e atuais perspectivas e elementos.

PORQUE

- II. Ser capaz de aprender e assimilar diferentes e novas práticas, conhecimentos e habilidades é um aspecto recente, uma competência pessoal desejável.

A respeito dessas afirmativas, assinale a alternativa correta.

- A) As afirmativas I e II são verdadeiras, e a II é uma justificativa da I.
- B) As afirmativas I e II são verdadeiras, e a I é uma justificativa da II.
- C) As afirmativas I e II são verdadeiras e não possuem relação causal.
- D) A afirmativa I é verdadeira, e a II é falsa.

FOLHA DE RESPOSTAS (VERSÃO DO CANDIDATO)

| | | | | | | | | | |
|----|--------------------------|--------------------------|--------------------------|--------------------------|----|--------------------------|--------------------------|--------------------------|--------------------------|
| 1 | A | B | C | D | 21 | A | B | C | D |
| | <input type="checkbox"/> | <input type="checkbox"/> | <input type="checkbox"/> | <input type="checkbox"/> | | <input type="checkbox"/> | <input type="checkbox"/> | <input type="checkbox"/> | <input type="checkbox"/> |
| 2 | A | B | C | D | 22 | A | B | C | D |
| | <input type="checkbox"/> | <input type="checkbox"/> | <input type="checkbox"/> | <input type="checkbox"/> | | <input type="checkbox"/> | <input type="checkbox"/> | <input type="checkbox"/> | <input type="checkbox"/> |
| 3 | A | B | C | D | 23 | A | B | C | D |
| | <input type="checkbox"/> | <input type="checkbox"/> | <input type="checkbox"/> | <input type="checkbox"/> | | <input type="checkbox"/> | <input type="checkbox"/> | <input type="checkbox"/> | <input type="checkbox"/> |
| 4 | A | B | C | D | 24 | A | B | C | D |
| | <input type="checkbox"/> | <input type="checkbox"/> | <input type="checkbox"/> | <input type="checkbox"/> | | <input type="checkbox"/> | <input type="checkbox"/> | <input type="checkbox"/> | <input type="checkbox"/> |
| 5 | A | B | C | D | 25 | A | B | C | D |
| | <input type="checkbox"/> | <input type="checkbox"/> | <input type="checkbox"/> | <input type="checkbox"/> | | <input type="checkbox"/> | <input type="checkbox"/> | <input type="checkbox"/> | <input type="checkbox"/> |
| 6 | A | B | C | D | 26 | A | B | C | D |
| | <input type="checkbox"/> | <input type="checkbox"/> | <input type="checkbox"/> | <input type="checkbox"/> | | <input type="checkbox"/> | <input type="checkbox"/> | <input type="checkbox"/> | <input type="checkbox"/> |
| 7 | A | B | C | D | 27 | A | B | C | D |
| | <input type="checkbox"/> | <input type="checkbox"/> | <input type="checkbox"/> | <input type="checkbox"/> | | <input type="checkbox"/> | <input type="checkbox"/> | <input type="checkbox"/> | <input type="checkbox"/> |
| 8 | A | B | C | D | 28 | A | B | C | D |
| | <input type="checkbox"/> | <input type="checkbox"/> | <input type="checkbox"/> | <input type="checkbox"/> | | <input type="checkbox"/> | <input type="checkbox"/> | <input type="checkbox"/> | <input type="checkbox"/> |
| 9 | A | B | C | D | 29 | A | B | C | D |
| | <input type="checkbox"/> | <input type="checkbox"/> | <input type="checkbox"/> | <input type="checkbox"/> | | <input type="checkbox"/> | <input type="checkbox"/> | <input type="checkbox"/> | <input type="checkbox"/> |
| 10 | A | B | C | D | 30 | A | B | C | D |
| | <input type="checkbox"/> | <input type="checkbox"/> | <input type="checkbox"/> | <input type="checkbox"/> | | <input type="checkbox"/> | <input type="checkbox"/> | <input type="checkbox"/> | <input type="checkbox"/> |
| 11 | A | B | C | D | 31 | A | B | C | D |
| | <input type="checkbox"/> | <input type="checkbox"/> | <input type="checkbox"/> | <input type="checkbox"/> | | <input type="checkbox"/> | <input type="checkbox"/> | <input type="checkbox"/> | <input type="checkbox"/> |
| 12 | A | B | C | D | 32 | A | B | C | D |
| | <input type="checkbox"/> | <input type="checkbox"/> | <input type="checkbox"/> | <input type="checkbox"/> | | <input type="checkbox"/> | <input type="checkbox"/> | <input type="checkbox"/> | <input type="checkbox"/> |
| 13 | A | B | C | D | 33 | A | B | C | D |
| | <input type="checkbox"/> | <input type="checkbox"/> | <input type="checkbox"/> | <input type="checkbox"/> | | <input type="checkbox"/> | <input type="checkbox"/> | <input type="checkbox"/> | <input type="checkbox"/> |
| 14 | A | B | C | D | 34 | A | B | C | D |
| | <input type="checkbox"/> | <input type="checkbox"/> | <input type="checkbox"/> | <input type="checkbox"/> | | <input type="checkbox"/> | <input type="checkbox"/> | <input type="checkbox"/> | <input type="checkbox"/> |
| 15 | A | B | C | D | 35 | A | B | C | D |
| | <input type="checkbox"/> | <input type="checkbox"/> | <input type="checkbox"/> | <input type="checkbox"/> | | <input type="checkbox"/> | <input type="checkbox"/> | <input type="checkbox"/> | <input type="checkbox"/> |
| 16 | A | B | C | D | 36 | A | B | C | D |
| | <input type="checkbox"/> | <input type="checkbox"/> | <input type="checkbox"/> | <input type="checkbox"/> | | <input type="checkbox"/> | <input type="checkbox"/> | <input type="checkbox"/> | <input type="checkbox"/> |
| 17 | A | B | C | D | 37 | A | B | C | D |
| | <input type="checkbox"/> | <input type="checkbox"/> | <input type="checkbox"/> | <input type="checkbox"/> | | <input type="checkbox"/> | <input type="checkbox"/> | <input type="checkbox"/> | <input type="checkbox"/> |
| 18 | A | B | C | D | 38 | A | B | C | D |
| | <input type="checkbox"/> | <input type="checkbox"/> | <input type="checkbox"/> | <input type="checkbox"/> | | <input type="checkbox"/> | <input type="checkbox"/> | <input type="checkbox"/> | <input type="checkbox"/> |
| 19 | A | B | C | D | 39 | A | B | C | D |
| | <input type="checkbox"/> | <input type="checkbox"/> | <input type="checkbox"/> | <input type="checkbox"/> | | <input type="checkbox"/> | <input type="checkbox"/> | <input type="checkbox"/> | <input type="checkbox"/> |
| 20 | A | B | C | D | 40 | A | B | C | D |
| | <input type="checkbox"/> | <input type="checkbox"/> | <input type="checkbox"/> | <input type="checkbox"/> | | <input type="checkbox"/> | <input type="checkbox"/> | <input type="checkbox"/> | <input type="checkbox"/> |

AO TRANSFERIR ESSAS MARCAÇÕES PARA A FOLHA DE RESPOSTAS,
OBSERVE AS INSTRUÇÕES ESPECÍFICAS DADAS NA CAPA DA PROVA.

USE CANETA ESFEROGRÁFICA AZUL OU PRETA.



Segundo a Lei nº 9.610/1998, reproduções de natureza não pedagógicas das questões desta prova estão proibidas.

TÉCNICO DE LABORATÓRIO – BIOLOGIA

Código: 202

ABRA APENAS QUANDO AUTORIZADO.

Leia com atenção as seguintes instruções:

- Este caderno contém as **40 questões** da Prova Objetiva, composta por: 10 questões de Língua Portuguesa, 5 questões de Informática Básica, 10 questões de Legislação, e 15 questões de Conhecimentos Específicos.
Caso haja algum problema em seu caderno de provas, informe ao aplicador de provas.
- As informações / instruções dadas no dia da prova complementam o edital.
- Durante as provas, não é permitido o uso de dispositivos eletrônicos de qualquer tipo e celulares, assim como relógios e materiais de consulta.
- Use a Folha de Respostas (versão do candidato) reproduzida no final do Caderno de Provas apenas para marcar seu Gabarito. Esse rascunho somente poderá ser destacado pelo aplicador de provas.
- Na **Folha de Respostas**:
 - Confira seu nome, número de inscrição e cargo.
 - Assine, A TINTA, no espaço próprio indicado.
 - Transcreva a seguinte frase, com sua caligrafia usual, mantendo as letras maiúsculas e minúsculas, desconsiderando aspas e autoria:
- A Folha de Respostas deve ser assinada e não deve ser dobrada, amassada ou rasurada.
- Ao transferir as respostas para a Folha de Respostas:
 - Use somente caneta AZUL ou PRETA, preenchendo toda a área reservada à letra correspondente à resposta solicitada em cada questão, conforme o modelo:

| | | | | |
|----|-------------------------------------|--------------------------|--------------------------|--------------------------|
| 01 | A | B | C | D |
| | <input checked="" type="checkbox"/> | <input type="checkbox"/> | <input type="checkbox"/> | <input type="checkbox"/> |
 - Assinale somente uma alternativa em cada questão e não deixe nenhuma questão sem resposta.
- Sua prova e Folha de Respostas poderão ser entregues somente após o término do período de sigilo: 1 hora.
- Sua resposta **NÃO** será computada se houver marcação de mais de uma alternativa, questões não assinaladas ou rasuradas.
- Ao entregar sua prova, recolha seus objetos, deixe a sala de provas e, em seguida, o prédio. Até deixar as dependências do local de prova, continuam válidas as proibições do uso de aparelhos eletrônicos e celulares, bem como não lhe é mais permitido o uso dos sanitários.
- O Caderno de Questões da Prova Objetiva e os gabaritos serão divulgados no endereço eletrônico www.gestaodeconcursos.com.br, no dia subsequente à data da prova.

“Perder-se também é caminho.”

Clarice Lispector

**DURAÇÃO TOTAL DAS PROVAS,
INCLUINDO TRANSCRIÇÃO DA
FOLHA DE RESPOSTAS:
QUATRO HORAS**

Escreva seu nome completo de forma legível.

NOME: _____

INSTRUÇÃO: Leia o texto a seguir para responder às questões 1 e 2.

Glamorizar o passado é se deixar enganar

Prefiro a caneta ao teclado — apesar da minha letra, que às vezes nem eu entendo —, o papel à tela, o livro físico ao digital. Não é saudosismo e muito menos uma vilanização dos avanços tecnológicos, que ao mesmo tempo são uma bênção e uma maldição. Não glamorizo o passado como sendo melhor: o melhor vive na nossa imaginação [...].

Mantenho o melhor de antes — que gravei no meu HD apertando o rec e o play — e aproveito o melhor de hoje. O que posso escolher escolho, dentro de uma lista nada coerente entre o antigo e o novo, com a vantagem de carregar comigo o passado. A nossa história é um caminho irreversível, saber viver o presente é o melhor dos mundos.

KORICH, Becky S. Glamorizar o passado é se deixar enganar. **Folha de S.Paulo**. Colunas, 11 set. 2023. Disponível em: <https://www1.folha.uol.com.br/colunas/becky-korich/2023/09/glamorizar-o-passado-e-se-deixar-enganar.shtml>. Acesso em: 11 set. 2023. [Fragmento]

QUESTÃO 1

De acordo com as informações apresentadas, pode-se inferir que, para a autora,

- A) o passado apresentava condições melhores que o futuro, que é desesperançoso.
- B) o presente supera o passado devido aos avanços tecnológicos que se apresentam.
- C) o antigo e o novo convivem juntos, e ela aproveita o que há de melhor de cada um.
- D) o saudosismo do passado é o que alimenta a busca por saber viver bem o presente.

QUESTÃO 2

Releia este trecho.

“Não **glamorizo** o passado como sendo melhor: o melhor vive na nossa imaginação [...]”.

O termo em destaque nesse fragmento indica que a autora

- A) não atribui ao passado valor excessivo, mais atraente que o presente.
- B) desconsidera o passado como sendo importante para o futuro.
- C) ignora que o passado foi a melhor época da sua vida.
- D) apaga as lembranças positivas em suas memórias.

QUESTÃO 3

Gaúcho resgatou mais de 100 pessoas de enchente com pequeno barco: ‘fiquei 23 horas em cima do rio’

Mais de 100 pessoas foram salvas por apenas um homem durante a tragédia que atingiu o Vale do Taquari, no Rio Grande do Sul, no começo da semana passada. Com um pequeno barco, o gaúcho Sérgio Benini, morador de Roca Sales, conseguiu resgatar vários vizinhos da enchente que atingiu a cidade, uma das mais afetadas.

“Eu fiquei 23 horas em cima do rio. Nós arrancamos o telhado à mão. As pessoas subiam no segundo piso, no forro embaixo do telhado, porque estava chovendo. E lá eles só gritavam socorro, socorro, socorro”, relembrou ele ao Fantástico.

[...] Conforme a água foi ganhando força pelas ruas da cidade, começaram os pedidos por ajuda. Das janelas, moradores começaram a registrar a força da água.

PORTAL G1. Gaúcho resgatou mais de 100 pessoas de enchente com pequeno barco: ‘fiquei 23 horas em cima do rio’. **Portal G1**. Disponível em: <https://g1.globo.com/fantastico/noticia/2023/09/11/gaucha-resgatou-mais-de-100-pessoas-de-enchente-com-pequeno-barco-fiquei-23-horas-em-cima-do-rio.ghhtml>. Acesso em: 11 set. 2023. [Fragmento]

As diferentes funções da linguagem atendem a propósitos específicos da comunicação. Considerando o texto, a função da linguagem a ele associada é aquela que

- A) valoriza a figura de heróis modernos, reais, sendo classificada como poética.
- B) transmite informações com foco no assunto, classificando-se como referencial.
- C) busca convencer o leitor sobre um posicionamento, sendo chamada de apelativa.
- D) estabelece um diálogo indireto com o leitor do texto, sendo classificada como fática.

QUESTÃO 4

Paz e guerra

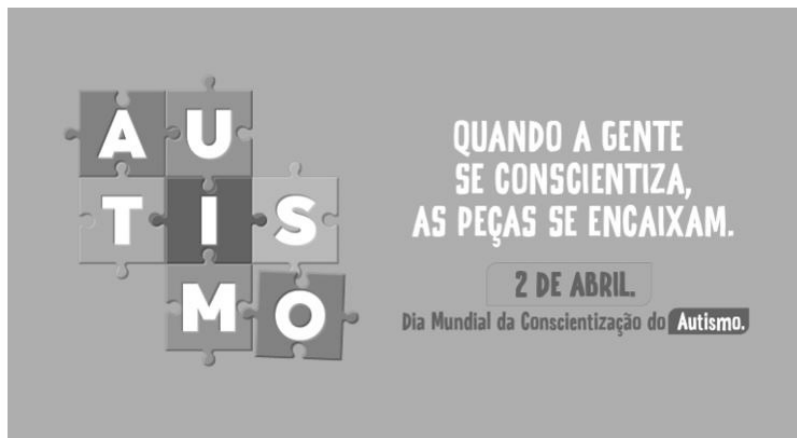
Eu estava atrasado para a guerra; tive de tomar um táxi. Uma contrariedade: com o recente aumento do preço da corrida, aquilo era uma despesa imprevista e inoportuna, um abalo em meu orçamento. Contudo, cheguei justo a tempo de marcar o ponto, evitando assim transtornos maiores.

SCLIAR, Moacyr. Paz e guerra. *In*: **Conto Brasileiro**. Disponível em: <https://contobrasileiro.com.br/paz-e-guerra-conto-de-moacyr-scliar/>. Acesso em: 6 set. 2023. [Fragmento]

Nesse conto de Moacyr Scliar, o sinal de dois-pontos tem a função de introduzir uma

- A) advertência.
- B) dúvida.
- C) explicação.
- D) enumeração.

QUESTÃO 5



Disponível em: <https://prefeitura.pbh.gov.br/noticias/bh-promove-campanha-e-acoes-de-visibilidade-no-mes-de-conscientizacao-do-autismo>. Acesso em: 7 set. 2023.

Tendo em vista os elementos verbais e não verbais do cartaz, infere-se que seu objetivo é

- A) incentivar a busca de tratamento para pessoas diagnosticadas com transtorno do espectro autista.
- B) promover a visibilidade e a inclusão de pessoas com transtorno do espectro autista na sociedade.
- C) sugerir a definição de uma data para celebrar a inclusão de pessoas com autismo no meio social.
- D) defender a luta por maior visibilidade das pessoas com autismo nos ambientes governamentais.

QUESTÃO 6



Disponível em: <https://tirasarmandinho.tumblr.com>. Acesso em: 6 set. 2023.

Na construção da tirinha, foi usada linguagem

- A) corporal, pois o personagem utiliza todas as partes do corpo para parabenizar a mulher em uma data comemorativa.
- B) simbólica, pois as flores representam um objeto de desejo feminino, reproduzindo uma visão superficial das mulheres.
- C) verbo-visual, pois o texto escrito está em elipse, sendo inferido pelo contexto em que os personagens estão inseridos.
- D) visual, pois a mensagem comunicativa pode ser compreendida mesmo sem uso de palavras, mas apenas de imagens.

QUESTÃO 7

Podemos alimentar o discurso de ódio sem perceber

As redes sociais se tornam convenientes para quem produz falas discriminatórias e intolerantes porque elas conseguem interpretar o comportamento dos usuários, recomendando automaticamente conteúdos alinhados com os interesses deles. As redes criam, portanto, uma audiência para oradores de discursos de ódio que normalmente teriam pouco alcance.

Ocorre que, também por essa razão, as mesmas ações que contribuem para a propagação de um vídeo, foto ou meme, como as curtidas e compartilhamentos, colaboram para disseminar essas mensagens problemáticas. Entender isso é importante para evitarmos propagar o discurso que queremos combater.

Explico: por causa de como as plataformas funcionam, quanto mais interagirmos com a postagem problemática, maior será a audiência atingida por ela e mais perigosa esta mensagem será. Isso acontece mesmo quando compartilhamos uma manifestação de ódio como forma de denúncia ou publicamos um comentário criticando o conteúdo.

[...]

Infelizmente, mesmo com boas intenções e sem perceber, podemos acabar ajudando a disseminar posts que depreciam pessoas por sua etnia, gênero, orientação sexual ou outro marcador social. Isso é profundamente perigoso, pois quanto mais pessoas são alcançadas e têm suas opiniões formadas por discursos de ódio, mais provável se torna que algumas delas pratiquem atos concretos de discriminação e violência contra minorias sociais e grupos vulneráveis.

SALVADOR, J. P. F. Podemos alimentar o discurso de ódio sem perceber. **Hoje em Dia**. Opinião, 18 out. 2023. Disponível em: <https://www.hojeemdia.com.br/opiniao/opiniao/podemos-alimentar-o-discurso-de-odio-sem-perceber-1.984113>. Acesso em: 23 out. 2023. [Fragmento]

Em seu texto, o autor argumenta que

- A) ter cuidado com conteúdos consumidos e compartilhados nas redes sociais é uma forma de evitar a disseminação de discursos de ódio.
- B) alimentar a disseminação de discursos de ódio é um dos objetivos das plataformas de redes sociais, devido ao engajamento.
- C) acabar com os discursos de ódio nas redes sociais requer que os usuários façam comentários negativos nos posts.
- D) disseminar discursos de ódio nas redes sociais é uma característica dos produtores de conteúdo que têm pouco alcance.

QUESTÃO 8

Codinome Beija-flor

Pra que mentir
Fingir que perdoou
Tentar ficar amigos sem rancor
A emoção acabou
Que coincidência é o amor
A nossa música nunca mais tocou

Pra que usar de tanta educação
Pra destilar terceiras intenções
Desperdiçando o meu mel
Devagarzinho, flor em flor
Entre os meus inimigos, beija-flor

CAZUZA. Codinome Beija-flor. In: **Vagalume**. Disponível em: <https://www.vagalume.com.br/cazuza/codinome-beija-flor.html>. Acesso em: 6 set. 2023. [Fragmento]

As palavras podem ser formadas por diferentes processos. Um deles é a composição por justaposição, em que dois termos são unidos um ao outro, sem perda de seus elementos.

Na canção de Cazuzza, ocorre justaposição na formação da palavra

- A) destilar.
- B) inimigos.
- C) devagarzinho.
- D) beija-flor.

QUESTÃO 9

A disciplina do amor

Foi na França, durante a Segunda Grande Guerra: um jovem tinha um cachorro que todos os dias, pontualmente, ia esperá-lo voltar do trabalho. Postava-se na esquina, um pouco antes das seis da tarde. Assim que via o dono, ia correndo ao seu encontro e na maior alegria acompanhava-o com seu passinho **saltitante** de volta à casa. A vila inteira já conhecia o cachorro e as pessoas que passavam faziam-lhe festinhas e ele correspondia, chegava até a correr todo animado atrás dos mais íntimos. Para logo voltar atento ao seu posto e ali ficar sentado até o momento em que seu dono apontava lá longe.

TELLES, Lygia Fagundes. A disciplina do amor. In: **Conto Brasileiro**. Disponível em: <https://contobrasileiro.com.br/a-disciplina-do-amor-conto-de-lygia-fagundes-telles/>. Acesso em: 6 set. 2023. [Fragmento]

Assinale a alternativa em que o termo destacado pertença, no contexto, à mesma classe de palavras daquela em destaque no texto.

- A) “Foi na França, durante a Segunda **Grande** guerra [...]”.
- B) “Assim que via o dono, ia correndo ao seu **encontro** [...]”.
- C) “[...] até o momento em que seu **dono** apontava lá longe.”
- D) “Postava-se na esquina, um **pouco** antes das seis da tarde.”

QUESTÃO 10

Escola em tempo integral para uma educação integral

O Brasil é um dos países mais desiguais do mundo, tanto na área econômica como na social, e continuará sendo enquanto a oferta da educação de qualidade permanecer desigual. Sem oportunidades iguais de acesso a um ensino de qualidade para todas as crianças e adolescentes, jamais ultrapassaremos os umbrais da mediocridade. Por isso, termos as escolas funcionando em período estendido é uma das poucas quase-unanidades, como demonstram diversas pesquisas.

VENTURI, Jacir. Escola em tempo integral para uma educação integral. **Gazeta do povo**. Opinião, 31 ago. 2023. Disponível em: <https://www.gazetadopovo.com.br/opiniaio/artigos/escola-em-tempo-integral-para-uma-educacao-integral/>. Acesso em: 6 set. 2023. [Fragmento]

No texto, observa-se o sentido conotativo em:

- A) “Umbrais da mediocridade”, que indica uma limitação do Brasil no avanço da qualidade do ensino escolar.
- B) “Ensino de qualidade”, que alude às escolas particulares, às quais a maior parte da população não tem acesso.
- C) “Diversas pesquisas”, que indefine propositadamente as pesquisas, evidenciando ausência de embasamento.
- D) “Oportunidades iguais”, que ironiza o fato de que a igualdade da educação no Brasil não é possível para a grande massa.

INFORMÁTICA BÁSICA

QUESTÃO 11

A impressão de apresentações é uma etapa importante na comunicação de informações por meio do Microsoft PowerPoint. Analise as afirmativas a seguir, relacionadas à impressão de apresentações no Microsoft PowerPoint para office 365.

- I. A opção de imprimir *slides* selecionados permite selecionar partes de cada *slide* a ser impresso.
- II. Pode-se selecionar a impressão de um intervalo de *slides*, como imprimir todos os *slides*, exceto a capa da apresentação.
- III. A opção de anotações do apresentador permite imprimir a apresentação juntamente com as anotações feitas pelo elaborador da apresentação.

Estão corretas as afirmativas

- A) I e II, apenas.
- B) I e III, apenas.
- C) II e III, apenas.
- D) I, II e III.

QUESTÃO 12

Tendo em vista os tipos de gráficos disponíveis no Microsoft Excel para office 365, numere a COLUNA II de acordo com a COLUNA I, associando os conceitos aos tipos de gráficos correspondentes.

COLUNA I

- 1. Gráfico de pizza
- 2. Gráfico de linhas

COLUNA II

- () Mostram o tamanho dos itens, em um série de dados, proporcional à soma desses itens.
- () Podem mostrar dados contínuos ao longo do tempo em um eixo com escalas iguais e, portanto, são ideais para mostrar tendências de dados em intervalos iguais, como meses, trimestres ou anos fiscais.
- () Pontos de dados deste gráfico são exibidos como uma porcentagem do total de dados.

Assinale a sequência correta.

- A) 2 1 2
- B) 1 2 1
- C) 1 1 2
- D) 2 2 1

QUESTÃO 13

O sistema operacional Windows 10 oferece uma variedade de configurações que podem ser personalizadas por meio do Painel de Controle. Analise as afirmativas a seguir, relacionadas às configurações básicas do Windows 10.

- I. No Painel de Controle, o usuário pode personalizar as configurações de rede no Windows 10, como a configuração de uma conexão Wi-Fi.
- II. No Painel de Controle, é possível alterar a resolução da tela, ajustar as configurações de vídeo e gerenciar dispositivos de impressão conectados ao computador.
- III. O Painel de Controle é o local principal para a instalação e a remoção de programas e aplicativos no Windows 10.

Estão corretas as afirmativas

- A) I e II, apenas.
- B) I e III, apenas.
- C) II e III, apenas.
- D) I, II e III.

QUESTÃO 14

Existem muitos tipos de ataques a redes, cada um visando a explorar vulnerabilidades específicas para comprometer a segurança da rede.

O ataque que visa a sobrecarregar um servidor ou rede com um volume massivo de tráfego, tornando-o inacessível para os usuários legítimos, é chamado de

- A) Ataque de Envenenamento de ARP.
- B) Ataque de Negação de Serviço (DDoS).
- C) Ataque de *Phishing*.
- D) Ataque de Força Bruta.

QUESTÃO 15

A internet é uma rede global que conecta bilhões de dispositivos em todo o mundo, permitindo a troca de informações e recursos.

Com relação às noções básicas de internet, assinale a alternativa correta.

- A) A internet é uma rede de computadores exclusiva para uso governamental e militar.
- B) HTTP é um protocolo de segurança usado para criptografar todas as comunicações na internet, garantindo a privacidade de todos os usuários.
- C) Um endereço IP (Internet Protocol) é um identificador exclusivo atribuído a um dispositivo conectado à internet para facilitar a comunicação e a identificação na rede.
- D) A World Wide Web (WWW) também pode ser chamada de internet.

LEGISLAÇÃO

QUESTÃO 16

Em relação aos direitos e deveres individuais e coletivos previstos na Constituição da República Federativa do Brasil de 1988, assinale a alternativa incorreta.

- A) É assegurada, mediante o pagamento de taxa, a obtenção de certidões em repartições públicas para defesa de direitos.
- B) As entidades associativas, quando expressamente autorizadas, têm legitimidade para representar seus filiados judicial ou extrajudicialmente.
- C) É livre a expressão da atividade intelectual, artística, científica e de comunicação, independentemente de censura ou licença.
- D) A pena será cumprida em estabelecimentos distintos, de acordo com a natureza do delito, a idade e o sexo do apenado.

QUESTÃO 17

Sobre as vedações ao servidor público, previstas no Decreto nº 1.171, de 22 de junho de 1994, que aprova o Código de Ética Profissional do Servidor Público Civil do Poder Executivo Federal, analise as afirmativas a seguir.

- I. É vedado ao servidor exercer atividade profissional aética ou ligar o seu nome a empreendimentos de cunho duvidoso.
- II. É vedado ao servidor público retirar da repartição pública livro ou bem pertencente ao patrimônio público, salvo se for autorizado pelo superior hierárquico.
- III. É vedado ao servidor público embriagar-se, ainda que esporadicamente.

Está(ão) correta(s) a(s) afirmativa(s)

- A) I, apenas.
- B) II, apenas.
- C) I e II, apenas.
- D) I, II e III.

QUESTÃO 18

O credenciamento, de acordo com as previsões da Lei nº 14.133, de 1º de abril de 2021, conhecida como Lei de Licitações e Contratos Administrativos, poderá ser usado na seguinte hipótese de contratação:

- A) Paralela e excludente
- B) Com seleção a critério de terceiros
- C) Em mercados sem flutuação
- D) De particular para provimento de atividade do Poder Público

QUESTÃO 19

Conforme disposto na Lei nº 13.709, de 14 de agosto de 2018, conhecida como Lei Geral de Proteção de Dados Pessoais (LGPD), o término do tratamento de dados pessoais ocorrerá nas seguintes hipóteses, exceto:

- A) Verificação de que a finalidade foi alcançada
- B) Cumprimento de obrigação legal ou regulatória pelo controlador
- C) Fim do período de tratamento
- D) Determinação da autoridade nacional, quando houver violação ao disposto na LGPD

QUESTÃO 20

De acordo com a Lei nº 12.527, de 18 de novembro de 2011, conhecida como Lei de Acesso à Informação, não constitui conduta ilícita que enseja responsabilidade do agente público ou militar:

- A) Impor sigilo à informação para obter proveito pessoal ou de terceiro, ou para fins de ocultação de ato ilegal cometido por si ou por outrem
- B) Ocultar da revisão de autoridade superior competente informação sigilosa para beneficiar a si ou a outrem, ou em prejuízo de terceiros
- C) Destruir ou subtrair, por qualquer meio, documentos concernentes a possíveis violações de direitos humanos por parte de agentes do Estado
- D) Agir com negligência ou imprudência na análise das solicitações de acesso à informação

QUESTÃO 21

Segundo a Lei nº 8.112, de 11 de dezembro de 1990, que dispõe sobre o regime jurídico dos servidores públicos civis da União, das autarquias e das fundações públicas federais, não é uma forma de provimento de cargo público a

- A) ascensão.
- B) recondução.
- C) reversão.
- D) promoção.

QUESTÃO 22

Segundo o Estatuto da Universidade Federal dos Vales do Jequitinhonha e Mucuri, não é uma competência do diretor da Unidade Acadêmica:

- A) Submeter à apreciação da Congregação o orçamento anual e as prioridades para aplicação dos recursos
- B) Estabelecer as normas de afastamento de docentes, para fins de capacitação e cooperação
- C) Planejar e gerir os recursos de pessoal, orçamentários, financeiros, materiais e patrimoniais sob sua responsabilidade
- D) Convocar e presidir as reuniões da Congregação, com voto comum e de qualidade

QUESTÃO 23

Sobre os currículos e as normas previstas no Estatuto da Universidade Federal dos Vales do Jequitinhonha e Mucuri, analise as afirmativas a seguir.

- I. Os conteúdos dos componentes curriculares relacionados às disciplinas serão especificados em ementas e programas, com carga horária e créditos pré-definidos.
- II. O Conselho de Curadores disporá sobre a criação, a organização, o funcionamento e a extinção dos cursos de graduação.
- III. Qualquer que seja a forma de admissão, deverá o discente, nas datas fixadas pelo calendário acadêmico, realizar seu registro, conforme especificado no edital do processo seletivo correspondente.

Está(ão) correta(s) a(s) afirmativa(s)

- A) I, apenas.
- B) II, apenas.
- C) I e III, apenas.
- D) I, II e III.

QUESTÃO 24

De acordo com o Regimento Geral da Universidade Federal dos Vales do Jequitinhonha e Mucuri, são órgãos das Unidades Acadêmicas, exceto:

- A) Congregação
- B) Diretoria
- C) Conselho universitário
- D) Colegiado de curso

QUESTÃO 25

Sobre as normas relativas ao funcionamento dos órgãos colegiados previstas no Regimento Geral da Universidade Federal dos Vales do Jequitinhonha e Mucuri, assinale com V as afirmativas verdadeiras e com F as falsas.

- () As reuniões dos colegiados serão convocadas pelo respectivo Presidente, com antecedência de 48 (quarenta e oito) horas para as reuniões ordinárias.
- () O comparecimento dos membros nas reuniões de órgãos colegiados é facultativo.
- () Serão consideradas aprovadas as propostas que obtiverem maioria simples de votos dos presentes, salvo disposição expressa no Estatuto ou no Regimento Geral.
- () Os representantes do corpo técnico-administrativo serão escolhidos pelos seus pares em processo organizado por eles ou pelas respectivas entidades representativas, por sufrágio secreto e universal.

Assinale a sequência correta.

- A) V V F V
- B) F F V V
- C) F F V F
- D) V V F F

CONHECIMENTOS ESPECÍFICOS

TÉCNICO DE LABORATÓRIO – BIOLOGIA

QUESTÃO 26

Na área de Microbiologia, é necessário o preparo de meio de cultura sólido em placas de petri para as aulas práticas com bactérias. Considere que, para a aula de isolamento bacteriano, foi solicitado o preparo de 50 placas com meio de cultura sólido.

Para o preparo do material, é recomendado esterilizar

- A) o meio de cultura já nas placas de petri de vidro, e ambos levados para a estufa de esterilização.
- B) as placas de petri de vidro na estufa de esterilização, e o meio de cultura na autoclave.
- C) as placas de petri de vidro na autoclave, e o meio de cultura na estufa de esterilização.
- D) o meio de cultura já nas placas de petri de vidro, e ambos levados para a autoclave.

QUESTÃO 27

Considere que, após o preparo das placas com meio de cultura, o técnico acompanhou a aula sobre isolamento bacteriano. Nessa aula, os alunos foram treinados para manipular as placas de petri no fluxo laminar. Antes de manipular o material, foi necessário preparar o fluxo laminar para o trabalho.

Para isso, foi feita a

- A) limpeza da superfície de trabalho com álcool 70%.
- B) desinfecção com água sanitária 5% da superfície de trabalho e dos materiais a serem colocados no fluxo laminar.
- C) esterilização do ar do fluxo laminar com luz ultravioleta por uma hora.
- D) abertura das placas com meio de cultura antes de colocá-las no fluxo laminar.

QUESTÃO 28

Para participar da aula prática de Microbiologia, os alunos e o técnico do laboratório precisaram seguir as regras de biossegurança.

Entre as regras do laboratório, é exigido

- A) usar jaleco como equipamento de proteção coletiva.
- B) colocar luvas descartáveis para entrar no laboratório.
- C) equipar-se com óculos de sol como equipamento de proteção individual.
- D) higienizar as mãos com água e sabão, e depois com antisséptico.

QUESTÃO 29

As aulas práticas são realizadas em laboratórios de ensino. Mas a universidade possui diversos outros laboratórios, que são usados para a pesquisa.

Os laboratórios de ensino apresentam diferenças em relação aos laboratórios de pesquisa acerca das exigências de biossegurança, porque

- A) nos laboratórios de pesquisa não é exigido acesso limitado durante os procedimentos, podendo receber visitantes escolares a qualquer momento.
- B) nos laboratórios de pesquisa nível 3, é exigido o uso de cabines de segurança biológica para manipulação de agentes etiológicos.
- C) os laboratórios de ensino se enquadram no nível 1 de biossegurança, no qual é permitido trabalhar com agentes causadores de doenças, como *Bacillus anthracis*.
- D) os laboratórios de ensino permitem a presença de bancadas permeáveis e de madeira porosa.

QUESTÃO 30

Considere que a universidade recebeu doação de amostras de seres fotossintetizantes para o desenvolvimento de aulas práticas. Para verificar a viabilidade dos seres vivos, o técnico do laboratório coletou uma amostra para observar no microscópio.

Para realizar a observação da amostra, o técnico

- A) colocou a amostra em cima da lamínula e cobriu com a lâmina.
- B) focalizou a amostra primeiramente na objetiva de 4X.
- C) adicionou corante verde na amostra para a visualização da mesma.
- D) aqueceu a amostra a 50 °C antes de focalizá-la no microscópio.

QUESTÃO 31

Considere que, após a visualização no microscópio do ser fotossintetizante, o técnico ficou curioso para saber de qual microrganismo se tratava.

Ao mostrar uma foto do material para o professor responsável pelo laboratório de aulas práticas, este explicou que se tratava de um(a)

- A) alga, ser procariótico unicelular, como as do grupo das clorófitas.
- B) planta unicelular, como as briófitas.
- C) cianobactéria, ser procariótico, como as do gênero *Nostoc*.
- D) protozoário heterotrófico, como as euglenas.

QUESTÃO 32

Considere que, em um determinado experimento, era necessário utilizar uma solução 1% de glicose recém-preparada.

Um aluno de iniciação científica pediu ajuda ao técnico para o preparo da solução, para a qual foi necessário

- A) colocar 1 g de glicose em 0,5 L de água e completar o volume para 1 L utilizando uma proveta.
- B) pesar 1 g de glicose e colocar em 1 mL de água medida por meio da proveta.
- C) colocar 1 g de glicose em 50 mL de água e completar o volume para 100 mL utilizando um balão volumétrico.
- D) pesar 1 g de glicose e colocar em 10 mL de água medida por meio do balão volumétrico.

QUESTÃO 33

Considere que, em uma aula de sistemas humanos, o professor responsável pela disciplina conseguiu um coração bovino para a aula prática de sistema circulatório. Para essa aula, o professor pediu ao técnico que organizasse o laboratório.

Pensando nisso, o técnico separou para a aula

- A) água sanitária, para a lavagem das mãos após os alunos manipularem o material sem o uso de luva e jaleco.
- B) álcool 70%, para descontaminar as bancadas que podem ficar sujas pelo sangue desse animal invertebrado.
- C) luvas descartáveis e descarte de lixo contaminado, caso os alunos quisessem pegar o coração para sentir o músculo cardíaco do órgão.
- D) lâminas de bisturi e descarte de lixo comum, caso os alunos quisessem abrir o coração para visualizar os dois átrios esquerdos e os dois ventrículos direitos.

QUESTÃO 34

Num estudo sobre a reprodução das plantas, foram exploradas, nas aulas práticas, as estruturas das flores. No estereoscópio, o professor pediu para o técnico colocar um corte da estrutura feminina da flor que dá origem ao fruto e, no microscópio, a estrutura masculina da flor que possui o grão de pólen.

Assim, a aula prática foi preparada da seguinte forma:

- A) Estereoscópio com o corte transversal do ovário e microscópio com a antera
- B) Estereoscópio com o estigma e microscópio com o corte transversal do ovário
- C) Estereoscópio com a antera e microscópio com o óvulo
- D) Estereoscópio com o óvulo e microscópio com o estigma

QUESTÃO 35

Considere que, após uma aula de divisão celular com o uso de raiz de cebola, foi possível encontrar alguns microscópios ainda com lâminas, as quais os alunos esqueceram de retirar e desligar o microscópio. Um dos microscópios estava com uma seta em uma célula que apresentava os cromossomos se separando.

A fase da divisão celular que a seta do microscópio estava destacando era a

- A) anáfase da meiose I.
- B) anáfase da mitose.
- C) metáfase da meiose I.
- D) metáfase da mitose.

QUESTÃO 36

Considere que, na semana de apresentação de trabalhos da iniciação científica da universidade, um aluno esqueceu na sala de aula o pôster que ele usou para apresentar seu trabalho para a comunidade acadêmica. O pôster apresentava como destaque a estrutura presente nesta imagem.



Disponível em: <https://www.istockphoto.com/br>. Acesso em: 25 ago. 2023.

O trabalho do aluno era sobre o estudo da

- A) quimiossíntese, uma vez que a imagem representa uma levedura capaz de produzir o seu próprio alimento.
- B) fermentação, uma vez que a imagem representa uma bactéria capaz de realizar fermentação alcoólica.
- C) respiração, pois a imagem representa a organela responsável pelo processo que produz gás carbônico e água.
- D) fotossíntese, pois a imagem representa a organela responsável pelo processo que produz oxigênio e matéria orgânica.

QUESTÃO 37

Considere que os alunos foram conduzidos para uma visita ao laboratório de anatomia da universidade para conhecer os órgãos dos sistemas humanos. O técnico do laboratório mostrou para os alunos dois órgãos humanos que estão conectados a um terceiro órgão, que fazem parte de um sistema responsável por liberar compostos nitrogenados tóxicos do corpo.

O material apresentado pelo técnico faz parte do sistema

- A) urinário, pois trata-se de dois rins e uma bexiga.
- B) reprodutor, pois trata-se de dois testículos e uma uretra.
- C) respiratório, pois trata-se de dois pulmões e uma traqueia.
- D) digestivo, pois trata-se de dois fígados e uma vesícula biliar.

QUESTÃO 38

Considere que o professor pediu que fossem separados exemplares do museu de biologia animal que representassem animais dos grupos dos cordados para a aula de classificação.

Assim, o técnico precisou separar para a aula

- A) uma arraia, uma água-viva, uma minhoca, um tatu e um coral.
- B) um polvo, uma lacraia, um lagarto, um embrião de cachorro e uma lula.
- C) uma lampreia, uma jiboia, um embrião de suíno, um girino e um rato.
- D) uma tartaruga, uma salamandra, uma lesma, uma estrela do mar e um feto de humano.

QUESTÃO 39

Considere que uma turma de alunos desenvolveu um trabalho sobre relações ecológicas por meio da criação de cartazes. O primeiro cartaz destacava a relação de sociedade entre as abelhas. O segundo cartaz trabalhou na relação de mutualismo dos líquens. O terceiro cartaz tinha a representação do canibalismo de algumas espécies de tubarão que comem os próprios filhotes. O quarto cartaz tinha a representação do parasitismo entre o ser humano e os vermes helmintos.

Foi solicitado que os cartazes fossem colocados no quadro do corredor das aulas de Biologia para a divulgação para a comunidade universitária, mas de forma que indicassem uma relação entre eles.

Os cartazes foram dispostos, corretamente, da seguinte forma:

- A) O segundo com o quarto cartaz, pois representam relações interespecíficas.
- B) O primeiro com o segundo cartaz, pois representam relações entre seres da mesma espécie.
- C) O primeiro com o quarto cartaz, pois representam relações desarmônicas.
- D) O segundo com o terceiro cartaz, pois representam relações harmônicas.

QUESTÃO 40

Considere que, no estudo sobre biomoléculas, foi feita uma aula prática para entender o processo de desnaturação de proteínas. Para isso, um aluno de cada grupo teve que colocar sua saliva dentro de dois tubos de ensaio contendo amido de milho em água. Um dos tubos foi submetido a 37 °C, e o outro a 60 °C. O estudo se trata da verificação da ação de uma enzima do sistema digestório.

A enzima foco do experimento e a maneira correta de descartar o material são

- A) amilase, e o tubo de ensaio sendo esterilizado diretamente em estufa de esterilização e posteriormente jogado no lixo.
- B) pepsina, e o tubo de ensaio lavado diretamente com água e sabão.
- C) amilase, e o tubo de ensaio deixado em molho em água sanitária 1% para posterior lavagem com água e sabão.
- D) pepsina, e o material autoclavado por 15 (quinze) minutos, e posteriormente submetido a lavagem com água.

FOLHA DE RESPOSTAS (VERSÃO DO CANDIDATO)

| | | | | | | | | | |
|----|--------------------------|--------------------------|--------------------------|--------------------------|----|--------------------------|--------------------------|--------------------------|--------------------------|
| 1 | A | B | C | D | 21 | A | B | C | D |
| | <input type="checkbox"/> | <input type="checkbox"/> | <input type="checkbox"/> | <input type="checkbox"/> | | <input type="checkbox"/> | <input type="checkbox"/> | <input type="checkbox"/> | <input type="checkbox"/> |
| 2 | A | B | C | D | 22 | A | B | C | D |
| | <input type="checkbox"/> | <input type="checkbox"/> | <input type="checkbox"/> | <input type="checkbox"/> | | <input type="checkbox"/> | <input type="checkbox"/> | <input type="checkbox"/> | <input type="checkbox"/> |
| 3 | A | B | C | D | 23 | A | B | C | D |
| | <input type="checkbox"/> | <input type="checkbox"/> | <input type="checkbox"/> | <input type="checkbox"/> | | <input type="checkbox"/> | <input type="checkbox"/> | <input type="checkbox"/> | <input type="checkbox"/> |
| 4 | A | B | C | D | 24 | A | B | C | D |
| | <input type="checkbox"/> | <input type="checkbox"/> | <input type="checkbox"/> | <input type="checkbox"/> | | <input type="checkbox"/> | <input type="checkbox"/> | <input type="checkbox"/> | <input type="checkbox"/> |
| 5 | A | B | C | D | 25 | A | B | C | D |
| | <input type="checkbox"/> | <input type="checkbox"/> | <input type="checkbox"/> | <input type="checkbox"/> | | <input type="checkbox"/> | <input type="checkbox"/> | <input type="checkbox"/> | <input type="checkbox"/> |
| 6 | A | B | C | D | 26 | A | B | C | D |
| | <input type="checkbox"/> | <input type="checkbox"/> | <input type="checkbox"/> | <input type="checkbox"/> | | <input type="checkbox"/> | <input type="checkbox"/> | <input type="checkbox"/> | <input type="checkbox"/> |
| 7 | A | B | C | D | 27 | A | B | C | D |
| | <input type="checkbox"/> | <input type="checkbox"/> | <input type="checkbox"/> | <input type="checkbox"/> | | <input type="checkbox"/> | <input type="checkbox"/> | <input type="checkbox"/> | <input type="checkbox"/> |
| 8 | A | B | C | D | 28 | A | B | C | D |
| | <input type="checkbox"/> | <input type="checkbox"/> | <input type="checkbox"/> | <input type="checkbox"/> | | <input type="checkbox"/> | <input type="checkbox"/> | <input type="checkbox"/> | <input type="checkbox"/> |
| 9 | A | B | C | D | 29 | A | B | C | D |
| | <input type="checkbox"/> | <input type="checkbox"/> | <input type="checkbox"/> | <input type="checkbox"/> | | <input type="checkbox"/> | <input type="checkbox"/> | <input type="checkbox"/> | <input type="checkbox"/> |
| 10 | A | B | C | D | 30 | A | B | C | D |
| | <input type="checkbox"/> | <input type="checkbox"/> | <input type="checkbox"/> | <input type="checkbox"/> | | <input type="checkbox"/> | <input type="checkbox"/> | <input type="checkbox"/> | <input type="checkbox"/> |
| 11 | A | B | C | D | 31 | A | B | C | D |
| | <input type="checkbox"/> | <input type="checkbox"/> | <input type="checkbox"/> | <input type="checkbox"/> | | <input type="checkbox"/> | <input type="checkbox"/> | <input type="checkbox"/> | <input type="checkbox"/> |
| 12 | A | B | C | D | 32 | A | B | C | D |
| | <input type="checkbox"/> | <input type="checkbox"/> | <input type="checkbox"/> | <input type="checkbox"/> | | <input type="checkbox"/> | <input type="checkbox"/> | <input type="checkbox"/> | <input type="checkbox"/> |
| 13 | A | B | C | D | 33 | A | B | C | D |
| | <input type="checkbox"/> | <input type="checkbox"/> | <input type="checkbox"/> | <input type="checkbox"/> | | <input type="checkbox"/> | <input type="checkbox"/> | <input type="checkbox"/> | <input type="checkbox"/> |
| 14 | A | B | C | D | 34 | A | B | C | D |
| | <input type="checkbox"/> | <input type="checkbox"/> | <input type="checkbox"/> | <input type="checkbox"/> | | <input type="checkbox"/> | <input type="checkbox"/> | <input type="checkbox"/> | <input type="checkbox"/> |
| 15 | A | B | C | D | 35 | A | B | C | D |
| | <input type="checkbox"/> | <input type="checkbox"/> | <input type="checkbox"/> | <input type="checkbox"/> | | <input type="checkbox"/> | <input type="checkbox"/> | <input type="checkbox"/> | <input type="checkbox"/> |
| 16 | A | B | C | D | 36 | A | B | C | D |
| | <input type="checkbox"/> | <input type="checkbox"/> | <input type="checkbox"/> | <input type="checkbox"/> | | <input type="checkbox"/> | <input type="checkbox"/> | <input type="checkbox"/> | <input type="checkbox"/> |
| 17 | A | B | C | D | 37 | A | B | C | D |
| | <input type="checkbox"/> | <input type="checkbox"/> | <input type="checkbox"/> | <input type="checkbox"/> | | <input type="checkbox"/> | <input type="checkbox"/> | <input type="checkbox"/> | <input type="checkbox"/> |
| 18 | A | B | C | D | 38 | A | B | C | D |
| | <input type="checkbox"/> | <input type="checkbox"/> | <input type="checkbox"/> | <input type="checkbox"/> | | <input type="checkbox"/> | <input type="checkbox"/> | <input type="checkbox"/> | <input type="checkbox"/> |
| 19 | A | B | C | D | 39 | A | B | C | D |
| | <input type="checkbox"/> | <input type="checkbox"/> | <input type="checkbox"/> | <input type="checkbox"/> | | <input type="checkbox"/> | <input type="checkbox"/> | <input type="checkbox"/> | <input type="checkbox"/> |
| 20 | A | B | C | D | 40 | A | B | C | D |
| | <input type="checkbox"/> | <input type="checkbox"/> | <input type="checkbox"/> | <input type="checkbox"/> | | <input type="checkbox"/> | <input type="checkbox"/> | <input type="checkbox"/> | <input type="checkbox"/> |

AO TRANSFERIR ESSAS MARCAÇÕES PARA A FOLHA DE RESPOSTAS,
OBSERVE AS INSTRUÇÕES ESPECÍFICAS DADAS NA CAPA DA PROVA.

USE CANETA ESFEROGRÁFICA AZUL OU PRETA.



Segundo a Lei nº 9.610/1998, reproduções de natureza não pedagógicas das questões desta prova estão proibidas.

TÉCNICO DE LABORATÓRIO – QUÍMICA

Código: 203

ABRA APENAS QUANDO AUTORIZADO.

Leia com atenção as seguintes instruções:

- Este caderno contém as **40 questões** da Prova Objetiva, composta por: 10 questões de Língua Portuguesa, 5 questões de Informática Básica, 10 questões de Legislação, e 15 questões de Conhecimentos Específicos.
Caso haja algum problema em seu caderno de provas, informe ao aplicador de provas.
- As informações / instruções dadas no dia da prova complementam o edital.
- Durante as provas, não é permitido o uso de dispositivos eletrônicos de qualquer tipo e celulares, assim como relógios e materiais de consulta.
- Use a Folha de Respostas (versão do candidato) reproduzida no final do Caderno de Provas apenas para marcar seu Gabarito. Esse rascunho somente poderá ser destacado pelo aplicador de provas.
- Na **Folha de Respostas**:
 - Confira seu nome, número de inscrição e cargo.
 - Assine, A TINTA, no espaço próprio indicado.
 - Transcreva a seguinte frase, com sua caligrafia usual, mantendo as letras maiúsculas e minúsculas, desconsiderando aspas e autoria:
- A Folha de Respostas deve ser assinada e não deve ser dobrada, amassada ou rasurada.
- Ao transferir as respostas para a Folha de Respostas:
 - Use somente caneta AZUL ou PRETA, preenchendo toda a área reservada à letra correspondente à resposta solicitada em cada questão, conforme o modelo:

| | | | | |
|----|-------------------------------------|--------------------------|--------------------------|--------------------------|
| 01 | A | B | C | D |
| | <input checked="" type="checkbox"/> | <input type="checkbox"/> | <input type="checkbox"/> | <input type="checkbox"/> |
 - Assinale somente uma alternativa em cada questão e não deixe nenhuma questão sem resposta.
- Sua prova e Folha de Respostas poderão ser entregues somente após o término do período de sigilo: 1 hora.
- Sua resposta **NÃO** será computada se houver marcação de mais de uma alternativa, questões não assinaladas ou rasuradas.
- Ao entregar sua prova, recolha seus objetos, deixe a sala de provas e, em seguida, o prédio. Até deixar as dependências do local de prova, continuam válidas as proibições do uso de aparelhos eletrônicos e celulares, bem como não lhe é mais permitido o uso dos sanitários.
- O Caderno de Questões da Prova Objetiva e os gabaritos serão divulgados no endereço eletrônico www.gestaodeconcursos.com.br, no dia subsequente à data da prova.

“Perder-se também é caminho.”

Clarice Lispector

**DURAÇÃO TOTAL DAS PROVAS,
INCLUINDO TRANSCRIÇÃO DA
FOLHA DE RESPOSTAS:
QUATRO HORAS**

Escreva seu nome completo de forma legível.

NOME: _____

INSTRUÇÃO: Leia o texto a seguir para responder às questões 1 e 2.

Glamorizar o passado é se deixar enganar

Prefiro a caneta ao teclado — apesar da minha letra, que às vezes nem eu entendo —, o papel à tela, o livro físico ao digital. Não é saudosismo e muito menos uma vilanização dos avanços tecnológicos, que ao mesmo tempo são uma bênção e uma maldição. Não glamorizo o passado como sendo melhor: o melhor vive na nossa imaginação [...].

Mantenho o melhor de antes — que gravei no meu HD apertando o rec e o play — e aproveito o melhor de hoje. O que posso escolher escolho, dentro de uma lista nada coerente entre o antigo e o novo, com a vantagem de carregar comigo o passado. A nossa história é um caminho irreversível, saber viver o presente é o melhor dos mundos.

KORICH, Becky S. Glamorizar o passado é se deixar enganar. **Folha de S.Paulo**. Colunas, 11 set. 2023. Disponível em: <https://www1.folha.uol.com.br/colunas/becky-korich/2023/09/glamorizar-o-passado-e-se-deixar-enganar.shtml>. Acesso em: 11 set. 2023. [Fragmento]

QUESTÃO 1

De acordo com as informações apresentadas, pode-se inferir que, para a autora,

- A) o passado apresentava condições melhores que o futuro, que é desesperançoso.
- B) o presente supera o passado devido aos avanços tecnológicos que se apresentam.
- C) o antigo e o novo convivem juntos, e ela aproveita o que há de melhor de cada um.
- D) o saudosismo do passado é o que alimenta a busca por saber viver bem o presente.

QUESTÃO 2

Releia este trecho.

“Não **glamorizo** o passado como sendo melhor: o melhor vive na nossa imaginação [...]”.

O termo em destaque nesse fragmento indica que a autora

- A) não atribui ao passado valor excessivo, mais atraente que o presente.
- B) desconsidera o passado como sendo importante para o futuro.
- C) ignora que o passado foi a melhor época da sua vida.
- D) apaga as lembranças positivas em suas memórias.

QUESTÃO 3

Gaúcho resgatou mais de 100 pessoas de enchente com pequeno barco: ‘fiquei 23 horas em cima do rio’

Mais de 100 pessoas foram salvas por apenas um homem durante a tragédia que atingiu o Vale do Taquari, no Rio Grande do Sul, no começo da semana passada. Com um pequeno barco, o gaúcho Sérgio Benini, morador de Roca Sales, conseguiu resgatar vários vizinhos da enchente que atingiu a cidade, uma das mais afetadas.

“Eu fiquei 23 horas em cima do rio. Nós arrancamos o telhado à mão. As pessoas subiam no segundo piso, no forro embaixo do telhado, porque estava chovendo. E lá eles só gritavam socorro, socorro, socorro”, relembrou ele ao Fantástico.

[...] Conforme a água foi ganhando força pelas ruas da cidade, começaram os pedidos por ajuda. Das janelas, moradores começaram a registrar a força da água.

PORTAL G1. Gaúcho resgatou mais de 100 pessoas de enchente com pequeno barco: ‘fiquei 23 horas em cima do rio’. **Portal G1**. Disponível em: <https://g1.globo.com/fantastico/noticia/2023/09/11/gaucho-resgatou-mais-de-100-pessoas-de-enchente-com-pequeno-barco-fiquei-23-horas-em-cima-do-rio.ghhtml>. Acesso em: 11 set. 2023. [Fragmento]

As diferentes funções da linguagem atendem a propósitos específicos da comunicação. Considerando o texto, a função da linguagem a ele associada é aquela que

- A) valoriza a figura de heróis modernos, reais, sendo classificada como poética.
- B) transmite informações com foco no assunto, classificando-se como referencial.
- C) busca convencer o leitor sobre um posicionamento, sendo chamada de apelativa.
- D) estabelece um diálogo indireto com o leitor do texto, sendo classificada como fática.

QUESTÃO 4

Paz e guerra

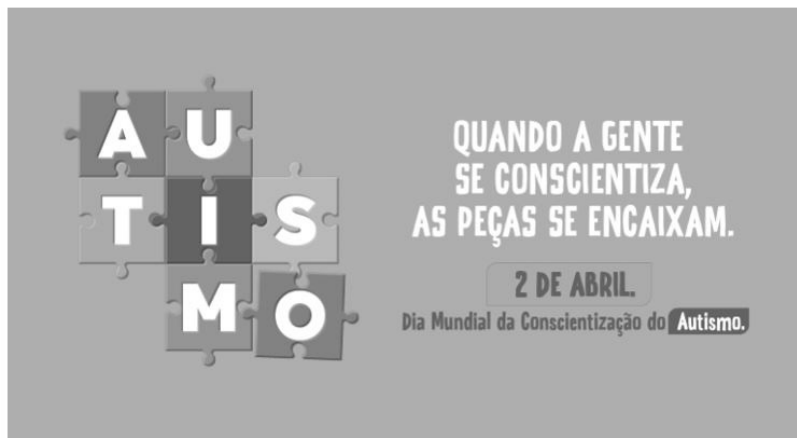
Eu estava atrasado para a guerra; tive de tomar um táxi. Uma contrariedade: com o recente aumento do preço da corrida, aquilo era uma despesa imprevista e inoportuna, um abalo em meu orçamento. Contudo, cheguei justo a tempo de marcar o ponto, evitando assim transtornos maiores.

SCLIAR, Moacyr. Paz e guerra. *In*: **Conto Brasileiro**. Disponível em: <https://contobrasileiro.com.br/paz-e-guerra-conto-de-moacyr-scliar/>. Acesso em: 6 set. 2023. [Fragmento]

Nesse conto de Moacyr Scliar, o sinal de dois-pontos tem a função de introduzir uma

- A) advertência.
- B) dúvida.
- C) explicação.
- D) enumeração.

QUESTÃO 5



Disponível em: <https://prefeitura.pbh.gov.br/noticias/bh-promove-campanha-e-acoes-de-visibilidade-no-mes-de-conscientizacao-do-autismo>. Acesso em: 7 set. 2023.

Tendo em vista os elementos verbais e não verbais do cartaz, infere-se que seu objetivo é

- A) incentivar a busca de tratamento para pessoas diagnosticadas com transtorno do espectro autista.
- B) promover a visibilidade e a inclusão de pessoas com transtorno do espectro autista na sociedade.
- C) sugerir a definição de uma data para celebrar a inclusão de pessoas com autismo no meio social.
- D) defender a luta por maior visibilidade das pessoas com autismo nos ambientes governamentais.

QUESTÃO 6



Disponível em: <https://tirasarmandinho.tumblr.com>. Acesso em: 6 set. 2023.

Na construção da tirinha, foi usada linguagem

- A) corporal, pois o personagem utiliza todas as partes do corpo para parabenizar a mulher em uma data comemorativa.
- B) simbólica, pois as flores representam um objeto de desejo feminino, reproduzindo uma visão superficial das mulheres.
- C) verbo-visual, pois o texto escrito está em elipse, sendo inferido pelo contexto em que os personagens estão inseridos.
- D) visual, pois a mensagem comunicativa pode ser compreendida mesmo sem uso de palavras, mas apenas de imagens.

QUESTÃO 7

Podemos alimentar o discurso de ódio sem perceber

As redes sociais se tornam convenientes para quem produz falas discriminatórias e intolerantes porque elas conseguem interpretar o comportamento dos usuários, recomendando automaticamente conteúdos alinhados com os interesses deles. As redes criam, portanto, uma audiência para oradores de discursos de ódio que normalmente teriam pouco alcance.

Ocorre que, também por essa razão, as mesmas ações que contribuem para a propagação de um vídeo, foto ou meme, como as curtidas e compartilhamentos, colaboram para disseminar essas mensagens problemáticas. Entender isso é importante para evitarmos propagar o discurso que queremos combater.

Explico: por causa de como as plataformas funcionam, quanto mais interagirmos com a postagem problemática, maior será a audiência atingida por ela e mais perigosa esta mensagem será. Isso acontece mesmo quando compartilhamos uma manifestação de ódio como forma de denúncia ou publicamos um comentário criticando o conteúdo.

[...]

Infelizmente, mesmo com boas intenções e sem perceber, podemos acabar ajudando a disseminar posts que depreciam pessoas por sua etnia, gênero, orientação sexual ou outro marcador social. Isso é profundamente perigoso, pois quanto mais pessoas são alcançadas e têm suas opiniões formadas por discursos de ódio, mais provável se torna que algumas delas pratiquem atos concretos de discriminação e violência contra minorias sociais e grupos vulneráveis.

SALVADOR, J. P. F. Podemos alimentar o discurso de ódio sem perceber. **Hoje em Dia**. Opinião, 18 out. 2023. Disponível em: <https://www.hojeemdia.com.br/opiniao/opiniao/podemos-alimentar-o-discurso-de-odio-sem-perceber-1.984113>. Acesso em: 23 out. 2023. [Fragmento]

Em seu texto, o autor argumenta que

- A) ter cuidado com conteúdos consumidos e compartilhados nas redes sociais é uma forma de evitar a disseminação de discursos de ódio.
- B) alimentar a disseminação de discursos de ódio é um dos objetivos das plataformas de redes sociais, devido ao engajamento.
- C) acabar com os discursos de ódio nas redes sociais requer que os usuários façam comentários negativos nos posts.
- D) disseminar discursos de ódio nas redes sociais é uma característica dos produtores de conteúdo que têm pouco alcance.

QUESTÃO 8

Codinome Beija-flor

Pra que mentir
Fingir que perdoou
Tentar ficar amigos sem rancor
A emoção acabou
Que coincidência é o amor
A nossa música nunca mais tocou

Pra que usar de tanta educação
Pra destilar terceiras intenções
Desperdiçando o meu mel
Devagarzinho, flor em flor
Entre os meus inimigos, beija-flor

CAZUZA. Codinome Beija-flor. In: **Vagalume**. Disponível em: <https://www.vagalume.com.br/cazuza/codinome-beija-flor.html>. Acesso em: 6 set. 2023. [Fragmento]

As palavras podem ser formadas por diferentes processos. Um deles é a composição por justaposição, em que dois termos são unidos um ao outro, sem perda de seus elementos.

Na canção de Cazuzza, ocorre justaposição na formação da palavra

- A) destilar.
- B) inimigos.
- C) devagarzinho.
- D) beija-flor.

QUESTÃO 9

A disciplina do amor

Foi na França, durante a Segunda Grande Guerra: um jovem tinha um cachorro que todos os dias, pontualmente, ia esperá-lo voltar do trabalho. Postava-se na esquina, um pouco antes das seis da tarde. Assim que via o dono, ia correndo ao seu encontro e na maior alegria acompanhava-o com seu passinho **saltitante** de volta à casa. A vila inteira já conhecia o cachorro e as pessoas que passavam faziam-lhe festinhas e ele correspondia, chegava até a correr todo animado atrás dos mais íntimos. Para logo voltar atento ao seu posto e ali ficar sentado até o momento em que seu dono apontava lá longe.

TELLES, Lygia Fagundes. A disciplina do amor. In: **Conto Brasileiro**. Disponível em: <https://contobrasileiro.com.br/a-disciplina-do-amor-conto-de-lygia-fagundes-telles/>. Acesso em: 6 set. 2023. [Fragmento]

Assinale a alternativa em que o termo destacado pertença, no contexto, à mesma classe de palavras daquela em destaque no texto.

- A) “Foi na França, durante a Segunda **Grande** guerra [...]”.
- B) “Assim que via o dono, ia correndo ao seu **encontro** [...]”.
- C) “[...] até o momento em que seu **dono** apontava lá longe.”
- D) “Postava-se na esquina, um **pouco** antes das seis da tarde.”

QUESTÃO 10

Escola em tempo integral para uma educação integral

O Brasil é um dos países mais desiguais do mundo, tanto na área econômica como na social, e continuará sendo enquanto a oferta da educação de qualidade permanecer desigual. Sem oportunidades iguais de acesso a um ensino de qualidade para todas as crianças e adolescentes, jamais ultrapassaremos os umbrais da mediocridade. Por isso, termos as escolas funcionando em período estendido é uma das poucas quase-unanidades, como demonstram diversas pesquisas.

VENTURI, Jacir. Escola em tempo integral para uma educação integral. **Gazeta do povo**. Opinião, 31 ago. 2023. Disponível em: <https://www.gazetadopovo.com.br/opiniao/artigos/escola-em-tempo-integral-para-uma-educacao-integral/>. Acesso em: 6 set. 2023. [Fragmento]

No texto, observa-se o sentido conotativo em:

- A) “Umbrais da mediocridade”, que indica uma limitação do Brasil no avanço da qualidade do ensino escolar.
- B) “Ensino de qualidade”, que alude às escolas particulares, às quais a maior parte da população não tem acesso.
- C) “Diversas pesquisas”, que indefine propositadamente as pesquisas, evidenciando ausência de embasamento.
- D) “Oportunidades iguais”, que ironiza o fato de que a igualdade da educação no Brasil não é possível para a grande massa.

INFORMÁTICA BÁSICA

QUESTÃO 11

A impressão de apresentações é uma etapa importante na comunicação de informações por meio do Microsoft PowerPoint. Analise as afirmativas a seguir, relacionadas à impressão de apresentações no Microsoft PowerPoint para office 365.

- I. A opção de imprimir *slides* selecionados permite selecionar partes de cada *slide* a ser impresso.
- II. Pode-se selecionar a impressão de um intervalo de *slides*, como imprimir todos os *slides*, exceto a capa da apresentação.
- III. A opção de anotações do apresentador permite imprimir a apresentação juntamente com as anotações feitas pelo elaborador da apresentação.

Estão corretas as afirmativas

- A) I e II, apenas.
- B) I e III, apenas.
- C) II e III, apenas.
- D) I, II e III.

QUESTÃO 12

Tendo em vista os tipos de gráficos disponíveis no Microsoft Excel para office 365, numere a COLUNA II de acordo com a COLUNA I, associando os conceitos aos tipos de gráficos correspondentes.

COLUNA I

- 1. Gráfico de pizza
- 2. Gráfico de linhas

COLUNA II

- () Mostram o tamanho dos itens, em um série de dados, proporcional à soma desses itens.
- () Podem mostrar dados contínuos ao longo do tempo em um eixo com escalas iguais e, portanto, são ideais para mostrar tendências de dados em intervalos iguais, como meses, trimestres ou anos fiscais.
- () Pontos de dados deste gráfico são exibidos como uma porcentagem do total de dados.

Assinale a sequência correta.

- A) 2 1 2
- B) 1 2 1
- C) 1 1 2
- D) 2 2 1

QUESTÃO 13

O sistema operacional Windows 10 oferece uma variedade de configurações que podem ser personalizadas por meio do Painel de Controle. Analise as afirmativas a seguir, relacionadas às configurações básicas do Windows 10.

- I. No Painel de Controle, o usuário pode personalizar as configurações de rede no Windows 10, como a configuração de uma conexão Wi-Fi.
- II. No Painel de Controle, é possível alterar a resolução da tela, ajustar as configurações de vídeo e gerenciar dispositivos de impressão conectados ao computador.
- III. O Painel de Controle é o local principal para a instalação e a remoção de programas e aplicativos no Windows 10.

Estão corretas as afirmativas

- A) I e II, apenas.
- B) I e III, apenas.
- C) II e III, apenas.
- D) I, II e III.

QUESTÃO 14

Existem muitos tipos de ataques a redes, cada um visando a explorar vulnerabilidades específicas para comprometer a segurança da rede.

O ataque que visa a sobrecarregar um servidor ou rede com um volume massivo de tráfego, tornando-o inacessível para os usuários legítimos, é chamado de

- A) Ataque de Envenenamento de ARP.
- B) Ataque de Negação de Serviço (DDoS).
- C) Ataque de *Phishing*.
- D) Ataque de Força Bruta.

QUESTÃO 15

A internet é uma rede global que conecta bilhões de dispositivos em todo o mundo, permitindo a troca de informações e recursos.

Com relação às noções básicas de internet, assinale a alternativa correta.

- A) A internet é uma rede de computadores exclusiva para uso governamental e militar.
- B) HTTP é um protocolo de segurança usado para criptografar todas as comunicações na internet, garantindo a privacidade de todos os usuários.
- C) Um endereço IP (Internet Protocol) é um identificador exclusivo atribuído a um dispositivo conectado à internet para facilitar a comunicação e a identificação na rede.
- D) A World Wide Web (WWW) também pode ser chamada de internet.

LEGISLAÇÃO

QUESTÃO 16

Em relação aos direitos e deveres individuais e coletivos previstos na Constituição da República Federativa do Brasil de 1988, assinale a alternativa incorreta.

- A) É assegurada, mediante o pagamento de taxa, a obtenção de certidões em repartições públicas para defesa de direitos.
- B) As entidades associativas, quando expressamente autorizadas, têm legitimidade para representar seus filiados judicial ou extrajudicialmente.
- C) É livre a expressão da atividade intelectual, artística, científica e de comunicação, independentemente de censura ou licença.
- D) A pena será cumprida em estabelecimentos distintos, de acordo com a natureza do delito, a idade e o sexo do apenado.

QUESTÃO 17

Sobre as vedações ao servidor público, previstas no Decreto nº 1.171, de 22 de junho de 1994, que aprova o Código de Ética Profissional do Servidor Público Civil do Poder Executivo Federal, analise as afirmativas a seguir.

- I. É vedado ao servidor exercer atividade profissional aética ou ligar o seu nome a empreendimentos de cunho duvidoso.
- II. É vedado ao servidor público retirar da repartição pública livro ou bem pertencente ao patrimônio público, salvo se for autorizado pelo superior hierárquico.
- III. É vedado ao servidor público embriagar-se, ainda que esporadicamente.

Está(ão) correta(s) a(s) afirmativa(s)

- A) I, apenas.
- B) II, apenas.
- C) I e II, apenas.
- D) I, II e III.

QUESTÃO 18

O credenciamento, de acordo com as previsões da Lei nº 14.133, de 1º de abril de 2021, conhecida como Lei de Licitações e Contratos Administrativos, poderá ser usado na seguinte hipótese de contratação:

- A) Paralela e excludente
- B) Com seleção a critério de terceiros
- C) Em mercados sem flutuação
- D) De particular para provimento de atividade do Poder Público

QUESTÃO 19

Conforme disposto na Lei nº 13.709, de 14 de agosto de 2018, conhecida como Lei Geral de Proteção de Dados Pessoais (LGPD), o término do tratamento de dados pessoais ocorrerá nas seguintes hipóteses, exceto:

- A) Verificação de que a finalidade foi alcançada
- B) Cumprimento de obrigação legal ou regulatória pelo controlador
- C) Fim do período de tratamento
- D) Determinação da autoridade nacional, quando houver violação ao disposto na LGPD

QUESTÃO 20

De acordo com a Lei nº 12.527, de 18 de novembro de 2011, conhecida como Lei de Acesso à Informação, não constitui conduta ilícita que enseja responsabilidade do agente público ou militar:

- A) Impor sigilo à informação para obter proveito pessoal ou de terceiro, ou para fins de ocultação de ato ilegal cometido por si ou por outrem
- B) Ocultar da revisão de autoridade superior competente informação sigilosa para beneficiar a si ou a outrem, ou em prejuízo de terceiros
- C) Destruir ou subtrair, por qualquer meio, documentos concernentes a possíveis violações de direitos humanos por parte de agentes do Estado
- D) Agir com negligência ou imprudência na análise das solicitações de acesso à informação

QUESTÃO 21

Segundo a Lei nº 8.112, de 11 de dezembro de 1990, que dispõe sobre o regime jurídico dos servidores públicos civis da União, das autarquias e das fundações públicas federais, não é uma forma de provimento de cargo público a

- A) ascensão.
- B) recondução.
- C) reversão.
- D) promoção.

QUESTÃO 22

Segundo o Estatuto da Universidade Federal dos Vales do Jequitinhonha e Mucuri, não é uma competência do diretor da Unidade Acadêmica:

- A) Submeter à apreciação da Congregação o orçamento anual e as prioridades para aplicação dos recursos
- B) Estabelecer as normas de afastamento de docentes, para fins de capacitação e cooperação
- C) Planejar e gerir os recursos de pessoal, orçamentários, financeiros, materiais e patrimoniais sob sua responsabilidade
- D) Convocar e presidir as reuniões da Congregação, com voto comum e de qualidade

QUESTÃO 23

Sobre os currículos e as normas previstas no Estatuto da Universidade Federal dos Vales do Jequitinhonha e Mucuri, analise as afirmativas a seguir.

- I. Os conteúdos dos componentes curriculares relacionados às disciplinas serão especificados em ementas e programas, com carga horária e créditos pré-definidos.
- II. O Conselho de Curadores disporá sobre a criação, a organização, o funcionamento e a extinção dos cursos de graduação.
- III. Qualquer que seja a forma de admissão, deverá o discente, nas datas fixadas pelo calendário acadêmico, realizar seu registro, conforme especificado no edital do processo seletivo correspondente.

Está(ão) correta(s) a(s) afirmativa(s)

- A) I, apenas.
- B) II, apenas.
- C) I e III, apenas.
- D) I, II e III.

QUESTÃO 24

De acordo com o Regimento Geral da Universidade Federal dos Vales do Jequitinhonha e Mucuri, são órgãos das Unidades Acadêmicas, exceto:

- A) Congregação
- B) Diretoria
- C) Conselho universitário
- D) Colegiado de curso

QUESTÃO 25

Sobre as normas relativas ao funcionamento dos órgãos colegiados previstas no Regimento Geral da Universidade Federal dos Vales do Jequitinhonha e Mucuri, assinale com V as afirmativas verdadeiras e com F as falsas.

- () As reuniões dos colegiados serão convocadas pelo respectivo Presidente, com antecedência de 48 (quarenta e oito) horas para as reuniões ordinárias.
- () O comparecimento dos membros nas reuniões de órgãos colegiados é facultativo.
- () Serão consideradas aprovadas as propostas que obtiverem maioria simples de votos dos presentes, salvo disposição expressa no Estatuto ou no Regimento Geral.
- () Os representantes do corpo técnico-administrativo serão escolhidos pelos seus pares em processo organizado por eles ou pelas respectivas entidades representativas, por sufrágio secreto e universal.

Assinale a sequência correta.

- A) V V F V
- B) F F V V
- C) F F V F
- D) V V F F

TÉCNICO DE LABORATÓRIO – QUÍMICA

CLASSIFICAÇÃO PERIÓDICA DOS ELEMENTOS
MASSAS ATÔMICAS BASEADAS NO ISÓTOPO DO CARBONO 12

| | | | | | | | | | | | | | | | | |
|-----------|---------|--------|--------|--------|---------|--|--|--|--|--|--|--|--|--|----|---------|
| 18 (0) | 2 | 10 | 17 | 36 | | | | | | | | | | | 18 | |
| He | Ne | Ar | Kr | Xe | Rn | | | | | | | | | | | He |
| 4,0 | 20,2 | 39,9 | 83,8 | 131,3 | 222 | | | | | | | | | | | 4,0 |
| | 9 | 16 | 35 | 53 | 85 | | | | | | | | | | | 17 |
| | F | O | Br | I | At | | | | | | | | | | | F |
| | 19,0 | 16,0 | 79,9 | 126,9 | 210 | | | | | | | | | | | 19,0 |
| | 8 | 16 | 32,1 | 52 | 84 | | | | | | | | | | | 16 |
| | Cl | S | Se | Te | Po | | | | | | | | | | | Cl |
| | 35,5 | 32,1 | 79,9 | 127,6 | 209 | | | | | | | | | | | 35,5 |
| | 7 | 15 | 33 | 51 | 83 | | | | | | | | | | | 15 |
| | N | P | As | Sb | Bi | | | | | | | | | | | N |
| | 14,0 | 31,0 | 74,9 | 121,8 | 209,0 | | | | | | | | | | | 14,0 |
| | 6 | 14 | 32 | 50 | 82 | | | | | | | | | | | 14 |
| | C | Si | Ge | Sn | Pb | | | | | | | | | | | C |
| | 12,0 | 28,1 | 72,6 | 118,7 | 207,2 | | | | | | | | | | | 12,0 |
| | 5 | 13 | 31 | 49 | 81 | | | | | | | | | | | 13 |
| | B | Al | Ga | In | Tl | | | | | | | | | | | B |
| | 10,8 | 27,0 | 69,7 | 114,8 | 204,4 | | | | | | | | | | | 10,8 |
| | 13 | 14 | 32 | 50 | 82 | | | | | | | | | | | 14 |
| | (III A) | (IV A) | (V A) | (VI A) | (VII A) | | | | | | | | | | | (VII A) |
| | | | | | | | | | | | | | | | | |
| | 30 | 48 | 80 | 112,4 | 200,6 | | | | | | | | | | | 30 |
| | Zn | Cd | Hg | Cu | Pt | | | | | | | | | | | Zn |
| | 65,4 | 112,4 | 200,6 | 63,5 | 195,1 | | | | | | | | | | | 65,4 |
| | 29 | 47 | 79 | 78 | 110 | | | | | | | | | | | 29 |
| | Cu | Ag | Au | Pd | Ds | | | | | | | | | | | Cu |
| | 63,5 | 107,9 | 197,0 | 106,4 | 271 | | | | | | | | | | | 63,5 |
| | 28 | 46 | 76 | 58,7 | 108 | | | | | | | | | | | 28 |
| | Ni | Rh | Os | Co | Ir | | | | | | | | | | | Ni |
| | 58,7 | 102,9 | 190,2 | 58,9 | 192,2 | | | | | | | | | | | 58,7 |
| | 27 | 45 | 77 | 55,8 | 109 | | | | | | | | | | | 27 |
| | Co | Ru | Hs | Fe | Mt | | | | | | | | | | | Co |
| | 58,9 | 101,1 | 277 | 55,8 | 268 | | | | | | | | | | | 58,9 |
| | 26 | 44 | 76 | 54,9 | 107 | | | | | | | | | | | 26 |
| | Fe | Ru | Os | Mn | Bh | | | | | | | | | | | Fe |
| | 55,8 | 101,1 | 190,2 | 54,9 | 264 | | | | | | | | | | | 55,8 |
| | 25 | 43 | 75 | 43 | 106 | | | | | | | | | | | 25 |
| | Mn | Tc | Re | Cr | Sg | | | | | | | | | | | Mn |
| | 54,9 | (97,9) | 186,2 | 52,0 | 266 | | | | | | | | | | | 54,9 |
| | 24 | 42 | 74 | 50,9 | 105 | | | | | | | | | | | 24 |
| | Cr | Mo | W | V | Db | | | | | | | | | | | Cr |
| | 52,0 | 95,9 | 183,8 | 50,9 | 262 | | | | | | | | | | | 52,0 |
| | 23 | 41 | 73 | 41 | 104 | | | | | | | | | | | 23 |
| | V | Nb | Ta | Ti | Rf | | | | | | | | | | | V |
| | 50,9 | 92,9 | 180,9 | 47,9 | 261 | | | | | | | | | | | 50,9 |
| | 22 | 40 | 72 | 39 | 103 | | | | | | | | | | | 22 |
| | Ti | Zr | Hf | Sc | Y | | | | | | | | | | | Ti |
| | 47,9 | 91,2 | 178,5 | 45,0 | 88,9 | | | | | | | | | | | 47,9 |
| | 21 | 39 | 71 | 39 | 89 | | | | | | | | | | | 21 |
| | Sc | Y | La | Ca | Ra | | | | | | | | | | | Sc |
| | 45,0 | 88,9 | 138,9 | 40,1 | 226 | | | | | | | | | | | 45,0 |
| | 20 | 38 | 56 | 38 | 87 | | | | | | | | | | | 20 |
| | Ca | Sr | Ba | K | Rb | | | | | | | | | | | Ca |
| | 40,1 | 87,6 | 137,3 | 39,1 | 85,5 | | | | | | | | | | | 40,1 |
| | 12 | 20 | 38 | 12 | 20 | | | | | | | | | | | 12 |
| | Mg | Mg | Mg | Li | Be | | | | | | | | | | | Mg |
| | 24,3 | 24,3 | 24,3 | 6,9 | 9,0 | | | | | | | | | | | 24,3 |
| | 4 | 4 | 4 | 3 | 3 | | | | | | | | | | | 4 |
| | (II A) | (II A) | (II A) | (I A) | (I A) | | | | | | | | | | | (II A) |
| | | | | | | | | | | | | | | | | |
| | 3 | 3 | 3 | 3 | 3 | | | | | | | | | | | 3 |
| | Li | Li | Li | H | H | | | | | | | | | | | Li |
| | 6,9 | 6,9 | 6,9 | 1,0 | 1,0 | | | | | | | | | | | 6,9 |
| | 1 | 1 | 1 | 1 | 1 | | | | | | | | | | | 1 |
| | (I A) | (I A) | (I A) | (I A) | (I A) | | | | | | | | | | | (I A) |
| | | | | | | | | | | | | | | | | |
| | 1 | 1 | 1 | 1 | 1 | | | | | | | | | | | 1 |
| | H | H | H | H | H | | | | | | | | | | | H |
| | 1,0 | 1,0 | 1,0 | 1,0 | 1,0 | | | | | | | | | | | 1,0 |
| | 1 | 1 | 1 | 1 | 1 | | | | | | | | | | | 1 |
| | (I A) | (I A) | (I A) | (I A) | (I A) | | | | | | | | | | | (I A) |
| | | | | | | | | | | | | | | | | |
| | 1 | 1 | 1 | 1 | 1 | | | | | | | | | | | 1 |
| | (I A) | (I A) | (I A) | (I A) | (I A) | | | | | | | | | | | (I A) |

*

**

QUESTÃO 26

Considere que um técnico recebeu a incumbência de preparar 1000 mL de uma solução de HCl 0,1 mol/L. O preparo foi realizado a partir de uma solução de estoque com as especificações: porcentagem em massa do HCl de 36,5% m/m e densidade da solução de HCl de 1,2 g/mL.

Qual volume mais próximo, em mililitros, é necessário retirar do estoque para o preparo dessa solução?

- A) 8.
- B) 16.
- C) 27.
- D) 54.

QUESTÃO 27

Considere que, em uma aula de laboratório, um grupo de estudantes precisava realizar testes que permitiriam identificar um composto orgânico. O grupo sugeriu realizar os seguintes experimentos independentes:
i) misturar o composto em um solvente hidrossolúvel;
ii) reagir o composto com ácido sulfúrico concentrado a 170 °C.

Os resultados esperados eram os seguintes:

- i) uma mistura heterogênea;
- ii) formação de um alqueno com apenas uma insaturação.

A partir dessas expectativas de resultados, o composto orgânico submetido ao teste é um

- A) monoálcool de cadeia curta.
- B) monoálcool de cadeia longa.
- C) poliálcool de cadeia curta.
- D) poliálcool de cadeia longa.

QUESTÃO 28

Considere que, no preparo de uma aula prática de titulação ácido-base, o professor esqueceu de informar ao técnico qual indicador utilizaria no procedimento. A titulação seria de um ácido forte monoprotico (HA) com uma base fraca (B). O quadro a seguir apresenta alguns dos possíveis indicadores que o técnico poderia utilizar, assim como suas respectivas faixas de pH de viragem.

| Indicador | Faixa de pH da mudança de cor |
|---------------------|-------------------------------|
| Azul de bromocresol | 3,8 - 5,4 |
| Fenolftaleína | 8,2 - 10,0 |
| Alizarina | 11,0 - 12,4 |
| Vermelho de fenol | 6,6 - 8,0 |

Qual indicador mais adequado para titulação o químico poderia separar nessa aula prática?

- A) Azul de bromocresol.
- B) Fenolftaleína.
- C) Alizarina.
- D) Vermelho de fenol.

QUESTÃO 29

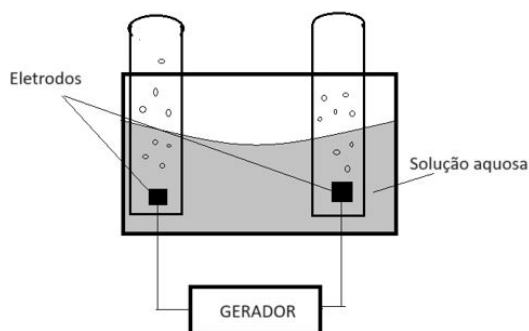
Considere que, em uma aula prática de Química, derramou-se um pouco de ácido sulfúrico (H_2SO_4) em uma bancada do laboratório. O técnico decidiu neutralizá-lo, espalhando bicarbonato de sódio ($NaHCO_3$) sobre ele e, em seguida, enxugou a solução resultante. Sabe-se que o bicarbonato de sódio é adicionado até que a efervescência causada pelo gás carbônico liberado na reação pare de se formar. Nesse incidente, sabe-se que 50 mL do ácido sulfúrico, 5,0 mol/L, foi derramado.

Nesse contexto, qual a massa mínima do sal, em gramas, foi necessária para neutralizar completamente o ácido sulfúrico?

- A) 21.
- B) 42.
- C) 63.
- D) 84.

QUESTÃO 30

Considere que um grupo de estudante montou um sistema de eletrólise com dois eletrodos conectados em um gerador. Os eletrodos foram submersos em uma solução aquosa de um sal.



Sabe-se que, durante o funcionamento do processo eletrolítico nas duas células, ocorre a liberação de um gás, como apresentado na figura.

De acordo com o fenômeno químico ocorrido, a solução aquosa pode ser constituída por um sal de

- A) sulfato de cobre.
- B) nitrato de prata.
- C) cloreto de níquel.
- D) cloreto de sódio.

QUESTÃO 31


Os métodos espectroquímicos de análises são baseados na quantidade de radiação transmitida ou absorvida. Cada molécula tem capacidade de absorver radiação eletromagnética. A radiação que uma molécula ou átomo absorvem pode estabelecer uma relação linear entre a absorvância e a concentração da amostra.

Esse processo de absorção de radiação recebe o nome de

- A) Lei de Lambert Beer.
- B) Lei de radiação térmica de Planck.
- C) Lei de Gauss.
- D) Lei da radiação de Kirchhoff.

QUESTÃO 32

As reações de obtenção de sabão ocorrem entre ésteres e bases (sodas ou hidróxidos). As gorduras e óleos são exemplos de ésteres usados nas reações de saponificação. A equação química a seguir representa a reação simplificada de saponificação.



Considere que nesse processo reacional misturou-se 445 g da estearina com 1 litro da solução de hidróxido de sódio.

Tendo em vista que não ocorrem perdas ou excesso de reagentes no processo reacional, qual concentração em mol/L de hidróxido de sódio seria necessária para o total consumo da estearina?

- A) 0,5.
- B) 1,0.
- C) 1,5.
- D) 2,0.

QUESTÃO 33

Considere que um químico recebeu como instrução o preparo de uma solução de hidróxido de sódio a partir de um reagente analítico sólido grau PA.

A vidraria essencial para o preparo dessa solução é o(a)

- A) balão de decantação.
- B) pipeta graduada.
- C) bureta.
- D) balão volumétrico.

QUESTÃO 34

Os instrumentos para as regiões ultravioleta (UV), visível (VIS) e de infravermelho (IR) apresentam tantas características em comum que, com frequência, são denominados instrumentos ópticos, mesmo o olho humano não sendo sensível aos comprimentos de onda no ultravioleta e no infravermelho. Os instrumentos espectroscópicos típicos possuem cinco componentes.

Sobre os componentes dos instrumentos espectroscópicos, numere a COLUNA II de acordo com a COLUNA I, relacionando seus nomes às suas respectivas características.

COLUNA I

1. Fonte
2. Seletor de comprimento de onda
3. Detector
4. Processador

COLUNA II

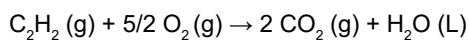
- () Em termos de construção mecânica, empregam-se fendas, lentes, espelhos e prismas.
- () Transforma o sinal elétrico em um sinal de resposta que precisa ser comparado com uma amostra de referência.
- () Gera um feixe com potência radiante suficiente para facilitar a detecção e as medidas.
- () Transdutores que convertem energia radiante em sinais elétricos.

Assinale a sequência correta.

- A) 2 4 1 3
- B) 4 2 3 1
- C) 3 1 2 4
- D) 1 3 4 2

QUESTÃO 35

O acetileno com 99,8% de pureza é utilizado como gás para instrumentos de Espectrometria de Absorção Atômica com chama (AAS). A combustão do gás acetileno pode ser representada pela equação química a seguir.



Considere os dados apresentados no quadro a seguir.

| Composto | $\Delta H^0_{\text{(formação)}} (\text{kJ mol}^{-1})$ |
|----------------------------------|---|
| $\text{C}_2\text{H}_2(\text{g})$ | + 226,7 |
| $\text{CO}_2(\text{g})$ | - 393,5 |
| $\text{H}_2\text{O}(\text{L})$ | - 285,8 |

Fonte: <https://www.fq.pt/images/tabelas/entalpiasdeformacao.pdf>.

Qual o valor mais próximo do calor de combustão (ΔH) de 52 g do gás acetileno?

- A) - 425 kJ
- B) - 850 kJ
- C) - 1700 kJ
- D) - 2.200 kJ

QUESTÃO 36

Considere que, em uma aula prática de Química, o professor fez dois experimentos de reações entre ácidos e base.

- Experimento 1: misturou 100 mL de HCl 0,02 mol/L com 150 mL de hidróxido de sódio 0,01 mol/L.
- Experimento 2: misturou 150 mL de HCl 0,02 mol/L com 100 mL de hidróxido de sódio 0,05 mol/L.

Ao final dos experimentos, o professor transferiu as duas misturas para um único recipiente e solicitou ao técnico que neutralizasse as soluções para descarte.

Nesse contexto, o técnico precisa adicionar, para neutralização e descarte da mistura, 100 mL de

- A) HCl; 0,015 mol/L.
- B) HCl; 0,04 mol/L.
- C) NaOH; 0,015 mol/L.
- D) NaOH; 0,04 mol/L.

QUESTÃO 37

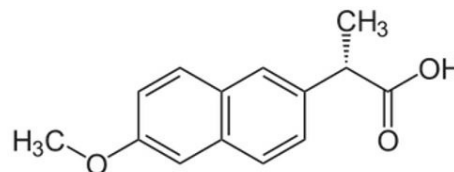
Na espectroscopia atômica, geralmente se aplica uma alta temperatura para converter os íons e as moléculas da amostra em átomos para análise. Após a formação desses átomos, alguns podem receber energia adicional da fonte de calor, levando à sua excitação.

A etapa de excitação atômica será útil se o objetivo for, posteriormente, medir a

- A) emissão atômica.
- B) absorção atômica.
- C) excitação atômica.
- D) ionização atômica.

QUESTÃO 38

O Naproxeno é um anti-inflamatório com atividade analgésica. É utilizado principalmente no tratamento de inflamação, dor e edema, como também nas osteoartrites e artrite reumatoide. A sua estrutura é descrita a seguir.



Sobre o Naproxeno, um químico fez as seguintes argumentações:

- I. Apresenta as funções orgânicas ácido carboxílico e éter.
- II. Contém núcleos benzênicos isolados.
- III. Contém carbono quiral.

Estão corretas as argumentações

- A) I e II, apenas.
- B) I e III, apenas.
- C) II e III, apenas.
- D) I, II e III.

QUESTÃO 39

Considere um sistema formado por água, álcool comum, sal dissolvido e areia. O estudante recebeu a incumbência de separar os quatro componentes, indicando a sequência de métodos que poderiam ser aplicados.

Considerando a sequência adotada pelo estudante, assinale a alternativa correta.

- A) O estudante empregou a filtração a vácuo para separar o sal, a decantação para separar a areia e a destilação fracionada para separar os demais componentes.
- B) O estudante empregou a decantação para separar a areia, a centrifugação para separar o sal e a destilação simples para separar a água e o álcool.
- C) O estudante empregou a filtração para separar a areia, e em seguida separou os demais componentes por destilação fracionada.
- D) O estudante empregou a sifonação para separar a areia e a destilação simples para separar os demais componentes.

QUESTÃO 40

A redução do tamanho de partículas é uma operação unitária, em que sólidos particulados se transformam em outros menores, aumentando, assim, a área superficial específica. A diminuição do tamanho de materiais favorece a separação dos constituintes da matriz sólida.

Sendo assim, não é(são) equipamento(s) para diminuir o tamanho dos sólidos:

- A) Britadores
- B) Fragmentador de sólidos
- C) Moinho de bolas
- D) Peneiras vibratórias

FOLHA DE RESPOSTAS (VERSÃO DO CANDIDATO)

| | | | | | | | | | |
|----|--------------------------|--------------------------|--------------------------|--------------------------|----|--------------------------|--------------------------|--------------------------|--------------------------|
| 1 | A | B | C | D | 21 | A | B | C | D |
| | <input type="checkbox"/> | <input type="checkbox"/> | <input type="checkbox"/> | <input type="checkbox"/> | | <input type="checkbox"/> | <input type="checkbox"/> | <input type="checkbox"/> | <input type="checkbox"/> |
| 2 | A | B | C | D | 22 | A | B | C | D |
| | <input type="checkbox"/> | <input type="checkbox"/> | <input type="checkbox"/> | <input type="checkbox"/> | | <input type="checkbox"/> | <input type="checkbox"/> | <input type="checkbox"/> | <input type="checkbox"/> |
| 3 | A | B | C | D | 23 | A | B | C | D |
| | <input type="checkbox"/> | <input type="checkbox"/> | <input type="checkbox"/> | <input type="checkbox"/> | | <input type="checkbox"/> | <input type="checkbox"/> | <input type="checkbox"/> | <input type="checkbox"/> |
| 4 | A | B | C | D | 24 | A | B | C | D |
| | <input type="checkbox"/> | <input type="checkbox"/> | <input type="checkbox"/> | <input type="checkbox"/> | | <input type="checkbox"/> | <input type="checkbox"/> | <input type="checkbox"/> | <input type="checkbox"/> |
| 5 | A | B | C | D | 25 | A | B | C | D |
| | <input type="checkbox"/> | <input type="checkbox"/> | <input type="checkbox"/> | <input type="checkbox"/> | | <input type="checkbox"/> | <input type="checkbox"/> | <input type="checkbox"/> | <input type="checkbox"/> |
| 6 | A | B | C | D | 26 | A | B | C | D |
| | <input type="checkbox"/> | <input type="checkbox"/> | <input type="checkbox"/> | <input type="checkbox"/> | | <input type="checkbox"/> | <input type="checkbox"/> | <input type="checkbox"/> | <input type="checkbox"/> |
| 7 | A | B | C | D | 27 | A | B | C | D |
| | <input type="checkbox"/> | <input type="checkbox"/> | <input type="checkbox"/> | <input type="checkbox"/> | | <input type="checkbox"/> | <input type="checkbox"/> | <input type="checkbox"/> | <input type="checkbox"/> |
| 8 | A | B | C | D | 28 | A | B | C | D |
| | <input type="checkbox"/> | <input type="checkbox"/> | <input type="checkbox"/> | <input type="checkbox"/> | | <input type="checkbox"/> | <input type="checkbox"/> | <input type="checkbox"/> | <input type="checkbox"/> |
| 9 | A | B | C | D | 29 | A | B | C | D |
| | <input type="checkbox"/> | <input type="checkbox"/> | <input type="checkbox"/> | <input type="checkbox"/> | | <input type="checkbox"/> | <input type="checkbox"/> | <input type="checkbox"/> | <input type="checkbox"/> |
| 10 | A | B | C | D | 30 | A | B | C | D |
| | <input type="checkbox"/> | <input type="checkbox"/> | <input type="checkbox"/> | <input type="checkbox"/> | | <input type="checkbox"/> | <input type="checkbox"/> | <input type="checkbox"/> | <input type="checkbox"/> |
| 11 | A | B | C | D | 31 | A | B | C | D |
| | <input type="checkbox"/> | <input type="checkbox"/> | <input type="checkbox"/> | <input type="checkbox"/> | | <input type="checkbox"/> | <input type="checkbox"/> | <input type="checkbox"/> | <input type="checkbox"/> |
| 12 | A | B | C | D | 32 | A | B | C | D |
| | <input type="checkbox"/> | <input type="checkbox"/> | <input type="checkbox"/> | <input type="checkbox"/> | | <input type="checkbox"/> | <input type="checkbox"/> | <input type="checkbox"/> | <input type="checkbox"/> |
| 13 | A | B | C | D | 33 | A | B | C | D |
| | <input type="checkbox"/> | <input type="checkbox"/> | <input type="checkbox"/> | <input type="checkbox"/> | | <input type="checkbox"/> | <input type="checkbox"/> | <input type="checkbox"/> | <input type="checkbox"/> |
| 14 | A | B | C | D | 34 | A | B | C | D |
| | <input type="checkbox"/> | <input type="checkbox"/> | <input type="checkbox"/> | <input type="checkbox"/> | | <input type="checkbox"/> | <input type="checkbox"/> | <input type="checkbox"/> | <input type="checkbox"/> |
| 15 | A | B | C | D | 35 | A | B | C | D |
| | <input type="checkbox"/> | <input type="checkbox"/> | <input type="checkbox"/> | <input type="checkbox"/> | | <input type="checkbox"/> | <input type="checkbox"/> | <input type="checkbox"/> | <input type="checkbox"/> |
| 16 | A | B | C | D | 36 | A | B | C | D |
| | <input type="checkbox"/> | <input type="checkbox"/> | <input type="checkbox"/> | <input type="checkbox"/> | | <input type="checkbox"/> | <input type="checkbox"/> | <input type="checkbox"/> | <input type="checkbox"/> |
| 17 | A | B | C | D | 37 | A | B | C | D |
| | <input type="checkbox"/> | <input type="checkbox"/> | <input type="checkbox"/> | <input type="checkbox"/> | | <input type="checkbox"/> | <input type="checkbox"/> | <input type="checkbox"/> | <input type="checkbox"/> |
| 18 | A | B | C | D | 38 | A | B | C | D |
| | <input type="checkbox"/> | <input type="checkbox"/> | <input type="checkbox"/> | <input type="checkbox"/> | | <input type="checkbox"/> | <input type="checkbox"/> | <input type="checkbox"/> | <input type="checkbox"/> |
| 19 | A | B | C | D | 39 | A | B | C | D |
| | <input type="checkbox"/> | <input type="checkbox"/> | <input type="checkbox"/> | <input type="checkbox"/> | | <input type="checkbox"/> | <input type="checkbox"/> | <input type="checkbox"/> | <input type="checkbox"/> |
| 20 | A | B | C | D | 40 | A | B | C | D |
| | <input type="checkbox"/> | <input type="checkbox"/> | <input type="checkbox"/> | <input type="checkbox"/> | | <input type="checkbox"/> | <input type="checkbox"/> | <input type="checkbox"/> | <input type="checkbox"/> |

AO TRANSFERIR ESSAS MARCAÇÕES PARA A FOLHA DE RESPOSTAS,
OBSERVE AS INSTRUÇÕES ESPECÍFICAS DADAS NA CAPA DA PROVA.

USE CANETA ESFEROGRÁFICA AZUL OU PRETA.



Segundo a Lei nº 9.610/1998, reproduções de natureza não pedagógicas das questões desta prova estão proibidas.

TÉCNICO DE LABORATÓRIO – ANATOMIA E NECROPSIA

Código: 204

ABRA APENAS QUANDO AUTORIZADO.

Leia com atenção as seguintes instruções:

1. Este caderno contém as **40 questões** da Prova Objetiva, composta por: 10 questões de Língua Portuguesa, 5 questões de Informática Básica, 10 questões de Legislação, e 15 questões de Conhecimentos Específicos.
Caso haja algum problema em seu caderno de provas, informe ao aplicador de provas.
2. As informações / instruções dadas no dia da prova complementam o edital.
3. Durante as provas, não é permitido o uso de dispositivos eletrônicos de qualquer tipo e celulares, assim como relógios e materiais de consulta.
4. Use a Folha de Respostas (versão do candidato) reproduzida no final do Caderno de Provas apenas para marcar seu Gabarito. Esse rascunho somente poderá ser destacado pelo aplicador de provas.
5. Na **Folha de Respostas**:
 - Confira seu nome, número de inscrição e cargo.
 - Assine, A TINTA, no espaço próprio indicado.
 - Transcreva a seguinte frase, com sua caligrafia usual, mantendo as letras maiúsculas e minúsculas, desconsiderando aspas e autoria:
6. A Folha de Respostas deve ser assinada e não deve ser dobrada, amassada ou rasurada.
7. Ao transferir as respostas para a Folha de Respostas:
 - Use somente caneta AZUL ou PRETA, preenchendo toda a área reservada à letra correspondente à resposta solicitada em cada questão, conforme o modelo:

| | | | | |
|----|-------------------------------------|--------------------------|--------------------------|--------------------------|
| 01 | <input checked="" type="checkbox"/> | <input type="checkbox"/> | <input type="checkbox"/> | <input type="checkbox"/> |
| | A | B | C | D |
 - Assinale somente uma alternativa em cada questão e não deixe nenhuma questão sem resposta.
8. Sua prova e Folha de Respostas poderão ser entregues somente após o término do período de sigilo: 1 hora.
9. Sua resposta **NÃO** será computada se houver marcação de mais de uma alternativa, questões não assinaladas ou rasuradas.
10. Ao entregar sua prova, recolha seus objetos, deixe a sala de provas e, em seguida, o prédio. Até deixar as dependências do local de prova, continuam válidas as proibições do uso de aparelhos eletrônicos e celulares, bem como não lhe é mais permitido o uso dos sanitários.
11. O Caderno de Questões da Prova Objetiva e os gabaritos serão divulgados no endereço eletrônico www.gestaodeconcursos.com.br, no dia subsequente à data da prova.

“Perder-se também é caminho.”

Clarice Lispector

**DURAÇÃO TOTAL DAS PROVAS,
INCLUINDO TRANSCRIÇÃO DA
FOLHA DE RESPOSTAS:
QUATRO HORAS**

Escreva seu nome completo de forma legível.

NOME: _____

INSTRUÇÃO: Leia o texto a seguir para responder às questões 1 e 2.

Glamorizar o passado é se deixar enganar

Prefiro a caneta ao teclado — apesar da minha letra, que às vezes nem eu entendo —, o papel à tela, o livro físico ao digital. Não é saudosismo e muito menos uma vilanização dos avanços tecnológicos, que ao mesmo tempo são uma bênção e uma maldição. Não glamorizo o passado como sendo melhor: o melhor vive na nossa imaginação [...].

Mantenho o melhor de antes — que gravei no meu HD apertando o rec e o play — e aproveito o melhor de hoje. O que posso escolher escolho, dentro de uma lista nada coerente entre o antigo e o novo, com a vantagem de carregar comigo o passado. A nossa história é um caminho irreversível, saber viver o presente é o melhor dos mundos.

KORICH, Becky S. Glamorizar o passado é se deixar enganar. **Folha de S.Paulo**. Colunas, 11 set. 2023. Disponível em: <https://www1.folha.uol.com.br/colunas/becky-korich/2023/09/glamorizar-o-passado-e-se-deixar-enganar.shtml>. Acesso em: 11 set. 2023. [Fragmento]

QUESTÃO 1

De acordo com as informações apresentadas, pode-se inferir que, para a autora,

- A) o passado apresentava condições melhores que o futuro, que é desesperançoso.
- B) o presente supera o passado devido aos avanços tecnológicos que se apresentam.
- C) o antigo e o novo convivem juntos, e ela aproveita o que há de melhor de cada um.
- D) o saudosismo do passado é o que alimenta a busca por saber viver bem o presente.

QUESTÃO 2

Releia este trecho.

“Não **glamorizo** o passado como sendo melhor: o melhor vive na nossa imaginação [...]”.

O termo em destaque nesse fragmento indica que a autora

- A) não atribui ao passado valor excessivo, mais atraente que o presente.
- B) desconsidera o passado como sendo importante para o futuro.
- C) ignora que o passado foi a melhor época da sua vida.
- D) apaga as lembranças positivas em suas memórias.

QUESTÃO 3

Gaúcho resgatou mais de 100 pessoas de enchente com pequeno barco: ‘fiquei 23 horas em cima do rio’

Mais de 100 pessoas foram salvas por apenas um homem durante a tragédia que atingiu o Vale do Taquari, no Rio Grande do Sul, no começo da semana passada. Com um pequeno barco, o gaúcho Sérgio Benini, morador de Roca Sales, conseguiu resgatar vários vizinhos da enchente que atingiu a cidade, uma das mais afetadas.

“Eu fiquei 23 horas em cima do rio. Nós arrancamos o telhado à mão. As pessoas subiam no segundo piso, no forro embaixo do telhado, porque estava chovendo. E lá eles só gritavam socorro, socorro, socorro”, relembrou ele ao Fantástico.

[...] Conforme a água foi ganhando força pelas ruas da cidade, começaram os pedidos por ajuda. Das janelas, moradores começaram a registrar a força da água.

PORTAL G1. Gaúcho resgatou mais de 100 pessoas de enchente com pequeno barco: ‘fiquei 23 horas em cima do rio’. **Portal G1**. Disponível em: <https://g1.globo.com/fantastico/noticia/2023/09/11/gaucho-resgatou-mais-de-100-pessoas-de-enchente-com-pequeno-barco-fiquei-23-horas-em-cima-do-rio.ghtml>. Acesso em: 11 set. 2023. [Fragmento]

As diferentes funções da linguagem atendem a propósitos específicos da comunicação. Considerando o texto, a função da linguagem a ele associada é aquela que

- A) valoriza a figura de heróis modernos, reais, sendo classificada como poética.
- B) transmite informações com foco no assunto, classificando-se como referencial.
- C) busca convencer o leitor sobre um posicionamento, sendo chamada de apelativa.
- D) estabelece um diálogo indireto com o leitor do texto, sendo classificada como fática.

QUESTÃO 4

Paz e guerra

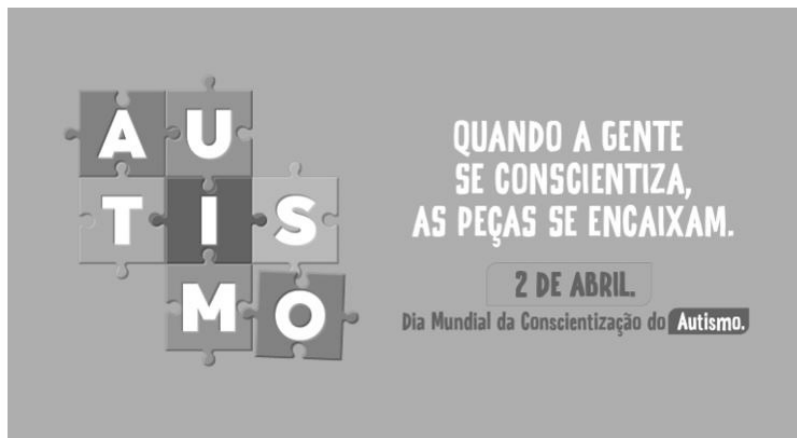
Eu estava atrasado para a guerra; tive de tomar um táxi. Uma contrariedade: com o recente aumento do preço da corrida, aquilo era uma despesa imprevista e inoportuna, um abalo em meu orçamento. Contudo, cheguei justo a tempo de marcar o ponto, evitando assim transtornos maiores.

SCLIAR, Moacyr. Paz e guerra. *In*: **Conto Brasileiro**. Disponível em: <https://contobrasileiro.com.br/paz-e-guerra-conto-de-moacyr-scliar/>. Acesso em: 6 set. 2023. [Fragmento]

Nesse conto de Moacyr Scliar, o sinal de dois-pontos tem a função de introduzir uma

- A) advertência.
- B) dúvida.
- C) explicação.
- D) enumeração.

QUESTÃO 5




Disponível em: <https://prefeitura.pbh.gov.br/noticias/bh-promove-campanha-e-aco-es-de-visibilidade-no-mes-de-conscientizacao-do-autismo>. Acesso em: 7 set. 2023.

Tendo em vista os elementos verbais e não verbais do cartaz, infere-se que seu objetivo é

- A) incentivar a busca de tratamento para pessoas diagnosticadas com transtorno do espectro autista.
- B) promover a visibilidade e a inclusão de pessoas com transtorno do espectro autista na sociedade.
- C) sugerir a definição de uma data para celebrar a inclusão de pessoas com autismo no meio social.
- D) defender a luta por maior visibilidade das pessoas com autismo nos ambientes governamentais.

QUESTÃO 6



Disponível em: <https://tirasarmandinho.tumblr.com>. Acesso em: 6 set. 2023.

Na construção da tirinha, foi usada linguagem

- A) corporal, pois o personagem utiliza todas as partes do corpo para parabenizar a mulher em uma data comemorativa.
- B) simbólica, pois as flores representam um objeto de desejo feminino, reproduzindo uma visão superficial das mulheres.
- C) verbo-visual, pois o texto escrito está em elipse, sendo inferido pelo contexto em que os personagens estão inseridos.
- D) visual, pois a mensagem comunicativa pode ser compreendida mesmo sem uso de palavras, mas apenas de imagens.

QUESTÃO 7

Podemos alimentar o discurso de ódio sem perceber

As redes sociais se tornam convenientes para quem produz falas discriminatórias e intolerantes porque elas conseguem interpretar o comportamento dos usuários, recomendando automaticamente conteúdos alinhados com os interesses deles. As redes criam, portanto, uma audiência para oradores de discursos de ódio que normalmente teriam pouco alcance.

Ocorre que, também por essa razão, as mesmas ações que contribuem para a propagação de um vídeo, foto ou meme, como as curtidas e compartilhamentos, colaboram para disseminar essas mensagens problemáticas. Entender isso é importante para evitarmos propagar o discurso que queremos combater.

Explico: por causa de como as plataformas funcionam, quanto mais interagirmos com a postagem problemática, maior será a audiência atingida por ela e mais perigosa esta mensagem será. Isso acontece mesmo quando compartilhamos uma manifestação de ódio como forma de denúncia ou publicamos um comentário criticando o conteúdo.

[...]

Infelizmente, mesmo com boas intenções e sem perceber, podemos acabar ajudando a disseminar posts que depreciam pessoas por sua etnia, gênero, orientação sexual ou outro marcador social. Isso é profundamente perigoso, pois quanto mais pessoas são alcançadas e têm suas opiniões formadas por discursos de ódio, mais provável se torna que algumas delas pratiquem atos concretos de discriminação e violência contra minorias sociais e grupos vulneráveis.

SALVADOR, J. P. F. Podemos alimentar o discurso de ódio sem perceber. **Hoje em Dia**. Opinião, 18 out. 2023. Disponível em: <https://www.hojeemdia.com.br/opiniao/opiniao/podemos-alimentar-o-discurso-de-odio-sem-perceber-1.984113>. Acesso em: 23 out. 2023. [Fragmento]

Em seu texto, o autor argumenta que

- A) ter cuidado com conteúdos consumidos e compartilhados nas redes sociais é uma forma de evitar a disseminação de discursos de ódio.
- B) alimentar a disseminação de discursos de ódio é um dos objetivos das plataformas de redes sociais, devido ao engajamento.
- C) acabar com os discursos de ódio nas redes sociais requer que os usuários façam comentários negativos nos posts.
- D) disseminar discursos de ódio nas redes sociais é uma característica dos produtores de conteúdo que têm pouco alcance.

QUESTÃO 8

Codinome Beija-flor

Pra que mentir
Fingir que perdoou
Tentar ficar amigos sem rancor
A emoção acabou
Que coincidência é o amor
A nossa música nunca mais tocou

Pra que usar de tanta educação
Pra destilar terceiras intenções
Desperdiçando o meu mel
Devagarzinho, flor em flor
Entre os meus inimigos, beija-flor

CAZUZA. Codinome Beija-flor. In: **Vagalume**. Disponível em: <https://www.vagalume.com.br/cazuza/codinome-beija-flor.html>. Acesso em: 6 set. 2023. [Fragmento]

As palavras podem ser formadas por diferentes processos. Um deles é a composição por justaposição, em que dois termos são unidos um ao outro, sem perda de seus elementos.

Na canção de Cazuzza, ocorre justaposição na formação da palavra

- A) destilar.
- B) inimigos.
- C) devagarzinho.
- D) beija-flor.

QUESTÃO 9

A disciplina do amor

Foi na França, durante a Segunda Grande Guerra: um jovem tinha um cachorro que todos os dias, pontualmente, ia esperá-lo voltar do trabalho. Postava-se na esquina, um pouco antes das seis da tarde. Assim que via o dono, ia correndo ao seu encontro e na maior alegria acompanhava-o com seu passinho **saltitante** de volta à casa. A vila inteira já conhecia o cachorro e as pessoas que passavam faziam-lhe festinhas e ele correspondia, chegava até a correr todo animado atrás dos mais íntimos. Para logo voltar atento ao seu posto e ali ficar sentado até o momento em que seu dono apontava lá longe.

TELLES, Lygia Fagundes. A disciplina do amor. In: **Conto Brasileiro**. Disponível em: <https://contobrasileiro.com.br/a-disciplina-do-amor-conto-de-lygia-fagundes-telles/>. Acesso em: 6 set. 2023. [Fragmento]

Assinale a alternativa em que o termo destacado pertença, no contexto, à mesma classe de palavras daquela em destaque no texto.

- A) “Foi na França, durante a Segunda **Grande** guerra [...]”.
- B) “Assim que via o dono, ia correndo ao seu **encontro** [...]”.
- C) “[...] até o momento em que seu **dono** apontava lá longe.”
- D) “Postava-se na esquina, um **pouco** antes das seis da tarde.”

QUESTÃO 10

Escola em tempo integral para uma educação integral

O Brasil é um dos países mais desiguais do mundo, tanto na área econômica como na social, e continuará sendo enquanto a oferta da educação de qualidade permanecer desigual. Sem oportunidades iguais de acesso a um ensino de qualidade para todas as crianças e adolescentes, jamais ultrapassaremos os umbrais da mediocridade. Por isso, termos as escolas funcionando em período estendido é uma das poucas quase-unanidades, como demonstram diversas pesquisas.

VENTURI, Jacir. Escola em tempo integral para uma educação integral. **Gazeta do povo**. Opinião, 31 ago. 2023. Disponível em: <https://www.gazetadopovo.com.br/opiniaio/artigos/escola-em-tempo-integral-para-uma-educacao-integral/>. Acesso em: 6 set. 2023. [Fragmento]

No texto, observa-se o sentido conotativo em:

- A) “Umbrais da mediocridade”, que indica uma limitação do Brasil no avanço da qualidade do ensino escolar.
- B) “Ensino de qualidade”, que alude às escolas particulares, às quais a maior parte da população não tem acesso.
- C) “Diversas pesquisas”, que indefine propositadamente as pesquisas, evidenciando ausência de embasamento.
- D) “Oportunidades iguais”, que ironiza o fato de que a igualdade da educação no Brasil não é possível para a grande massa.

INFORMÁTICA BÁSICA

QUESTÃO 11

A impressão de apresentações é uma etapa importante na comunicação de informações por meio do Microsoft PowerPoint. Analise as afirmativas a seguir, relacionadas à impressão de apresentações no Microsoft PowerPoint para office 365.

- I. A opção de imprimir *slides* selecionados permite selecionar partes de cada *slide* a ser impresso.
- II. Pode-se selecionar a impressão de um intervalo de *slides*, como imprimir todos os *slides*, exceto a capa da apresentação.
- III. A opção de anotações do apresentador permite imprimir a apresentação juntamente com as anotações feitas pelo elaborador da apresentação.

Estão corretas as afirmativas

- A) I e II, apenas.
- B) I e III, apenas.
- C) II e III, apenas.
- D) I, II e III.

QUESTÃO 12

Tendo em vista os tipos de gráficos disponíveis no Microsoft Excel para office 365, numere a COLUNA II de acordo com a COLUNA I, associando os conceitos aos tipos de gráficos correspondentes.

COLUNA I

- 1. Gráfico de pizza
- 2. Gráfico de linhas

COLUNA II

- () Mostram o tamanho dos itens, em um série de dados, proporcional à soma desses itens.
- () Podem mostrar dados contínuos ao longo do tempo em um eixo com escalas iguais e, portanto, são ideais para mostrar tendências de dados em intervalos iguais, como meses, trimestres ou anos fiscais.
- () Pontos de dados deste gráfico são exibidos como uma porcentagem do total de dados.

Assinale a sequência correta.

- A) 2 1 2
- B) 1 2 1
- C) 1 1 2
- D) 2 2 1

QUESTÃO 13

O sistema operacional Windows 10 oferece uma variedade de configurações que podem ser personalizadas por meio do Painel de Controle. Analise as afirmativas a seguir, relacionadas às configurações básicas do Windows 10.

- I. No Painel de Controle, o usuário pode personalizar as configurações de rede no Windows 10, como a configuração de uma conexão Wi-Fi.
- II. No Painel de Controle, é possível alterar a resolução da tela, ajustar as configurações de vídeo e gerenciar dispositivos de impressão conectados ao computador.
- III. O Painel de Controle é o local principal para a instalação e a remoção de programas e aplicativos no Windows 10.

Estão corretas as afirmativas

- A) I e II, apenas.
- B) I e III, apenas.
- C) II e III, apenas.
- D) I, II e III.

QUESTÃO 14

Existem muitos tipos de ataques a redes, cada um visando a explorar vulnerabilidades específicas para comprometer a segurança da rede.

O ataque que visa a sobrecarregar um servidor ou rede com um volume massivo de tráfego, tornando-o inacessível para os usuários legítimos, é chamado de

- A) Ataque de Envenenamento de ARP.
- B) Ataque de Negação de Serviço (DDoS).
- C) Ataque de *Phishing*.
- D) Ataque de Força Bruta.

QUESTÃO 15

A internet é uma rede global que conecta bilhões de dispositivos em todo o mundo, permitindo a troca de informações e recursos.

Com relação às noções básicas de internet, assinale a alternativa correta.

- A) A internet é uma rede de computadores exclusiva para uso governamental e militar.
- B) HTTP é um protocolo de segurança usado para criptografar todas as comunicações na internet, garantindo a privacidade de todos os usuários.
- C) Um endereço IP (Internet Protocol) é um identificador exclusivo atribuído a um dispositivo conectado à internet para facilitar a comunicação e a identificação na rede.
- D) A World Wide Web (WWW) também pode ser chamada de internet.

LEGISLAÇÃO

QUESTÃO 16

Em relação aos direitos e deveres individuais e coletivos previstos na Constituição da República Federativa do Brasil de 1988, assinale a alternativa incorreta.

- A) É assegurada, mediante o pagamento de taxa, a obtenção de certidões em repartições públicas para defesa de direitos.
- B) As entidades associativas, quando expressamente autorizadas, têm legitimidade para representar seus filiados judicial ou extrajudicialmente.
- C) É livre a expressão da atividade intelectual, artística, científica e de comunicação, independentemente de censura ou licença.
- D) A pena será cumprida em estabelecimentos distintos, de acordo com a natureza do delito, a idade e o sexo do apenado.

QUESTÃO 17

Sobre as vedações ao servidor público, previstas no Decreto nº 1.171, de 22 de junho de 1994, que aprova o Código de Ética Profissional do Servidor Público Civil do Poder Executivo Federal, analise as afirmativas a seguir.

- I. É vedado ao servidor exercer atividade profissional aética ou ligar o seu nome a empreendimentos de cunho duvidoso.
- II. É vedado ao servidor público retirar da repartição pública livro ou bem pertencente ao patrimônio público, salvo se for autorizado pelo superior hierárquico.
- III. É vedado ao servidor público embriagar-se, ainda que esporadicamente.

Está(ão) correta(s) a(s) afirmativa(s)

- A) I, apenas.
- B) II, apenas.
- C) I e II, apenas.
- D) I, II e III.

QUESTÃO 18

O credenciamento, de acordo com as previsões da Lei nº 14.133, de 1º de abril de 2021, conhecida como Lei de Licitações e Contratos Administrativos, poderá ser usado na seguinte hipótese de contratação:

- A) Paralela e excludente
- B) Com seleção a critério de terceiros
- C) Em mercados sem flutuação
- D) De particular para provimento de atividade do Poder Público

QUESTÃO 19

Conforme disposto na Lei nº 13.709, de 14 de agosto de 2018, conhecida como Lei Geral de Proteção de Dados Pessoais (LGPD), o término do tratamento de dados pessoais ocorrerá nas seguintes hipóteses, exceto:

- A) Verificação de que a finalidade foi alcançada
- B) Cumprimento de obrigação legal ou regulatória pelo controlador
- C) Fim do período de tratamento
- D) Determinação da autoridade nacional, quando houver violação ao disposto na LGPD

QUESTÃO 20

De acordo com a Lei nº 12.527, de 18 de novembro de 2011, conhecida como Lei de Acesso à Informação, não constitui conduta ilícita que enseja responsabilidade do agente público ou militar:

- A) Impor sigilo à informação para obter proveito pessoal ou de terceiro, ou para fins de ocultação de ato ilegal cometido por si ou por outrem
- B) Ocultar da revisão de autoridade superior competente informação sigilosa para beneficiar a si ou a outrem, ou em prejuízo de terceiros
- C) Destruir ou subtrair, por qualquer meio, documentos concernentes a possíveis violações de direitos humanos por parte de agentes do Estado
- D) Agir com negligência ou imprudência na análise das solicitações de acesso à informação

QUESTÃO 21

Segundo a Lei nº 8.112, de 11 de dezembro de 1990, que dispõe sobre o regime jurídico dos servidores públicos civis da União, das autarquias e das fundações públicas federais, não é uma forma de provimento de cargo público a

- A) ascensão.
- B) recondução.
- C) reversão.
- D) promoção.

QUESTÃO 22

Segundo o Estatuto da Universidade Federal dos Vales do Jequitinhonha e Mucuri, não é uma competência do diretor da Unidade Acadêmica:

- A) Submeter à apreciação da Congregação o orçamento anual e as prioridades para aplicação dos recursos
- B) Estabelecer as normas de afastamento de docentes, para fins de capacitação e cooperação
- C) Planejar e gerir os recursos de pessoal, orçamentários, financeiros, materiais e patrimoniais sob sua responsabilidade
- D) Convocar e presidir as reuniões da Congregação, com voto comum e de qualidade

QUESTÃO 23

Sobre os currículos e as normas previstas no Estatuto da Universidade Federal dos Vales do Jequitinhonha e Mucuri, analise as afirmativas a seguir.

- I. Os conteúdos dos componentes curriculares relacionados às disciplinas serão especificados em ementas e programas, com carga horária e créditos pré-definidos.
- II. O Conselho de Curadores disporá sobre a criação, a organização, o funcionamento e a extinção dos cursos de graduação.
- III. Qualquer que seja a forma de admissão, deverá o discente, nas datas fixadas pelo calendário acadêmico, realizar seu registro, conforme especificado no edital do processo seletivo correspondente.

Está(ão) correta(s) a(s) afirmativa(s)

- A) I, apenas.
- B) II, apenas.
- C) I e III, apenas.
- D) I, II e III.

QUESTÃO 24

De acordo com o Regimento Geral da Universidade Federal dos Vales do Jequitinhonha e Mucuri, são órgãos das Unidades Acadêmicas, exceto:

- A) Congregação
- B) Diretoria
- C) Conselho universitário
- D) Colegiado de curso

QUESTÃO 25

Sobre as normas relativas ao funcionamento dos órgãos colegiados previstas no Regimento Geral da Universidade Federal dos Vales do Jequitinhonha e Mucuri, assinale com V as afirmativas verdadeiras e com F as falsas.

- () As reuniões dos colegiados serão convocadas pelo respectivo Presidente, com antecedência de 48 (quarenta e oito) horas para as reuniões ordinárias.
- () O comparecimento dos membros nas reuniões de órgãos colegiados é facultativo.
- () Serão consideradas aprovadas as propostas que obtiverem maioria simples de votos dos presentes, salvo disposição expressa no Estatuto ou no Regimento Geral.
- () Os representantes do corpo técnico-administrativo serão escolhidos pelos seus pares em processo organizado por eles ou pelas respectivas entidades representativas, por sufrágio secreto e universal.

Assinale a sequência correta.

- A) V V F V
- B) F F V V
- C) F F V F
- D) V V F F

CONHECIMENTOS ESPECÍFICOS

TÉCNICO DE LABORATÓRIO – ANATOMIA E NECROPSIA

QUESTÃO 26

Anatomicamente, o sistema urinário do homem é constituído por

- A) rins, ureteres, bexiga, uretra.
- B) glândula bulbo uretral, uretra, ducto ejaculatório, bexiga.
- C) bexiga, ureteres, vesícula seminal, rins.
- D) bexiga, ureter, rins, ducto ejaculatório.

QUESTÃO 27

Para a preparação de crânios desarticulados, os seguintes procedimentos são realizados, exceto:

- A) Retirar todos os tecidos moles por meio de instrumentos e maceração em água, antes de iniciar a desarticulação.
- B) Expor crânios idosos à ação de larvas em dermestário para obter adequada desarticulação dos ossos.
- C) Submergir o crânio preenchido por sementes em água para que a dilatação das sementes resulte na separação dos ossos.
- D) Separar o osso etmoide do osso frontal e do osso esfenóide usando estiletas, para garantir a integridade do osso etmoide.

QUESTÃO 28

Não é um método utilizado para a maceração:

- A) Maceração em água corrente
- B) Maceração química
- C) Maceração por digestão dos tecidos ou enzimática
- D) Maceração por congelamento e descongelamento

QUESTÃO 29

O estudo anatômico das diferentes articulações presentes no corpo humano é fundamental para se compreender os movimentos por elas executados. Portanto, peças anatômicas com mobilidade preservada são preferenciais.

Não é uma etapa observada para o preparo desse tipo de peça anatômica:

- A) Retirada dos tecidos moles com o auxílio de instrumentos, como o bisturi
- B) Tratamento da peça com terebintina durante a fase de desidratação
- C) Movimentação das articulações durante a fase de desidratação
- D) Fixação prévia da peça em solução de formol 10% antes de iniciar a retirada dos tecidos

QUESTÃO 30

Observar a biossegurança no ambiente do Laboratório de Anatomia e Necropsia é fundamental para reduzir ou coibir os riscos de acidente. Materiais perfuro-cortantes, máquinas de corte, produtos químicos, contaminantes biológicos são exemplos de fontes de risco para o servidor que atua nesse ambiente. Por isso, é fundamental compreender os diferentes níveis de biossegurança para a implementação de protocolos que atendam adequadamente às demandas de cada um deles.

Dentre os 4 níveis de biossegurança apresentados a seguir, considerando a principal característica de cada um deles, assinale a alternativa incorreta.

- A) Nível de biossegurança 1: o trabalho realizado nesse nível de biossegurança apresenta o menor grau de risco individual e para o meio ambiente. Nessa condição, o servidor está desobrigado de utilizar equipamentos de contenção específicos.
- B) Nível de biossegurança 2: é adequado ao trabalho que envolve agentes de risco individual moderado e risco limitado para o ambiente. O agente patogênico pode causar doença, mas os riscos são reduzidos quando a contenção adequada é utilizada.
- C) Nível de biossegurança 3: quando os agentes biológicos podem causar doenças graves ao homem ou aos animais, representando risco para quem os manipula, mas baixo risco de transmissão.
- D) Nível de biossegurança 4: condições nas quais os agentes patogênicos representam grande ameaça para o homem e animais, com alto risco de transmissão de um indivíduo ao outro. Em geral, os tratamentos para esses agentes apresentam bons resultados.

QUESTÃO 31

A montagem do esqueleto exige, do técnico em Anatomia e Necropsia, o conhecimento acerca do posicionamento anatômico dos ossos.

Assim, a disposição correta dos ossos do carpo, a partir do plano lateral, é, respectivamente:

- A) Fileira proximal: piramidal, escafoide, semilunar, pisiforme. Fileira distal: trapézio, trapezoide, hamato, capitato.
- B) Fileira proximal: escafoide, semilunar, piramidal, pisiforme. Fileira distal: trapézio, trapezoide, capitato, hamato.
- C) Fileira proximal: capitato, trapézio, trapezoide, hamato. Fileira distal: piramidal, semilunar, escafoide, pisiforme.
- D) Fileira proximal: hamato, semilunar, trapezoide, pisiforme. Fileira distal: piramidal, trapézio, capitato, escafoide.

QUESTÃO 32

Para a aula prática de Generalidades do Sistema Muscular, os estudantes deverão identificar os músculos, quanto à sua classificação morfológica, sendo solicitado ao técnico em anatomia e necropsia exemplos de músculo largo, músculo poligástrico e músculo bipenado.

As peças escolhidas pelo técnico em anatomia e necropsia que atendem à demanda da aula são

- A) músculo abductor longo do polegar, músculo digástrico, músculo peitoral maior.
- B) músculo bíceps braquial, músculo transverso abdominal, músculo reto femoral.
- C) músculo glúteo máximo, músculo reto abdominal, músculo reto femoral.
- D) músculo tríceps braquial, músculo extensor longo dos dedos, músculo vasto medial.

QUESTÃO 33

A contenção secundária consiste na aplicação de medidas para reduzir o risco ambiental de exposição do trabalhador aos agentes nocivos.

Para isso, a estrutura física do local de trabalho deve atender às seguintes medidas de segurança secundárias, exceto:

- A) Paredes, tetos e chão devem ser fáceis de limpar, impermeáveis a líquidos e resistentes aos agentes químicos comumente utilizados para sua limpeza e desinfecção. O chão não deve ser escorregadio.
- B) As bancadas devem ser fixas às paredes, impermeáveis à água e resistentes aos desinfetantes, ácidos, solventes orgânicos e calor.
- C) Qualquer janela que precise permanecer aberta durante os procedimentos deve ser protegida por tela, para evitar insetos e, em consequência, possível fonte de contaminação cruzada.
- D) Avental, capote e outras vestimentas especiais de proteção devem ser usados durante os procedimentos nos quais a possibilidade de contato com material biológico e químico esteja aumentado e implique maior risco de exposição do trabalhador.

QUESTÃO 34

Utilizando as características morfológicas das vértebras, é possível identificá-las e classificá-las quanto ao segmento da coluna ao qual estão associadas. No entanto, algumas vértebras não apresentam as características das demais do mesmo segmento, sendo então chamadas de "vértebras atípicas".

Sendo assim, não é um exemplo de vértebra atípica:

- A) Vértebra cervical 1
- B) Vértebra cervical 7
- C) Vértebra cervical 3
- D) Vértebra cervical 2

QUESTÃO 35

Para fins de montagem do esqueleto, o técnico em anatomia e necropsia necessitará dos seguintes insumos, exceto:

- A) Furadeira elétrica ou manual
- B) Brocas 3/64, 3/16, 3/8
- C) Parafusos 1/8 e 5/16
- D) Pregos 18/30

QUESTÃO 36

A diversidade de técnicas anatômicas se deve, sobretudo, às especificidades que o estudo anatômico impõe. Assim, as técnicas utilizadas para o preparo dos ossos são chamadas osteotécnicas.

Portanto, não é considerada uma osteotécnica:

- A) Descalcificação
- B) Diafanização
- C) Maceração
- D) Corrosão

QUESTÃO 37

De acordo com a legislação brasileira vigente, poderá ser destinado para estudos ou pesquisa científica o cadáver sem documentação, ou cadáver identificado, mas não reclamado, dentro de um prazo de 30 (trinta) dias sob responsabilidade das autoridades públicas. Uma vez destinado para instituição de ensino e pesquisa, é de sua responsabilidade a guarda dos itens que, em caso de necessidade, serão utilizados para reconhecimento do cadáver.

Não está(ão) entre esses itens:

- A) Ficha datiloscópica
- B) Fotos do corpo, evidenciando marcas congênitas ou tatuagens
- C) Relatório de necropsia, se realizada
- D) As vestes usadas pelo indivíduo quando acolhido pelas autoridades públicas (Hospitais, IML)

QUESTÃO 38

A abertura do crânio, ou craniotomia, consiste em uma das fases mais delicadas da investigação necroscópica do cadáver. Alguns critérios devem ser observados para a correta execução da técnica, seja no indivíduo adulto ou criança. Esses critérios estão relacionados inclusive ao tipo de instrumental utilizado.

Com base nisso, assinale a alternativa correta.

- A) A acomodação da cabeça sobre uma base flexível e reta auxilia na realização da incisão no couro cabeludo.
- B) A incisão bimaistoidea deve ser realizada após a decapitação do cadáver.
- C) A serra elétrica é um instrumento que pode ser usado na abertura do crânio adulto.
- D) A realização de craniotomia é rotina na necropsia de cadáveres com idade superior a 1 (um) ano de vida.

QUESTÃO 39

A realização de necropsia torna-se indispensável nas seguintes situações, exceto:

- A) Morte violenta
- B) Morte natural não assistida
- C) Morte de paciente em tratamento sob regime ambulatorial ou domiciliar
- D) Morte suspeita

QUESTÃO 40

Para se obter a conservação de boa qualidade do cadáver inteiro, membros ou vísceras isoladas, o ideal é que o início do procedimento de fixação aconteça o mais rápido possível após a morte do indivíduo.

Assinale a alternativa que não apresenta um critério importante que deve ser considerado para garantir a boa fixação.

- A) A distribuição do fixador deve ser feita em todas as superfícies (interna e externa) das peças.
- B) O fixador utilizado deve ser escolhido de maneira adequada ao material que será conservado.
- C) As peças congeladas devem ser imersas ainda congeladas na solução fixadora.
- D) Na fixação por imersão, o volume do líquido fixador deve ser entre 20 (vinte) e 30 (trinta) vezes maior que o volume nominal da peça.

FOLHA DE RESPOSTAS (VERSÃO DO CANDIDATO)

| | | | | | | | | | |
|----|--------------------------|--------------------------|--------------------------|--------------------------|----|--------------------------|--------------------------|--------------------------|--------------------------|
| 1 | A | B | C | D | 21 | A | B | C | D |
| | <input type="checkbox"/> | <input type="checkbox"/> | <input type="checkbox"/> | <input type="checkbox"/> | | <input type="checkbox"/> | <input type="checkbox"/> | <input type="checkbox"/> | <input type="checkbox"/> |
| 2 | A | B | C | D | 22 | A | B | C | D |
| | <input type="checkbox"/> | <input type="checkbox"/> | <input type="checkbox"/> | <input type="checkbox"/> | | <input type="checkbox"/> | <input type="checkbox"/> | <input type="checkbox"/> | <input type="checkbox"/> |
| 3 | A | B | C | D | 23 | A | B | C | D |
| | <input type="checkbox"/> | <input type="checkbox"/> | <input type="checkbox"/> | <input type="checkbox"/> | | <input type="checkbox"/> | <input type="checkbox"/> | <input type="checkbox"/> | <input type="checkbox"/> |
| 4 | A | B | C | D | 24 | A | B | C | D |
| | <input type="checkbox"/> | <input type="checkbox"/> | <input type="checkbox"/> | <input type="checkbox"/> | | <input type="checkbox"/> | <input type="checkbox"/> | <input type="checkbox"/> | <input type="checkbox"/> |
| 5 | A | B | C | D | 25 | A | B | C | D |
| | <input type="checkbox"/> | <input type="checkbox"/> | <input type="checkbox"/> | <input type="checkbox"/> | | <input type="checkbox"/> | <input type="checkbox"/> | <input type="checkbox"/> | <input type="checkbox"/> |
| 6 | A | B | C | D | 26 | A | B | C | D |
| | <input type="checkbox"/> | <input type="checkbox"/> | <input type="checkbox"/> | <input type="checkbox"/> | | <input type="checkbox"/> | <input type="checkbox"/> | <input type="checkbox"/> | <input type="checkbox"/> |
| 7 | A | B | C | D | 27 | A | B | C | D |
| | <input type="checkbox"/> | <input type="checkbox"/> | <input type="checkbox"/> | <input type="checkbox"/> | | <input type="checkbox"/> | <input type="checkbox"/> | <input type="checkbox"/> | <input type="checkbox"/> |
| 8 | A | B | C | D | 28 | A | B | C | D |
| | <input type="checkbox"/> | <input type="checkbox"/> | <input type="checkbox"/> | <input type="checkbox"/> | | <input type="checkbox"/> | <input type="checkbox"/> | <input type="checkbox"/> | <input type="checkbox"/> |
| 9 | A | B | C | D | 29 | A | B | C | D |
| | <input type="checkbox"/> | <input type="checkbox"/> | <input type="checkbox"/> | <input type="checkbox"/> | | <input type="checkbox"/> | <input type="checkbox"/> | <input type="checkbox"/> | <input type="checkbox"/> |
| 10 | A | B | C | D | 30 | A | B | C | D |
| | <input type="checkbox"/> | <input type="checkbox"/> | <input type="checkbox"/> | <input type="checkbox"/> | | <input type="checkbox"/> | <input type="checkbox"/> | <input type="checkbox"/> | <input type="checkbox"/> |
| 11 | A | B | C | D | 31 | A | B | C | D |
| | <input type="checkbox"/> | <input type="checkbox"/> | <input type="checkbox"/> | <input type="checkbox"/> | | <input type="checkbox"/> | <input type="checkbox"/> | <input type="checkbox"/> | <input type="checkbox"/> |
| 12 | A | B | C | D | 32 | A | B | C | D |
| | <input type="checkbox"/> | <input type="checkbox"/> | <input type="checkbox"/> | <input type="checkbox"/> | | <input type="checkbox"/> | <input type="checkbox"/> | <input type="checkbox"/> | <input type="checkbox"/> |
| 13 | A | B | C | D | 33 | A | B | C | D |
| | <input type="checkbox"/> | <input type="checkbox"/> | <input type="checkbox"/> | <input type="checkbox"/> | | <input type="checkbox"/> | <input type="checkbox"/> | <input type="checkbox"/> | <input type="checkbox"/> |
| 14 | A | B | C | D | 34 | A | B | C | D |
| | <input type="checkbox"/> | <input type="checkbox"/> | <input type="checkbox"/> | <input type="checkbox"/> | | <input type="checkbox"/> | <input type="checkbox"/> | <input type="checkbox"/> | <input type="checkbox"/> |
| 15 | A | B | C | D | 35 | A | B | C | D |
| | <input type="checkbox"/> | <input type="checkbox"/> | <input type="checkbox"/> | <input type="checkbox"/> | | <input type="checkbox"/> | <input type="checkbox"/> | <input type="checkbox"/> | <input type="checkbox"/> |
| 16 | A | B | C | D | 36 | A | B | C | D |
| | <input type="checkbox"/> | <input type="checkbox"/> | <input type="checkbox"/> | <input type="checkbox"/> | | <input type="checkbox"/> | <input type="checkbox"/> | <input type="checkbox"/> | <input type="checkbox"/> |
| 17 | A | B | C | D | 37 | A | B | C | D |
| | <input type="checkbox"/> | <input type="checkbox"/> | <input type="checkbox"/> | <input type="checkbox"/> | | <input type="checkbox"/> | <input type="checkbox"/> | <input type="checkbox"/> | <input type="checkbox"/> |
| 18 | A | B | C | D | 38 | A | B | C | D |
| | <input type="checkbox"/> | <input type="checkbox"/> | <input type="checkbox"/> | <input type="checkbox"/> | | <input type="checkbox"/> | <input type="checkbox"/> | <input type="checkbox"/> | <input type="checkbox"/> |
| 19 | A | B | C | D | 39 | A | B | C | D |
| | <input type="checkbox"/> | <input type="checkbox"/> | <input type="checkbox"/> | <input type="checkbox"/> | | <input type="checkbox"/> | <input type="checkbox"/> | <input type="checkbox"/> | <input type="checkbox"/> |
| 20 | A | B | C | D | 40 | A | B | C | D |
| | <input type="checkbox"/> | <input type="checkbox"/> | <input type="checkbox"/> | <input type="checkbox"/> | | <input type="checkbox"/> | <input type="checkbox"/> | <input type="checkbox"/> | <input type="checkbox"/> |

AO TRANSFERIR ESSAS MARCAÇÕES PARA A FOLHA DE RESPOSTAS,
OBSERVE AS INSTRUÇÕES ESPECÍFICAS DADAS NA CAPA DA PROVA.

USE CANETA ESFEROGRÁFICA AZUL OU PRETA.



Segundo a Lei nº 9.610/1998, reproduções de natureza não pedagógicas das questões desta prova estão proibidas.

TÉCNICO DE LABORATÓRIO – ANÁLISES CLÍNICAS

Código: 205

ABRA APENAS QUANDO AUTORIZADO.

Leia com atenção as seguintes instruções:

- Este caderno contém as **40 questões** da Prova Objetiva, composta por: 10 questões de Língua Portuguesa, 5 questões de Informática Básica, 10 questões de Legislação, e 15 questões de Conhecimentos Específicos.
Caso haja algum problema em seu caderno de provas, informe ao aplicador de provas.
- As informações / instruções dadas no dia da prova complementam o edital.
- Durante as provas, não é permitido o uso de dispositivos eletrônicos de qualquer tipo e celulares, assim como relógios e materiais de consulta.
- Use a Folha de Respostas (versão do candidato) reproduzida no final do Caderno de Provas apenas para marcar seu Gabarito. Esse rascunho somente poderá ser destacado pelo aplicador de provas.
- Na **Folha de Respostas**:
 - Confira seu nome, número de inscrição e cargo.
 - Assine, A TINTA, no espaço próprio indicado.
 - Transcreva a seguinte frase, com sua caligrafia usual, mantendo as letras maiúsculas e minúsculas, desconsiderando aspas e autoria:

“Perder-se também é caminho.”

Clarice Lispector
- A Folha de Respostas deve ser assinada e não deve ser dobrada, amassada ou rasurada.
- Ao transferir as respostas para a Folha de Respostas:
 - Use somente caneta AZUL ou PRETA, preenchendo toda a área reservada à letra correspondente à resposta solicitada em cada questão, conforme o modelo:

| | | | | |
|----|-------------------------------------|--------------------------|--------------------------|--------------------------|
| 01 | <input checked="" type="checkbox"/> | <input type="checkbox"/> | <input type="checkbox"/> | <input type="checkbox"/> |
| | A | B | C | D |
 - Assinale somente uma alternativa em cada questão e não deixe nenhuma questão sem resposta.
- Sua prova e Folha de Respostas poderão ser entregues somente após o término do período de sigilo: 1 hora.
- Sua resposta **NÃO** será computada se houver marcação de mais de uma alternativa, questões não assinaladas ou rasuradas.
- Ao entregar sua prova, recolha seus objetos, deixe a sala de provas e, em seguida, o prédio. Até deixar as dependências do local de prova, continuam válidas as proibições do uso de aparelhos eletrônicos e celulares, bem como não lhe é mais permitido o uso dos sanitários.
- O Caderno de Questões da Prova Objetiva e os gabaritos serão divulgados no endereço eletrônico www.gestaodeconcursos.com.br, no dia subsequente à data da prova.

**DURAÇÃO TOTAL DAS PROVAS,
INCLUINDO TRANSCRIÇÃO DA
FOLHA DE RESPOSTAS:
QUATRO HORAS**

Escreva seu nome completo de forma legível.

NOME: _____

INSTRUÇÃO: Leia o texto a seguir para responder às questões 1 e 2.

Glamorizar o passado é se deixar enganar

Prefiro a caneta ao teclado — apesar da minha letra, que às vezes nem eu entendo —, o papel à tela, o livro físico ao digital. Não é saudosismo e muito menos uma vilanização dos avanços tecnológicos, que ao mesmo tempo são uma bênção e uma maldição. Não glamorizo o passado como sendo melhor: o melhor vive na nossa imaginação [...].

Mantenho o melhor de antes — que gravei no meu HD apertando o rec e o play — e aproveito o melhor de hoje. O que posso escolher escolho, dentro de uma lista nada coerente entre o antigo e o novo, com a vantagem de carregar comigo o passado. A nossa história é um caminho irreversível, saber viver o presente é o melhor dos mundos.

KORICH, Becky S. Glamorizar o passado é se deixar enganar. **Folha de S.Paulo**. Colunas, 11 set. 2023. Disponível em: <https://www1.folha.uol.com.br/colunas/becky-korich/2023/09/glamorizar-o-passado-e-se-deixar-enganar.shtml>. Acesso em: 11 set. 2023. [Fragmento]

QUESTÃO 1

De acordo com as informações apresentadas, pode-se inferir que, para a autora,

- A) o passado apresentava condições melhores que o futuro, que é desesperançoso.
- B) o presente supera o passado devido aos avanços tecnológicos que se apresentam.
- C) o antigo e o novo convivem juntos, e ela aproveita o que há de melhor de cada um.
- D) o saudosismo do passado é o que alimenta a busca por saber viver bem o presente.

QUESTÃO 2

Releia este trecho.

“Não **glamorizo** o passado como sendo melhor: o melhor vive na nossa imaginação [...]”.

O termo em destaque nesse fragmento indica que a autora

- A) não atribui ao passado valor excessivo, mais atraente que o presente.
- B) desconsidera o passado como sendo importante para o futuro.
- C) ignora que o passado foi a melhor época da sua vida.
- D) apaga as lembranças positivas em suas memórias.

QUESTÃO 3

Gaúcho resgatou mais de 100 pessoas de enchente com pequeno barco: ‘fiquei 23 horas em cima do rio’

Mais de 100 pessoas foram salvas por apenas um homem durante a tragédia que atingiu o Vale do Taquari, no Rio Grande do Sul, no começo da semana passada. Com um pequeno barco, o gaúcho Sérgio Benini, morador de Roca Sales, conseguiu resgatar vários vizinhos da enchente que atingiu a cidade, uma das mais afetadas.

“Eu fiquei 23 horas em cima do rio. Nós arrancamos o telhado à mão. As pessoas subiam no segundo piso, no forro embaixo do telhado, porque estava chovendo. E lá eles só gritavam socorro, socorro, socorro”, relembrou ele ao Fantástico.

[...] Conforme a água foi ganhando força pelas ruas da cidade, começaram os pedidos por ajuda. Das janelas, moradores começaram a registrar a força da água.

PORTAL G1. Gaúcho resgatou mais de 100 pessoas de enchente com pequeno barco: ‘fiquei 23 horas em cima do rio’. **Portal G1**. Disponível em: <https://g1.globo.com/fantastico/noticia/2023/09/11/gaucho-resgatou-mais-de-100-pessoas-de-enchente-com-pequeno-barco-fiquei-23-horas-em-cima-do-rio.ghhtml>. Acesso em: 11 set. 2023. [Fragmento]

As diferentes funções da linguagem atendem a propósitos específicos da comunicação. Considerando o texto, a função da linguagem a ele associada é aquela que

- A) valoriza a figura de heróis modernos, reais, sendo classificada como poética.
- B) transmite informações com foco no assunto, classificando-se como referencial.
- C) busca convencer o leitor sobre um posicionamento, sendo chamada de apelativa.
- D) estabelece um diálogo indireto com o leitor do texto, sendo classificada como fática.

QUESTÃO 4

Paz e guerra

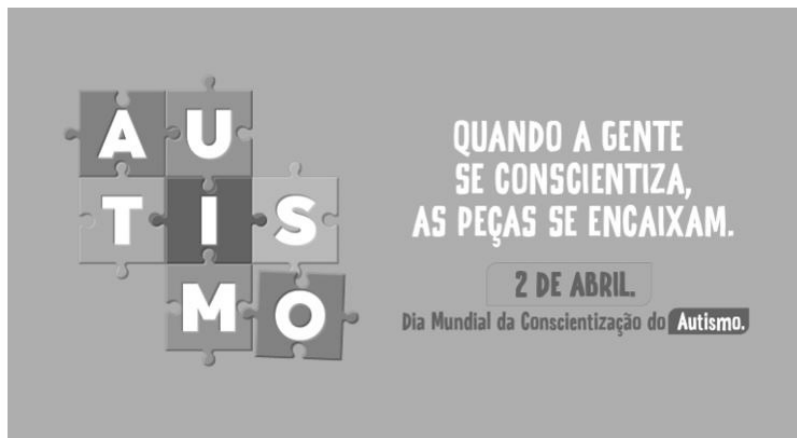
Eu estava atrasado para a guerra; tive de tomar um táxi. Uma contrariedade: com o recente aumento do preço da corrida, aquilo era uma despesa imprevista e inoportuna, um abalo em meu orçamento. Contudo, cheguei justo a tempo de marcar o ponto, evitando assim transtornos maiores.

SCLIAR, Moacyr. Paz e guerra. *In*: **Conto Brasileiro**. Disponível em: <https://contobrasileiro.com.br/paz-e-guerra-conto-de-moacyr-scliar/>. Acesso em: 6 set. 2023. [Fragmento]

Nesse conto de Moacyr Scliar, o sinal de dois-pontos tem a função de introduzir uma

- A) advertência.
- B) dúvida.
- C) explicação.
- D) enumeração.

QUESTÃO 5



Disponível em: <https://prefeitura.pbh.gov.br/noticias/bh-promove-campanha-e-acoes-de-visibilidade-no-mes-de-conscientizacao-do-autismo>. Acesso em: 7 set. 2023.

Tendo em vista os elementos verbais e não verbais do cartaz, infere-se que seu objetivo é

- A) incentivar a busca de tratamento para pessoas diagnosticadas com transtorno do espectro autista.
- B) promover a visibilidade e a inclusão de pessoas com transtorno do espectro autista na sociedade.
- C) sugerir a definição de uma data para celebrar a inclusão de pessoas com autismo no meio social.
- D) defender a luta por maior visibilidade das pessoas com autismo nos ambientes governamentais.

QUESTÃO 6



Disponível em: <https://tirasarmandinho.tumblr.com>. Acesso em: 6 set. 2023.

Na construção da tirinha, foi usada linguagem

- A) corporal, pois o personagem utiliza todas as partes do corpo para parabenizar a mulher em uma data comemorativa.
- B) simbólica, pois as flores representam um objeto de desejo feminino, reproduzindo uma visão superficial das mulheres.
- C) verbo-visual, pois o texto escrito está em elipse, sendo inferido pelo contexto em que os personagens estão inseridos.
- D) visual, pois a mensagem comunicativa pode ser compreendida mesmo sem uso de palavras, mas apenas de imagens.

QUESTÃO 7

Podemos alimentar o discurso de ódio sem perceber

As redes sociais se tornam convenientes para quem produz falas discriminatórias e intolerantes porque elas conseguem interpretar o comportamento dos usuários, recomendando automaticamente conteúdos alinhados com os interesses deles. As redes criam, portanto, uma audiência para oradores de discursos de ódio que normalmente teriam pouco alcance.

Ocorre que, também por essa razão, as mesmas ações que contribuem para a propagação de um vídeo, foto ou meme, como as curtidas e compartilhamentos, colaboram para disseminar essas mensagens problemáticas. Entender isso é importante para evitarmos propagar o discurso que queremos combater.

Explico: por causa de como as plataformas funcionam, quanto mais interagirmos com a postagem problemática, maior será a audiência atingida por ela e mais perigosa esta mensagem será. Isso acontece mesmo quando compartilhamos uma manifestação de ódio como forma de denúncia ou publicamos um comentário criticando o conteúdo.

[...]

Infelizmente, mesmo com boas intenções e sem perceber, podemos acabar ajudando a disseminar posts que depreciam pessoas por sua etnia, gênero, orientação sexual ou outro marcador social. Isso é profundamente perigoso, pois quanto mais pessoas são alcançadas e têm suas opiniões formadas por discursos de ódio, mais provável se torna que algumas delas pratiquem atos concretos de discriminação e violência contra minorias sociais e grupos vulneráveis.

SALVADOR, J. P. F. Podemos alimentar o discurso de ódio sem perceber. **Hoje em Dia**. Opinião, 18 out. 2023. Disponível em: <https://www.hojeemdia.com.br/opiniao/opiniao/podemos-alimentar-o-discurso-de-odio-sem-perceber-1.984113>. Acesso em: 23 out. 2023. [Fragmento]

Em seu texto, o autor argumenta que

- A) ter cuidado com conteúdos consumidos e compartilhados nas redes sociais é uma forma de evitar a disseminação de discursos de ódio.
- B) alimentar a disseminação de discursos de ódio é um dos objetivos das plataformas de redes sociais, devido ao engajamento.
- C) acabar com os discursos de ódio nas redes sociais requer que os usuários façam comentários negativos nos posts.
- D) disseminar discursos de ódio nas redes sociais é uma característica dos produtores de conteúdo que têm pouco alcance.

QUESTÃO 8

Codinome Beija-flor

Pra que mentir
Fingir que perdoou
Tentar ficar amigos sem rancor
A emoção acabou
Que coincidência é o amor
A nossa música nunca mais tocou

Pra que usar de tanta educação
Pra destilar terceiras intenções
Desperdiçando o meu mel
Devagarzinho, flor em flor
Entre os meus inimigos, beija-flor

CAZUZA. Codinome Beija-flor. In: **Vagalume**. Disponível em: <https://www.vagalume.com.br/cazuza/codinome-beija-flor.html>. Acesso em: 6 set. 2023. [Fragmento]

As palavras podem ser formadas por diferentes processos. Um deles é a composição por justaposição, em que dois termos são unidos um ao outro, sem perda de seus elementos.

Na canção de Cazuzza, ocorre justaposição na formação da palavra

- A) destilar.
- B) inimigos.
- C) devagarzinho.
- D) beija-flor.

QUESTÃO 9

A disciplina do amor

Foi na França, durante a Segunda Grande Guerra: um jovem tinha um cachorro que todos os dias, pontualmente, ia esperá-lo voltar do trabalho. Postava-se na esquina, um pouco antes das seis da tarde. Assim que via o dono, ia correndo ao seu encontro e na maior alegria acompanhava-o com seu passinho **saltitante** de volta à casa. A vila inteira já conhecia o cachorro e as pessoas que passavam faziam-lhe festinhas e ele correspondia, chegava até a correr todo animado atrás dos mais íntimos. Para logo voltar atento ao seu posto e ali ficar sentado até o momento em que seu dono apontava lá longe.

TELLES, Lygia Fagundes. A disciplina do amor. In: **Conto Brasileiro**. Disponível em: <https://contobrasileiro.com.br/a-disciplina-do-amor-conto-de-lygia-fagundes-telles/>. Acesso em: 6 set. 2023. [Fragmento]

Assinale a alternativa em que o termo destacado pertença, no contexto, à mesma classe de palavras daquela em destaque no texto.

- A) “Foi na França, durante a Segunda **Grande** guerra [...]”.
- B) “Assim que via o dono, ia correndo ao seu **encontro** [...]”.
- C) “[...] até o momento em que seu **dono** apontava lá longe.”
- D) “Postava-se na esquina, um **pouco** antes das seis da tarde.”

QUESTÃO 10

Escola em tempo integral para uma educação integral

O Brasil é um dos países mais desiguais do mundo, tanto na área econômica como na social, e continuará sendo enquanto a oferta da educação de qualidade permanecer desigual. Sem oportunidades iguais de acesso a um ensino de qualidade para todas as crianças e adolescentes, jamais ultrapassaremos os umbrais da mediocridade. Por isso, termos as escolas funcionando em período estendido é uma das poucas quase-unanidades, como demonstram diversas pesquisas.

VENTURI, Jacir. Escola em tempo integral para uma educação integral. **Gazeta do povo**. Opinião, 31 ago. 2023. Disponível em: <https://www.gazetadopovo.com.br/opiniaio/artigos/escola-em-tempo-integral-para-uma-educacao-integral/>. Acesso em: 6 set. 2023. [Fragmento]

No texto, observa-se o sentido conotativo em:

- A) “Umbrais da mediocridade”, que indica uma limitação do Brasil no avanço da qualidade do ensino escolar.
- B) “Ensino de qualidade”, que alude às escolas particulares, às quais a maior parte da população não tem acesso.
- C) “Diversas pesquisas”, que indefine propositadamente as pesquisas, evidenciando ausência de embasamento.
- D) “Oportunidades iguais”, que ironiza o fato de que a igualdade da educação no Brasil não é possível para a grande massa.

INFORMÁTICA BÁSICA

QUESTÃO 11

A impressão de apresentações é uma etapa importante na comunicação de informações por meio do Microsoft PowerPoint. Analise as afirmativas a seguir, relacionadas à impressão de apresentações no Microsoft PowerPoint para office 365.

- I. A opção de imprimir *slides* selecionados permite selecionar partes de cada *slide* a ser impresso.
- II. Pode-se selecionar a impressão de um intervalo de *slides*, como imprimir todos os *slides*, exceto a capa da apresentação.
- III. A opção de anotações do apresentador permite imprimir a apresentação juntamente com as anotações feitas pelo elaborador da apresentação.

Estão corretas as afirmativas

- A) I e II, apenas.
- B) I e III, apenas.
- C) II e III, apenas.
- D) I, II e III.

QUESTÃO 12

Tendo em vista os tipos de gráficos disponíveis no Microsoft Excel para office 365, numere a COLUNA II de acordo com a COLUNA I, associando os conceitos aos tipos de gráficos correspondentes.

COLUNA I

- 1. Gráfico de pizza
- 2. Gráfico de linhas

COLUNA II

- () Mostram o tamanho dos itens, em um série de dados, proporcional à soma desses itens.
- () Podem mostrar dados contínuos ao longo do tempo em um eixo com escalas iguais e, portanto, são ideais para mostrar tendências de dados em intervalos iguais, como meses, trimestres ou anos fiscais.
- () Pontos de dados deste gráfico são exibidos como uma porcentagem do total de dados.

Assinale a sequência correta.

- A) 2 1 2
- B) 1 2 1
- C) 1 1 2
- D) 2 2 1

QUESTÃO 13

O sistema operacional Windows 10 oferece uma variedade de configurações que podem ser personalizadas por meio do Painel de Controle. Analise as afirmativas a seguir, relacionadas às configurações básicas do Windows 10.

- I. No Painel de Controle, o usuário pode personalizar as configurações de rede no Windows 10, como a configuração de uma conexão Wi-Fi.
- II. No Painel de Controle, é possível alterar a resolução da tela, ajustar as configurações de vídeo e gerenciar dispositivos de impressão conectados ao computador.
- III. O Painel de Controle é o local principal para a instalação e a remoção de programas e aplicativos no Windows 10.

Estão corretas as afirmativas

- A) I e II, apenas.
- B) I e III, apenas.
- C) II e III, apenas.
- D) I, II e III.

QUESTÃO 14

Existem muitos tipos de ataques a redes, cada um visando a explorar vulnerabilidades específicas para comprometer a segurança da rede.

O ataque que visa a sobrecarregar um servidor ou rede com um volume massivo de tráfego, tornando-o inacessível para os usuários legítimos, é chamado de

- A) Ataque de Envenenamento de ARP.
- B) Ataque de Negação de Serviço (DDoS).
- C) Ataque de *Phishing*.
- D) Ataque de Força Bruta.

QUESTÃO 15

A internet é uma rede global que conecta bilhões de dispositivos em todo o mundo, permitindo a troca de informações e recursos.

Com relação às noções básicas de internet, assinale a alternativa correta.

- A) A internet é uma rede de computadores exclusiva para uso governamental e militar.
- B) HTTP é um protocolo de segurança usado para criptografar todas as comunicações na internet, garantindo a privacidade de todos os usuários.
- C) Um endereço IP (Internet Protocol) é um identificador exclusivo atribuído a um dispositivo conectado à internet para facilitar a comunicação e a identificação na rede.
- D) A World Wide Web (WWW) também pode ser chamada de internet.

LEGISLAÇÃO

QUESTÃO 16

Em relação aos direitos e deveres individuais e coletivos previstos na Constituição da República Federativa do Brasil de 1988, assinale a alternativa incorreta.

- A) É assegurada, mediante o pagamento de taxa, a obtenção de certidões em repartições públicas para defesa de direitos.
- B) As entidades associativas, quando expressamente autorizadas, têm legitimidade para representar seus filiados judicial ou extrajudicialmente.
- C) É livre a expressão da atividade intelectual, artística, científica e de comunicação, independentemente de censura ou licença.
- D) A pena será cumprida em estabelecimentos distintos, de acordo com a natureza do delito, a idade e o sexo do apenado.

QUESTÃO 17

Sobre as vedações ao servidor público, previstas no Decreto nº 1.171, de 22 de junho de 1994, que aprova o Código de Ética Profissional do Servidor Público Civil do Poder Executivo Federal, analise as afirmativas a seguir.

- I. É vedado ao servidor exercer atividade profissional aética ou ligar o seu nome a empreendimentos de cunho duvidoso.
- II. É vedado ao servidor público retirar da repartição pública livro ou bem pertencente ao patrimônio público, salvo se for autorizado pelo superior hierárquico.
- III. É vedado ao servidor público embriagar-se, ainda que esporadicamente.

Está(ão) correta(s) a(s) afirmativa(s)

- A) I, apenas.
- B) II, apenas.
- C) I e II, apenas.
- D) I, II e III.

QUESTÃO 18

O credenciamento, de acordo com as previsões da Lei nº 14.133, de 1º de abril de 2021, conhecida como Lei de Licitações e Contratos Administrativos, poderá ser usado na seguinte hipótese de contratação:

- A) Paralela e excludente
- B) Com seleção a critério de terceiros
- C) Em mercados sem flutuação
- D) De particular para provimento de atividade do Poder Público

QUESTÃO 19

Conforme disposto na Lei nº 13.709, de 14 de agosto de 2018, conhecida como Lei Geral de Proteção de Dados Pessoais (LGPD), o término do tratamento de dados pessoais ocorrerá nas seguintes hipóteses, exceto:

- A) Verificação de que a finalidade foi alcançada
- B) Cumprimento de obrigação legal ou regulatória pelo controlador
- C) Fim do período de tratamento
- D) Determinação da autoridade nacional, quando houver violação ao disposto na LGPD

QUESTÃO 20

De acordo com a Lei nº 12.527, de 18 de novembro de 2011, conhecida como Lei de Acesso à Informação, não constitui conduta ilícita que enseja responsabilidade do agente público ou militar:

- A) Impor sigilo à informação para obter proveito pessoal ou de terceiro, ou para fins de ocultação de ato ilegal cometido por si ou por outrem
- B) Ocultar da revisão de autoridade superior competente informação sigilosa para beneficiar a si ou a outrem, ou em prejuízo de terceiros
- C) Destruir ou subtrair, por qualquer meio, documentos concernentes a possíveis violações de direitos humanos por parte de agentes do Estado
- D) Agir com negligência ou imprudência na análise das solicitações de acesso à informação

QUESTÃO 21

Segundo a Lei nº 8.112, de 11 de dezembro de 1990, que dispõe sobre o regime jurídico dos servidores públicos civis da União, das autarquias e das fundações públicas federais, não é uma forma de provimento de cargo público a

- A) ascensão.
- B) recondução.
- C) reversão.
- D) promoção.

QUESTÃO 22

Segundo o Estatuto da Universidade Federal dos Vales do Jequitinhonha e Mucuri, não é uma competência do diretor da Unidade Acadêmica:

- A) Submeter à apreciação da Congregação o orçamento anual e as prioridades para aplicação dos recursos
- B) Estabelecer as normas de afastamento de docentes, para fins de capacitação e cooperação
- C) Planejar e gerir os recursos de pessoal, orçamentários, financeiros, materiais e patrimoniais sob sua responsabilidade
- D) Convocar e presidir as reuniões da Congregação, com voto comum e de qualidade

QUESTÃO 23

Sobre os currículos e as normas previstas no Estatuto da Universidade Federal dos Vales do Jequitinhonha e Mucuri, analise as afirmativas a seguir.

- I. Os conteúdos dos componentes curriculares relacionados às disciplinas serão especificados em ementas e programas, com carga horária e créditos pré-definidos.
- II. O Conselho de Curadores disporá sobre a criação, a organização, o funcionamento e a extinção dos cursos de graduação.
- III. Qualquer que seja a forma de admissão, deverá o discente, nas datas fixadas pelo calendário acadêmico, realizar seu registro, conforme especificado no edital do processo seletivo correspondente.

Está(ão) correta(s) a(s) afirmativa(s)

- A) I, apenas.
- B) II, apenas.
- C) I e III, apenas.
- D) I, II e III.

QUESTÃO 24

De acordo com o Regimento Geral da Universidade Federal dos Vales do Jequitinhonha e Mucuri, são órgãos das Unidades Acadêmicas, exceto:

- A) Congregação
- B) Diretoria
- C) Conselho universitário
- D) Colegiado de curso

QUESTÃO 25

Sobre as normas relativas ao funcionamento dos órgãos colegiados previstas no Regimento Geral da Universidade Federal dos Vales do Jequitinhonha e Mucuri, assinale com V as afirmativas verdadeiras e com F as falsas.

- () As reuniões dos colegiados serão convocadas pelo respectivo Presidente, com antecedência de 48 (quarenta e oito) horas para as reuniões ordinárias.
- () O comparecimento dos membros nas reuniões de órgãos colegiados é facultativo.
- () Serão consideradas aprovadas as propostas que obtiverem maioria simples de votos dos presentes, salvo disposição expressa no Estatuto ou no Regimento Geral.
- () Os representantes do corpo técnico-administrativo serão escolhidos pelos seus pares em processo organizado por eles ou pelas respectivas entidades representativas, por sufrágio secreto e universal.

Assinale a sequência correta.

- A) V V F V
- B) F F V V
- C) F F V F
- D) V V F F

CONHECIMENTOS ESPECÍFICOS

TÉCNICO DE LABORATÓRIO – ANÁLISES CLÍNICAS

QUESTÃO 26

A hanseníase é uma doença infecciosa, contagiosa, de evolução crônica, causada pela bactéria *Mycobacterium leprae*. Atinge principalmente a pele, as mucosas e os nervos periféricos (braços e pernas), com capacidade de ocasionar lesões neurais, podendo acarretar danos irreversíveis, inclusive exclusão social, caso o diagnóstico seja tardio ou o tratamento inadequado. O diagnóstico laboratorial da hanseníase é importante para auxiliar no diagnóstico diferencial com outras doenças dermatoneurológicas, casos suspeitos de recidiva e na classificação para fins de tratamento.

Disponível em: <https://www.gov.br/saude/pt-br/assuntos/saude-de-a-a-z/h/hanseníase>. Acesso em: 29 set. 2023.

A pesquisa do bacilo de Hansen é feita por meio de esfregaços cutâneos a partir da coleta nos sítios citados a seguir, exceto:

- A) Cotovelo esquerdo e direito
- B) Lóbulo de orelha direita
- C) Lóbulo de orelha esquerda
- D) Narinas

QUESTÃO 27

O hemograma é um exame que avalia as células sanguíneas de um paciente. É o exame mais solicitado pelo profissional de saúde para diagnosticar ou controlar a evolução de uma doença.

Em relação ao exame de hemograma, analise as afirmativas a seguir:

- I. Uma contagem de eosinófilos acima do valor normal de referência é denominada eosinofilia.
- II. Na contagem diferencial de leucócitos de um hemograma normal, deve-se encontrar as seguintes células: neutrófilo bastonete, neutrófilo segmentado, linfócito, monócito, eosinófilo e basófilo.
- III. O VCM (volume corpuscular médio) abaixo do valor de referência normal indica que será encontrada na lâmina micrócitos.
- IV. O termo anisocitose é usado quando na lâmina do hemograma é detectada uma diferença na forma das hemácias.

Estão corretas as afirmativas

- A) II, III e IV, apenas.
- B) I, III e IV, apenas.
- C) I, II e IV, apenas.
- D) I, II e III, apenas.

QUESTÃO 28

O meio de cultura CLED (cistina, lactose, deficiente de eletrólitos) é um meio diferencial utilizado na bacteriologia urinária. Na rotina diagnóstica, é usado como um meio não seletivo capaz de suportar o crescimento da maioria dos patógenos urinários.

No meio CLED, as bactérias apresentam a seguinte característica:

- A) Os cocos Gram-positivos não crescem.
- B) Os *Streptococcus sp* apresentam alfa hemólise.
- C) A formação do véu do *Proteus sp* é inibida.
- D) Os *Staphylococcus aureus* crescem na cor azul brilhante.

QUESTÃO 29

Na coleta de amostra de sangue, são utilizados diferentes anticoagulantes ou tubos secos para obtenção do soro.

Numere a COLUNA II de acordo com a COLUNA I, relacionando o anticoagulante aos exames a serem realizados em cada tubo.

COLUNA I

- 1. EDTA
- 2. Citrato de sódio
- 3. Fluoreto de sódio
- 4. Heparina

COLUNA II

- () Alguns exames bioquímicos
- () Hemograma
- () Glicose
- () Tempo de protrombina e tempo de tromboplastina ativada

Assinale a sequência correta.

- A) 1 2 4 3
- B) 4 1 3 2
- C) 3 1 4 2
- D) 4 2 3 1

QUESTÃO 30

O exame parasitológico de fezes (EPF) é um exame importante na clínica médica devido ao fato de as parasitoses serem consideradas um problema de saúde pública de alta prevalência no Brasil. É um exame prático que pesquisa as diferentes formas parasitárias eliminadas nas fezes. As diferentes técnicas de realização dos exames parasitológicos são empregadas de acordo com a solicitação médica ou suspeita clínica.

A técnica de exame parasitológico de fezes que usa o método de sedimentação espontânea e que consegue recuperar ovos, larvas de helmintos, cistos de protozoários e oocistos maiores é chamada de

- A) Faust.
- B) HPJ (Hofman, Pons e Janes).
- C) Willis.
- D) Baerman Moraes.

QUESTÃO 31

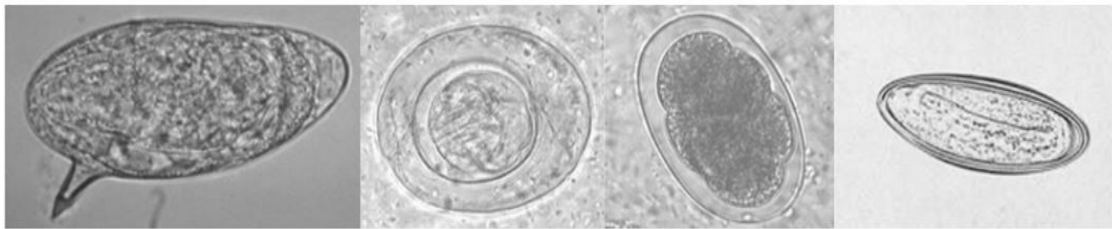
As técnicas de diluição são muito utilizadas no laboratório clínico, e para realizar a diluição é comumente usada a solução de salina. Considere que um técnico precisou diluir um soro para a realização de um exame, e para isso utilizou 1 mL de soro em 4 mL de salina.

Dessa forma, a diluição obtida foi:

- A) 1 para 4
- B) 1 para 2
- C) 1 para 5
- D) 1 para 8

QUESTÃO 32

A seguir são apresentados quatro ovos de helmintos, que podem ser visualizados durante a análise da lâmina ao microscópio de um exame parasitológico das fezes.



I.

II.

III.

IV.

Disponível em: https://s3-sa-east-1.amazonaws.com/congresso-me-assets-host/articles/archives/7021/original/Atlas_Parasitologia_JOCIB.pdf?1602790685. Acesso em: 30 out. 2023.


Assinale a alternativa que apresenta respectivamente a identificação correta de cada ovo de helminto.

- A) I - ovo de *Shistosoma*, II - ovo de *Hymenolepis*, III - ovo de *Ancylostoma*, IV - ovo de *Enterobius vermicularis*
- B) I - ovo de *Hymenolepis*, II - ovo de *Enterobius vermicularis*, III - ovo de *Shistosoma*, IV - ovo de *Ancylostoma*
- C) I - ovo de *Shistosoma*, II - ovo de *Ancylostoma*, III - ovo de *Hymenolepis*, IV - ovo de *Enterobius vermicularis*
- D) I - ovo de *Ancylostoma*, II - ovo de *Hymenolepis*, III - ovo de *Enterobius vermicularis*, IV - ovo de *Shistosoma*

QUESTÃO 33

Vidraria de laboratório se refere a uma grande variedade de equipamentos de laboratório que tradicionalmente são feitos de vidro cristal ou temperado e contém graduações em sua superfície externa. Em geral, é utilizada em análises para produção e diluição de substâncias químicas. Cada vidraria tem uma função específica, não podendo ser utilizada aleatoriamente.

Nesse contexto, analise a imagem a seguir.



Disponível em: https://br.freepik.com/vetores-gratis/vidraria-de-laboratorio-3d-vector-realista-conjunto-isolado-no-fundo-branco_4015185.htm. Acesso em: 29 set. 2023.

Com base na figura, assinale a alternativa que apresenta, respectivamente, o nome correto de cada vidraria.

- A) A - Béquero, B - Balão fundo chato, C - Erlenmeyer, D - Proveta
- B) A - Balão fundo chato, B - Béquero, C - Erlenmeyer, D - Bureta graduada
- C) A - Balão fundo chato, B - Erlenmeyer, C - Béquero, D - Proveta
- D) A - Erlenmeyer, B - Balão de fundo chato, C - Béquero, D - Bureta graduada

QUESTÃO 34

Doenças hepáticas são quaisquer doenças que prejudicam o funcionamento e a saúde do fígado. Podem ser causadas por diferentes fatores, como infecções virais, intoxicação por substâncias nocivas, consumo excessivo de álcool, má alimentação ou, ainda, de origem genética. Alguns exemplos são: a hepatite, a cirrose hepática e a esteatose. Algumas doenças podem se desenvolver lentamente, enquanto outras apresentam evolução rápida, porém muitas delas têm tratamento e cura.

Assinale a alternativa que apresenta apenas os exames laboratoriais que avaliam a função hepática.

- A) Bilirrubinas e ureia
- B) TGO e TGP
- C) Fosfatase alcalina e ácido úrico
- D) Colesterol total e HDL

QUESTÃO 35

A esterilização é o processo pelo qual se promove a eliminação ou destruição de todas as formas de microrganismos vivos que se encontram à superfície ou no interior de um material, podendo ser alcançado pela exposição do material a agentes letais físicos ou químicos, ou ainda no caso de substâncias líquidas, a separação mecânica dos organismos por meio de filtrações. Dessa forma, percebe-se que a expressão esterilização possui um significado absoluto, pois uma substância ou material não pode ser parcialmente estéril. Um material estéril é aquele totalmente isento de qualquer organismo ativo. A esterilização pode ser alcançada a partir de determinadas metodologias (Sinogas, 2009).

Uma forma de se obter uma esterilização menos tóxica, de baixo custo e mais eficaz dos materiais, dentro do laboratório clínico, é por meio do uso de

- A) ácido peracético.
- B) formaldeído.
- C) glutaraldeído a 2%.
- D) calor úmido na forma de vapor saturado sob pressão (autoclave).

QUESTÃO 36

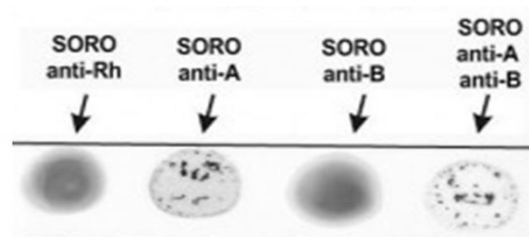
A introdução dos vários métodos de coloração contribuiu substancialmente com o avanço da microbiologia. Por meio deles, foi possível ter melhor visualização das células e dos microrganismos, já que nas preparações sem corantes só se conseguia visualizar o contorno e a conformação desses microrganismos.

Assinale a alternativa que apresenta respectivamente as técnicas de coloração mais utilizadas para visualização das bactérias aeróbias e dos bacilos álcool-ácidos resistentes.

- A) Coloração de Giemsa e coloração de Ziehl-Nielsen
- B) Coloração de Gram e coloração de Ziehl-Nielsen
- C) Coloração de Gram e coloração de Albert-Laybourn
- D) Coloração de Albert-Laybourn e coloração de Gram

QUESTÃO 37

Considere que um paciente que foi atropelado deu entrada no pronto atendimento de emergência necessitando de uma transfusão sanguínea. O laboratório clínico realizou o exame de sangue para verificar qual tipo sanguíneo do paciente e obteve o seguinte resultado:



Disponível em: https://www1.pucminas.br/imagedb/documento/DOC_DSC_NOME_ARQUI20140131095549.pdf. Acesso em: 3 out. 2023.

Diante do resultado, qual é o tipo sanguíneo do paciente?

- A) Tipo B Rh positivo.
- B) Tipo A Rh negativo.
- C) Tipo O Rh positivo.
- D) Tipo AB Rh negativo.

QUESTÃO 38

A coleta de material biológico é de fundamental importância, pois é a partir dela que ocorrerá todo o processo para se obter um resultado de exame o mais próximo da realidade do paciente. Entende-se como amostra biológica adequada aquela obtida em quantidade suficiente, em recipiente adequado, bem identificada e transportada de forma a manter a integridade do material a ser pesquisado.

Em relação aos materiais biológicos coletados para a realização dos exames laboratoriais, assinale a alternativa incorreta.

- A) As amostras de fezes liquefeitas podem ser analisadas diretamente ao microscópio com uma gota de solução fisiológica e podem ser usadas na realização da coprocultura para pesquisa de bactérias patogênicas.
- B) O líquido deve ser mantido à temperatura ambiente até ser processado em, no máximo, uma hora.
- C) A amostra de urina pode ficar armazenada até 72 horas na geladeira, desde que devidamente fechada, até o momento para a realização do exame de urina rotina, sem comprometimento do resultado final deste.
- D) Aspirados e exsudatos coletados sem meio de transporte devem ser levados e processados imediatamente no laboratório em temperatura ambiente.

QUESTÃO 39

Assinale o exame realizado periodicamente por pacientes em uso de anticoagulante oral (tipo warfarina) diário, para controle da dose e garantia da segurança no uso desse medicamento.

- A) Tempo de coagulação
- B) Tempo de tromboplastina parcial ativada
- C) Tempo de protrombina (RNI)
- D) Prova de retração do coágulo

QUESTÃO 40

O exame mais comumente realizado na urina é denominado Exame de Rotina da Urina, também conhecido como análise sumária da urina ou EAS (elementos anormais e sedimentares). Esse é um dos procedimentos laboratoriais mais solicitados pelos médicos e funciona como um exame de triagem que auxilia no diagnóstico de diversas doenças renais e extrarrenais.

Com relação à realização do exame de urina rotina, assinale com V as afirmativas verdadeiras e com F as falsas.

- () A análise do sedimento urinário (elementos figurados) pode ser feita por meio da microscopia ou por metodologia automatizada e permite a visualização de cristais, cilindros, células epiteliais, hemácias, leucócitos, microrganismos e espermatozoides.
- () A presença de cilindro leucocitário na urina é normal devido à presença da flora bacteriana presente nos órgãos genitais.
- () A análise química pode ser feita por meio de tiras reagentes, química seca ou reativos preparados no próprio laboratório.
- () O exame normal de urina rotina (EAS) apresenta proteínas.
- () A presença de cilindros hialinos na urina indica alteração grave, sugestiva de insuficiência renal crônica.

Assinale a sequência correta:

- A) V F V F F
- B) V V F V V
- C) F V F F F
- D) F F V V V

FOLHA DE RESPOSTAS (VERSÃO DO CANDIDATO)

| | | | | | | | | | |
|----|--------------------------|--------------------------|--------------------------|--------------------------|----|--------------------------|--------------------------|--------------------------|--------------------------|
| 1 | A | B | C | D | 21 | A | B | C | D |
| | <input type="checkbox"/> | <input type="checkbox"/> | <input type="checkbox"/> | <input type="checkbox"/> | | <input type="checkbox"/> | <input type="checkbox"/> | <input type="checkbox"/> | <input type="checkbox"/> |
| 2 | A | B | C | D | 22 | A | B | C | D |
| | <input type="checkbox"/> | <input type="checkbox"/> | <input type="checkbox"/> | <input type="checkbox"/> | | <input type="checkbox"/> | <input type="checkbox"/> | <input type="checkbox"/> | <input type="checkbox"/> |
| 3 | A | B | C | D | 23 | A | B | C | D |
| | <input type="checkbox"/> | <input type="checkbox"/> | <input type="checkbox"/> | <input type="checkbox"/> | | <input type="checkbox"/> | <input type="checkbox"/> | <input type="checkbox"/> | <input type="checkbox"/> |
| 4 | A | B | C | D | 24 | A | B | C | D |
| | <input type="checkbox"/> | <input type="checkbox"/> | <input type="checkbox"/> | <input type="checkbox"/> | | <input type="checkbox"/> | <input type="checkbox"/> | <input type="checkbox"/> | <input type="checkbox"/> |
| 5 | A | B | C | D | 25 | A | B | C | D |
| | <input type="checkbox"/> | <input type="checkbox"/> | <input type="checkbox"/> | <input type="checkbox"/> | | <input type="checkbox"/> | <input type="checkbox"/> | <input type="checkbox"/> | <input type="checkbox"/> |
| 6 | A | B | C | D | 26 | A | B | C | D |
| | <input type="checkbox"/> | <input type="checkbox"/> | <input type="checkbox"/> | <input type="checkbox"/> | | <input type="checkbox"/> | <input type="checkbox"/> | <input type="checkbox"/> | <input type="checkbox"/> |
| 7 | A | B | C | D | 27 | A | B | C | D |
| | <input type="checkbox"/> | <input type="checkbox"/> | <input type="checkbox"/> | <input type="checkbox"/> | | <input type="checkbox"/> | <input type="checkbox"/> | <input type="checkbox"/> | <input type="checkbox"/> |
| 8 | A | B | C | D | 28 | A | B | C | D |
| | <input type="checkbox"/> | <input type="checkbox"/> | <input type="checkbox"/> | <input type="checkbox"/> | | <input type="checkbox"/> | <input type="checkbox"/> | <input type="checkbox"/> | <input type="checkbox"/> |
| 9 | A | B | C | D | 29 | A | B | C | D |
| | <input type="checkbox"/> | <input type="checkbox"/> | <input type="checkbox"/> | <input type="checkbox"/> | | <input type="checkbox"/> | <input type="checkbox"/> | <input type="checkbox"/> | <input type="checkbox"/> |
| 10 | A | B | C | D | 30 | A | B | C | D |
| | <input type="checkbox"/> | <input type="checkbox"/> | <input type="checkbox"/> | <input type="checkbox"/> | | <input type="checkbox"/> | <input type="checkbox"/> | <input type="checkbox"/> | <input type="checkbox"/> |
| 11 | A | B | C | D | 31 | A | B | C | D |
| | <input type="checkbox"/> | <input type="checkbox"/> | <input type="checkbox"/> | <input type="checkbox"/> | | <input type="checkbox"/> | <input type="checkbox"/> | <input type="checkbox"/> | <input type="checkbox"/> |
| 12 | A | B | C | D | 32 | A | B | C | D |
| | <input type="checkbox"/> | <input type="checkbox"/> | <input type="checkbox"/> | <input type="checkbox"/> | | <input type="checkbox"/> | <input type="checkbox"/> | <input type="checkbox"/> | <input type="checkbox"/> |
| 13 | A | B | C | D | 33 | A | B | C | D |
| | <input type="checkbox"/> | <input type="checkbox"/> | <input type="checkbox"/> | <input type="checkbox"/> | | <input type="checkbox"/> | <input type="checkbox"/> | <input type="checkbox"/> | <input type="checkbox"/> |
| 14 | A | B | C | D | 34 | A | B | C | D |
| | <input type="checkbox"/> | <input type="checkbox"/> | <input type="checkbox"/> | <input type="checkbox"/> | | <input type="checkbox"/> | <input type="checkbox"/> | <input type="checkbox"/> | <input type="checkbox"/> |
| 15 | A | B | C | D | 35 | A | B | C | D |
| | <input type="checkbox"/> | <input type="checkbox"/> | <input type="checkbox"/> | <input type="checkbox"/> | | <input type="checkbox"/> | <input type="checkbox"/> | <input type="checkbox"/> | <input type="checkbox"/> |
| 16 | A | B | C | D | 36 | A | B | C | D |
| | <input type="checkbox"/> | <input type="checkbox"/> | <input type="checkbox"/> | <input type="checkbox"/> | | <input type="checkbox"/> | <input type="checkbox"/> | <input type="checkbox"/> | <input type="checkbox"/> |
| 17 | A | B | C | D | 37 | A | B | C | D |
| | <input type="checkbox"/> | <input type="checkbox"/> | <input type="checkbox"/> | <input type="checkbox"/> | | <input type="checkbox"/> | <input type="checkbox"/> | <input type="checkbox"/> | <input type="checkbox"/> |
| 18 | A | B | C | D | 38 | A | B | C | D |
| | <input type="checkbox"/> | <input type="checkbox"/> | <input type="checkbox"/> | <input type="checkbox"/> | | <input type="checkbox"/> | <input type="checkbox"/> | <input type="checkbox"/> | <input type="checkbox"/> |
| 19 | A | B | C | D | 39 | A | B | C | D |
| | <input type="checkbox"/> | <input type="checkbox"/> | <input type="checkbox"/> | <input type="checkbox"/> | | <input type="checkbox"/> | <input type="checkbox"/> | <input type="checkbox"/> | <input type="checkbox"/> |
| 20 | A | B | C | D | 40 | A | B | C | D |
| | <input type="checkbox"/> | <input type="checkbox"/> | <input type="checkbox"/> | <input type="checkbox"/> | | <input type="checkbox"/> | <input type="checkbox"/> | <input type="checkbox"/> | <input type="checkbox"/> |

AO TRANSFERIR ESSAS MARCAÇÕES PARA A FOLHA DE RESPOSTAS,
OBSERVE AS INSTRUÇÕES ESPECÍFICAS DADAS NA CAPA DA PROVA.

USE CANETA ESFEROGRÁFICA AZUL OU PRETA.



Segundo a Lei nº 9.610/1998, reproduções de natureza não pedagógicas das questões desta prova estão proibidas.

TÉCNICO DE LABORATÓRIO – ENFERMAGEM

Código: 206

ABRA APENAS QUANDO AUTORIZADO.

Leia com atenção as seguintes instruções:

- Este caderno contém as **40 questões** da Prova Objetiva, composta por: 10 questões de Língua Portuguesa, 5 questões de Informática Básica, 10 questões de Legislação, e 15 questões de Conhecimentos Específicos.
Caso haja algum problema em seu caderno de provas, informe ao aplicador de provas.
- As informações / instruções dadas no dia da prova complementam o edital.
- Durante as provas, não é permitido o uso de dispositivos eletrônicos de qualquer tipo e celulares, assim como relógios e materiais de consulta.
- Use a Folha de Respostas (versão do candidato) reproduzida no final do Caderno de Provas apenas para marcar seu Gabarito. Esse rascunho somente poderá ser destacado pelo aplicador de provas.
- Na **Folha de Respostas**:
 - Confira seu nome, número de inscrição e cargo.
 - Assine, A TINTA, no espaço próprio indicado.
 - Transcreva a seguinte frase, com sua caligrafia usual, mantendo as letras maiúsculas e minúsculas, desconsiderando aspas e autoria:
- A Folha de Respostas deve ser assinada e não deve ser dobrada, amassada ou rasurada.
- Ao transferir as respostas para a Folha de Respostas:
 - Use somente caneta AZUL ou PRETA, preenchendo toda a área reservada à letra correspondente à resposta solicitada em cada questão, conforme o modelo:

| | | | | |
|----|-------------------------------------|--------------------------|--------------------------|--------------------------|
| 01 | <input checked="" type="checkbox"/> | <input type="checkbox"/> | <input type="checkbox"/> | <input type="checkbox"/> |
| | A | B | C | D |
 - Assinale somente uma alternativa em cada questão e não deixe nenhuma questão sem resposta.
- Sua prova e Folha de Respostas poderão ser entregues somente após o término do período de sigilo: 1 hora.
- Sua resposta **NÃO** será computada se houver marcação de mais de uma alternativa, questões não assinaladas ou rasuradas.
- Ao entregar sua prova, recolha seus objetos, deixe a sala de provas e, em seguida, o prédio. Até deixar as dependências do local de prova, continuam válidas as proibições do uso de aparelhos eletrônicos e celulares, bem como não lhe é mais permitido o uso dos sanitários.
- O Caderno de Questões da Prova Objetiva e os gabaritos serão divulgados no endereço eletrônico www.gestaodeconcursos.com.br, no dia subsequente à data da prova.

“Perder-se também é caminho.”

Clarice Lispector

**DURAÇÃO TOTAL DAS PROVAS,
INCLUINDO TRANSCRIÇÃO DA
FOLHA DE RESPOSTAS:
QUATRO HORAS**

Escreva seu nome completo de forma legível.

NOME: _____

INSTRUÇÃO: Leia o texto a seguir para responder às questões 1 e 2.

Glamorizar o passado é se deixar enganar

Prefiro a caneta ao teclado — apesar da minha letra, que às vezes nem eu entendo —, o papel à tela, o livro físico ao digital. Não é saudosismo e muito menos uma vilanização dos avanços tecnológicos, que ao mesmo tempo são uma bênção e uma maldição. Não glamorizo o passado como sendo melhor: o melhor vive na nossa imaginação [...].

Mantenho o melhor de antes — que gravei no meu HD apertando o rec e o play — e aproveito o melhor de hoje. O que posso escolher escolho, dentro de uma lista nada coerente entre o antigo e o novo, com a vantagem de carregar comigo o passado. A nossa história é um caminho irreversível, saber viver o presente é o melhor dos mundos.

KORICH, Becky S. Glamorizar o passado é se deixar enganar. **Folha de S.Paulo**. Colunas, 11 set. 2023. Disponível em: <https://www1.folha.uol.com.br/colunas/becky-korich/2023/09/glamorizar-o-passado-e-se-deixar-enganar.shtml>. Acesso em: 11 set. 2023. [Fragmento]

QUESTÃO 1

De acordo com as informações apresentadas, pode-se inferir que, para a autora,

- A) o passado apresentava condições melhores que o futuro, que é desesperançoso.
- B) o presente supera o passado devido aos avanços tecnológicos que se apresentam.
- C) o antigo e o novo convivem juntos, e ela aproveita o que há de melhor de cada um.
- D) o saudosismo do passado é o que alimenta a busca por saber viver bem o presente.

QUESTÃO 2

Releia este trecho.

“Não **glamorizo** o passado como sendo melhor: o melhor vive na nossa imaginação [...]”.

O termo em destaque nesse fragmento indica que a autora

- A) não atribui ao passado valor excessivo, mais atraente que o presente.
- B) desconsidera o passado como sendo importante para o futuro.
- C) ignora que o passado foi a melhor época da sua vida.
- D) apaga as lembranças positivas em suas memórias.

QUESTÃO 3

Gaúcho resgatou mais de 100 pessoas de enchente com pequeno barco: ‘fiquei 23 horas em cima do rio’

Mais de 100 pessoas foram salvas por apenas um homem durante a tragédia que atingiu o Vale do Taquari, no Rio Grande do Sul, no começo da semana passada. Com um pequeno barco, o gaúcho Sérgio Benini, morador de Roca Sales, conseguiu resgatar vários vizinhos da enchente que atingiu a cidade, uma das mais afetadas.

“Eu fiquei 23 horas em cima do rio. Nós arrancamos o telhado à mão. As pessoas subiam no segundo piso, no forro embaixo do telhado, porque estava chovendo. E lá eles só gritavam socorro, socorro, socorro”, relembrou ele ao Fantástico.

[...] Conforme a água foi ganhando força pelas ruas da cidade, começaram os pedidos por ajuda. Das janelas, moradores começaram a registrar a força da água.

PORTAL G1. Gaúcho resgatou mais de 100 pessoas de enchente com pequeno barco: ‘fiquei 23 horas em cima do rio’. **Portal G1**. Disponível em: <https://g1.globo.com/fantastico/noticia/2023/09/11/gaucho-resgatou-mais-de-100-pessoas-de-enchente-com-pequeno-barco-fiquei-23-horas-em-cima-do-rio.ghtml>. Acesso em: 11 set. 2023. [Fragmento]

As diferentes funções da linguagem atendem a propósitos específicos da comunicação. Considerando o texto, a função da linguagem a ele associada é aquela que

- A) valoriza a figura de heróis modernos, reais, sendo classificada como poética.
- B) transmite informações com foco no assunto, classificando-se como referencial.
- C) busca convencer o leitor sobre um posicionamento, sendo chamada de apelativa.
- D) estabelece um diálogo indireto com o leitor do texto, sendo classificada como fática.

QUESTÃO 4

Paz e guerra

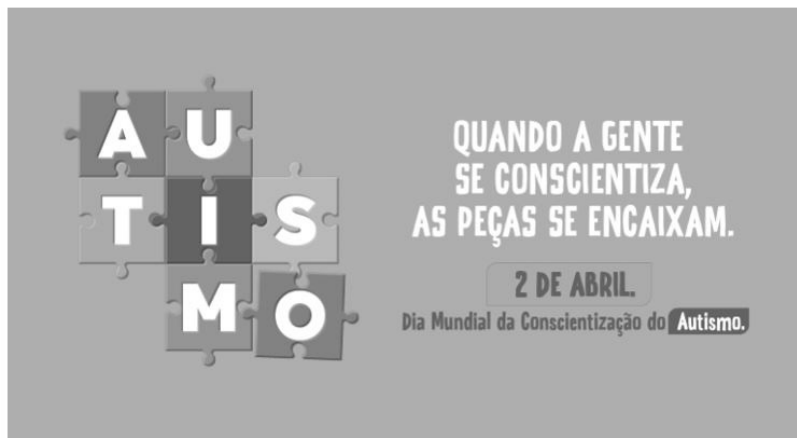
Eu estava atrasado para a guerra; tive de tomar um táxi. Uma contrariedade: com o recente aumento do preço da corrida, aquilo era uma despesa imprevista e inoportuna, um abalo em meu orçamento. Contudo, cheguei justo a tempo de marcar o ponto, evitando assim transtornos maiores.

SCLIAR, Moacyr. Paz e guerra. *In*: **Conto Brasileiro**. Disponível em: <https://contobrasileiro.com.br/paz-e-guerra-conto-de-moacyr-scliar/>. Acesso em: 6 set. 2023. [Fragmento]

Nesse conto de Moacyr Scliar, o sinal de dois-pontos tem a função de introduzir uma

- A) advertência.
- B) dúvida.
- C) explicação.
- D) enumeração.

QUESTÃO 5



Disponível em: <https://prefeitura.pbh.gov.br/noticias/bh-promove-campanha-e-acoes-de-visibilidade-no-mes-de-conscientizacao-do-autismo>. Acesso em: 7 set. 2023.

Tendo em vista os elementos verbais e não verbais do cartaz, infere-se que seu objetivo é

- A) incentivar a busca de tratamento para pessoas diagnosticadas com transtorno do espectro autista.
- B) promover a visibilidade e a inclusão de pessoas com transtorno do espectro autista na sociedade.
- C) sugerir a definição de uma data para celebrar a inclusão de pessoas com autismo no meio social.
- D) defender a luta por maior visibilidade das pessoas com autismo nos ambientes governamentais.

QUESTÃO 6



Disponível em: <https://tirasarmandinho.tumblr.com>. Acesso em: 6 set. 2023.

Na construção da tirinha, foi usada linguagem

- A) corporal, pois o personagem utiliza todas as partes do corpo para parabenizar a mulher em uma data comemorativa.
- B) simbólica, pois as flores representam um objeto de desejo feminino, reproduzindo uma visão superficial das mulheres.
- C) verbo-visual, pois o texto escrito está em elipse, sendo inferido pelo contexto em que os personagens estão inseridos.
- D) visual, pois a mensagem comunicativa pode ser compreendida mesmo sem uso de palavras, mas apenas de imagens.

QUESTÃO 7

Podemos alimentar o discurso de ódio sem perceber

As redes sociais se tornam convenientes para quem produz falas discriminatórias e intolerantes porque elas conseguem interpretar o comportamento dos usuários, recomendando automaticamente conteúdos alinhados com os interesses deles. As redes criam, portanto, uma audiência para oradores de discursos de ódio que normalmente teriam pouco alcance.

Ocorre que, também por essa razão, as mesmas ações que contribuem para a propagação de um vídeo, foto ou meme, como as curtidas e compartilhamentos, colaboram para disseminar essas mensagens problemáticas. Entender isso é importante para evitarmos propagar o discurso que queremos combater.

Explico: por causa de como as plataformas funcionam, quanto mais interagirmos com a postagem problemática, maior será a audiência atingida por ela e mais perigosa esta mensagem será. Isso acontece mesmo quando compartilhamos uma manifestação de ódio como forma de denúncia ou publicamos um comentário criticando o conteúdo.

[...]

Infelizmente, mesmo com boas intenções e sem perceber, podemos acabar ajudando a disseminar posts que depreciam pessoas por sua etnia, gênero, orientação sexual ou outro marcador social. Isso é profundamente perigoso, pois quanto mais pessoas são alcançadas e têm suas opiniões formadas por discursos de ódio, mais provável se torna que algumas delas pratiquem atos concretos de discriminação e violência contra minorias sociais e grupos vulneráveis.

SALVADOR, J. P. F. Podemos alimentar o discurso de ódio sem perceber. **Hoje em Dia**. Opinião, 18 out. 2023. Disponível em: <https://www.hojeemdia.com.br/opiniao/opiniao/podemos-alimentar-o-discurso-de-odio-sem-perceber-1.984113>. Acesso em: 23 out. 2023. [Fragmento]

Em seu texto, o autor argumenta que

- A) ter cuidado com conteúdos consumidos e compartilhados nas redes sociais é uma forma de evitar a disseminação de discursos de ódio.
- B) alimentar a disseminação de discursos de ódio é um dos objetivos das plataformas de redes sociais, devido ao engajamento.
- C) acabar com os discursos de ódio nas redes sociais requer que os usuários façam comentários negativos nos posts.
- D) disseminar discursos de ódio nas redes sociais é uma característica dos produtores de conteúdo que têm pouco alcance.

QUESTÃO 8

Codinome Beija-flor

Pra que mentir
Fingir que perdoou
Tentar ficar amigos sem rancor
A emoção acabou
Que coincidência é o amor
A nossa música nunca mais tocou

Pra que usar de tanta educação
Pra destilar terceiras intenções
Desperdiçando o meu mel
Devagarzinho, flor em flor
Entre os meus inimigos, beija-flor

CAZUZA. Codinome Beija-flor. In: **Vagalume**. Disponível em: <https://www.vagalume.com.br/cazuza/codinome-beija-flor.html>. Acesso em: 6 set. 2023. [Fragmento]

As palavras podem ser formadas por diferentes processos. Um deles é a composição por justaposição, em que dois termos são unidos um ao outro, sem perda de seus elementos.

Na canção de Cazuzza, ocorre justaposição na formação da palavra

- A) destilar.
- B) inimigos.
- C) devagarzinho.
- D) beija-flor.

QUESTÃO 9

A disciplina do amor

Foi na França, durante a Segunda Grande Guerra: um jovem tinha um cachorro que todos os dias, pontualmente, ia esperá-lo voltar do trabalho. Postava-se na esquina, um pouco antes das seis da tarde. Assim que via o dono, ia correndo ao seu encontro e na maior alegria acompanhava-o com seu passinho **saltitante** de volta à casa. A vila inteira já conhecia o cachorro e as pessoas que passavam faziam-lhe festinhas e ele correspondia, chegava até a correr todo animado atrás dos mais íntimos. Para logo voltar atento ao seu posto e ali ficar sentado até o momento em que seu dono apontava lá longe.

TELLES, Lygia Fagundes. A disciplina do amor. In: **Conto Brasileiro**. Disponível em: <https://contobrasileiro.com.br/a-disciplina-do-amor-conto-de-lygia-fagundes-telles/>. Acesso em: 6 set. 2023. [Fragmento]

Assinale a alternativa em que o termo destacado pertença, no contexto, à mesma classe de palavras daquela em destaque no texto.

- A) “Foi na França, durante a Segunda **Grande** guerra [...]”.
- B) “Assim que via o dono, ia correndo ao seu **encontro** [...]”.
- C) “[...] até o momento em que seu **dono** apontava lá longe.”
- D) “Postava-se na esquina, um **pouco** antes das seis da tarde.”

QUESTÃO 10

Escola em tempo integral para uma educação integral

O Brasil é um dos países mais desiguais do mundo, tanto na área econômica como na social, e continuará sendo enquanto a oferta da educação de qualidade permanecer desigual. Sem oportunidades iguais de acesso a um ensino de qualidade para todas as crianças e adolescentes, jamais ultrapassaremos os umbrais da mediocridade. Por isso, termos as escolas funcionando em período estendido é uma das poucas quase-unanidades, como demonstram diversas pesquisas.

VENTURI, Jacir. Escola em tempo integral para uma educação integral. **Gazeta do povo**. Opinião, 31 ago. 2023. Disponível em: <https://www.gazetadopovo.com.br/opiniao/artigos/escola-em-tempo-integral-para-uma-educacao-integral/>. Acesso em: 6 set. 2023. [Fragmento]

No texto, observa-se o sentido conotativo em:

- A) “Umbrais da mediocridade”, que indica uma limitação do Brasil no avanço da qualidade do ensino escolar.
- B) “Ensino de qualidade”, que alude às escolas particulares, às quais a maior parte da população não tem acesso.
- C) “Diversas pesquisas”, que indefine propositadamente as pesquisas, evidenciando ausência de embasamento.
- D) “Oportunidades iguais”, que ironiza o fato de que a igualdade da educação no Brasil não é possível para a grande massa.

INFORMÁTICA BÁSICA

QUESTÃO 11

A impressão de apresentações é uma etapa importante na comunicação de informações por meio do Microsoft PowerPoint. Analise as afirmativas a seguir, relacionadas à impressão de apresentações no Microsoft PowerPoint para office 365.

- I. A opção de imprimir *slides* selecionados permite selecionar partes de cada *slide* a ser impresso.
- II. Pode-se selecionar a impressão de um intervalo de *slides*, como imprimir todos os *slides*, exceto a capa da apresentação.
- III. A opção de anotações do apresentador permite imprimir a apresentação juntamente com as anotações feitas pelo elaborador da apresentação.

Estão corretas as afirmativas

- A) I e II, apenas.
- B) I e III, apenas.
- C) II e III, apenas.
- D) I, II e III.

QUESTÃO 12

Tendo em vista os tipos de gráficos disponíveis no Microsoft Excel para office 365, numere a COLUNA II de acordo com a COLUNA I, associando os conceitos aos tipos de gráficos correspondentes.

COLUNA I

- 1. Gráfico de pizza
- 2. Gráfico de linhas

COLUNA II

- () Mostram o tamanho dos itens, em um série de dados, proporcional à soma desses itens.
- () Podem mostrar dados contínuos ao longo do tempo em um eixo com escalas iguais e, portanto, são ideais para mostrar tendências de dados em intervalos iguais, como meses, trimestres ou anos fiscais.
- () Pontos de dados deste gráfico são exibidos como uma porcentagem do total de dados.

Assinale a sequência correta.

- A) 2 1 2
- B) 1 2 1
- C) 1 1 2
- D) 2 2 1

QUESTÃO 13

O sistema operacional Windows 10 oferece uma variedade de configurações que podem ser personalizadas por meio do Painel de Controle. Analise as afirmativas a seguir, relacionadas às configurações básicas do Windows 10.

- I. No Painel de Controle, o usuário pode personalizar as configurações de rede no Windows 10, como a configuração de uma conexão Wi-Fi.
- II. No Painel de Controle, é possível alterar a resolução da tela, ajustar as configurações de vídeo e gerenciar dispositivos de impressão conectados ao computador.
- III. O Painel de Controle é o local principal para a instalação e a remoção de programas e aplicativos no Windows 10.

Estão corretas as afirmativas

- A) I e II, apenas.
- B) I e III, apenas.
- C) II e III, apenas.
- D) I, II e III.

QUESTÃO 14

Existem muitos tipos de ataques a redes, cada um visando a explorar vulnerabilidades específicas para comprometer a segurança da rede.

O ataque que visa a sobrecarregar um servidor ou rede com um volume massivo de tráfego, tornando-o inacessível para os usuários legítimos, é chamado de

- A) Ataque de Envenenamento de ARP.
- B) Ataque de Negação de Serviço (DDoS).
- C) Ataque de *Phishing*.
- D) Ataque de Força Bruta.

QUESTÃO 15

A internet é uma rede global que conecta bilhões de dispositivos em todo o mundo, permitindo a troca de informações e recursos.

Com relação às noções básicas de internet, assinale a alternativa correta.

- A) A internet é uma rede de computadores exclusiva para uso governamental e militar.
- B) HTTP é um protocolo de segurança usado para criptografar todas as comunicações na internet, garantindo a privacidade de todos os usuários.
- C) Um endereço IP (Internet Protocol) é um identificador exclusivo atribuído a um dispositivo conectado à internet para facilitar a comunicação e a identificação na rede.
- D) A World Wide Web (WWW) também pode ser chamada de internet.

LEGISLAÇÃO

QUESTÃO 16

Em relação aos direitos e deveres individuais e coletivos previstos na Constituição da República Federativa do Brasil de 1988, assinale a alternativa incorreta.

- A) É assegurada, mediante o pagamento de taxa, a obtenção de certidões em repartições públicas para defesa de direitos.
- B) As entidades associativas, quando expressamente autorizadas, têm legitimidade para representar seus filiados judicial ou extrajudicialmente.
- C) É livre a expressão da atividade intelectual, artística, científica e de comunicação, independentemente de censura ou licença.
- D) A pena será cumprida em estabelecimentos distintos, de acordo com a natureza do delito, a idade e o sexo do apenado.

QUESTÃO 17

Sobre as vedações ao servidor público, previstas no Decreto nº 1.171, de 22 de junho de 1994, que aprova o Código de Ética Profissional do Servidor Público Civil do Poder Executivo Federal, analise as afirmativas a seguir.

- I. É vedado ao servidor exercer atividade profissional aética ou ligar o seu nome a empreendimentos de cunho duvidoso.
- II. É vedado ao servidor público retirar da repartição pública livro ou bem pertencente ao patrimônio público, salvo se for autorizado pelo superior hierárquico.
- III. É vedado ao servidor público embriagar-se, ainda que esporadicamente.

Está(ão) correta(s) a(s) afirmativa(s)

- A) I, apenas.
- B) II, apenas.
- C) I e II, apenas.
- D) I, II e III.

QUESTÃO 18

O credenciamento, de acordo com as previsões da Lei nº 14.133, de 1º de abril de 2021, conhecida como Lei de Licitações e Contratos Administrativos, poderá ser usado na seguinte hipótese de contratação:

- A) Paralela e excludente
- B) Com seleção a critério de terceiros
- C) Em mercados sem flutuação
- D) De particular para provimento de atividade do Poder Público

QUESTÃO 19

Conforme disposto na Lei nº 13.709, de 14 de agosto de 2018, conhecida como Lei Geral de Proteção de Dados Pessoais (LGPD), o término do tratamento de dados pessoais ocorrerá nas seguintes hipóteses, exceto:

- A) Verificação de que a finalidade foi alcançada
- B) Cumprimento de obrigação legal ou regulatória pelo controlador
- C) Fim do período de tratamento
- D) Determinação da autoridade nacional, quando houver violação ao disposto na LGPD

QUESTÃO 20

De acordo com a Lei nº 12.527, de 18 de novembro de 2011, conhecida como Lei de Acesso à Informação, não constitui conduta ilícita que enseja responsabilidade do agente público ou militar:

- A) Impor sigilo à informação para obter proveito pessoal ou de terceiro, ou para fins de ocultação de ato ilegal cometido por si ou por outrem
- B) Ocultar da revisão de autoridade superior competente informação sigilosa para beneficiar a si ou a outrem, ou em prejuízo de terceiros
- C) Destruir ou subtrair, por qualquer meio, documentos concernentes a possíveis violações de direitos humanos por parte de agentes do Estado
- D) Agir com negligência ou imprudência na análise das solicitações de acesso à informação

QUESTÃO 21

Segundo a Lei nº 8.112, de 11 de dezembro de 1990, que dispõe sobre o regime jurídico dos servidores públicos civis da União, das autarquias e das fundações públicas federais, não é uma forma de provimento de cargo público a

- A) ascensão.
- B) recondução.
- C) reversão.
- D) promoção.

QUESTÃO 22

Segundo o Estatuto da Universidade Federal dos Vales do Jequitinhonha e Mucuri, não é uma competência do diretor da Unidade Acadêmica:

- A) Submeter à apreciação da Congregação o orçamento anual e as prioridades para aplicação dos recursos
- B) Estabelecer as normas de afastamento de docentes, para fins de capacitação e cooperação
- C) Planejar e gerir os recursos de pessoal, orçamentários, financeiros, materiais e patrimoniais sob sua responsabilidade
- D) Convocar e presidir as reuniões da Congregação, com voto comum e de qualidade

QUESTÃO 23

Sobre os currículos e as normas previstas no Estatuto da Universidade Federal dos Vales do Jequitinhonha e Mucuri, analise as afirmativas a seguir.

- I. Os conteúdos dos componentes curriculares relacionados às disciplinas serão especificados em ementas e programas, com carga horária e créditos pré-definidos.
- II. O Conselho de Curadores disporá sobre a criação, a organização, o funcionamento e a extinção dos cursos de graduação.
- III. Qualquer que seja a forma de admissão, deverá o discente, nas datas fixadas pelo calendário acadêmico, realizar seu registro, conforme especificado no edital do processo seletivo correspondente.

Está(ão) correta(s) a(s) afirmativa(s)

- A) I, apenas.
- B) II, apenas.
- C) I e III, apenas.
- D) I, II e III.

QUESTÃO 24

De acordo com o Regimento Geral da Universidade Federal dos Vales do Jequitinhonha e Mucuri, são órgãos das Unidades Acadêmicas, exceto:

- A) Congregação
- B) Diretoria
- C) Conselho universitário
- D) Colegiado de curso

QUESTÃO 25

Sobre as normas relativas ao funcionamento dos órgãos colegiados previstas no Regimento Geral da Universidade Federal dos Vales do Jequitinhonha e Mucuri, assinale com V as afirmativas verdadeiras e com F as falsas.

- () As reuniões dos colegiados serão convocadas pelo respectivo Presidente, com antecedência de 48 (quarenta e oito) horas para as reuniões ordinárias.
- () O comparecimento dos membros nas reuniões de órgãos colegiados é facultativo.
- () Serão consideradas aprovadas as propostas que obtiverem maioria simples de votos dos presentes, salvo disposição expressa no Estatuto ou no Regimento Geral.
- () Os representantes do corpo técnico-administrativo serão escolhidos pelos seus pares em processo organizado por eles ou pelas respectivas entidades representativas, por sufrágio secreto e universal.

Assinale a sequência correta.

- A) V V F V
- B) F F V V
- C) F F V F
- D) V V F F

TÉCNICO DE LABORATÓRIO – ENFERMAGEM**QUESTÃO 26**

Acerca da preparação de um paciente para a inserção de uma sonda vesical de demora, assinale a alternativa que apresenta a sequência correta a ser seguida para garantir a segurança e a eficácia do procedimento.

- A) Orientação do paciente sobre as etapas e objetivo – Lavagem das mãos – Preparação do material – Privacidade do paciente – Luva de procedimento – Posicionamento e assepsia – Campo estéril – Abertura do material sobre o campo – Luva estéril – Testagem do balonete – Inserção da sonda lubrificada – Insuflação do balonete – Tracionamento da sonda – Abertura do Clamper – Fixação da sonda e posicionamento da bolsa coletora.
- B) Lavagem das mãos – Luva de procedimento – Orientação do paciente sobre as etapas e objetivo – Privacidade do paciente – Preparação do material – Posicionamento e assepsia – Campo estéril – Abertura do material sobre o campo – Testagem do balonete – Luva estéril – Inserção da sonda lubrificada – Insuflação do balonete – Abertura do Clamper – Tracionamento da sonda – Posicionamento da bolsa coletora e fixação da sonda.
- C) Preparação do material – Orientação do paciente sobre as etapas e objetivo – Privacidade do paciente – Lavagem das mãos – Posicionamento e assepsia – Campo estéril – Luva de procedimento – Abertura do material sobre o campo – Luva estéril – Testagem do balonete – Inserção da sonda lubrificada – Insuflação do balonete – Posicionamento da bolsa coletora e fixação da sonda – Tracionamento da sonda – Abertura do Clamper.
- D) Luva de procedimento – Privacidade do paciente – Posicionamento e assepsia – Preparação do material – Orientação do paciente sobre as etapas e objetivo – Lavagem das mãos – Luva estéril – Campo estéril – Abertura do material sobre o campo – Testagem do balonete – Inserção da sonda lubrificada – Posicionamento da bolsa coletora e fixação da sonda – Insuflação do balonete – Abertura do Clamper – Tracionamento da sonda.

QUESTÃO 27

Em um laboratório de práticas de Enfermagem, onde os alunos realizam procedimentos clínicos, algumas medidas de biossegurança são fundamentais e devem ser implementadas para se garantir um ambiente seguro de aprendizado para os alunos e evitar riscos de contaminação.

Nesse contexto, analise as medidas de biossegurança a seguir.

- I. Garantir boa ventilação, climatização e adequada iluminação.
- II. Realizar a desinfecção das superfícies e equipamentos regularmente, promover a lavagem das mãos antes e após cada procedimento.
- III. Utilizar máscaras e luvas durante os procedimentos de Enfermagem, mesmo que não haja paciente, devido à criticidade do ambiente.
- IV. Descartar todo material utilizado e manipulado pelos alunos, em virtude do potencial contaminante, já que nem todos os materiais apresentam revestimentos adequados.

São medidas que evitam riscos de contaminação e um ambiente seguro:

- A) I e II, apenas.
- B) II e III, apenas.
- C) III e IV, apenas.
- D) I e IV, apenas.

QUESTÃO 28

Para aferição adequada da glicemia capilar, são necessários os seguintes cuidados:

- I. Se a glicemia capilar estiver sendo aferida no domicílio pelo próprio paciente, a desinfecção do local de punção poderá ser substituída pela higienização das mãos.
- II. Sendo necessária nova aferição, deve-se puncionar o mesmo local para que não haja danos e alterações decorrentes da temperatura e anatomia da falange.
- III. A lanceta segura e as tiras reagentes devem ser descartadas no recipiente para perfurocortantes.
- IV. A melhor opção para aferição da glicemia capilar são as falanges livres de calosidades e ferimentos.

Estão corretos os cuidados

- A) I e II, apenas.
- B) II e III, apenas.
- C) III e IV, apenas.
- D) I e IV, apenas.

QUESTÃO 29

A técnica de injeção intradérmica é minuciosa e merece atenção especial dentre as vias de administração de medicamentos e vacinas.

Sobre a administração por via intradérmica, assinale a alternativa correta.

- A) A quantidade máxima que pode ser infundida por essa via é de 1,0 mL.
- B) Na administração via intradérmica, a agulha deve ter o bisel lateralizado.
- C) A seringa com a agulha deve ser inserida a 30 (trinta) graus em relação ao antebraço.
- D) Nessa via de administração, a absorção é lenta e prolongada.

QUESTÃO 30

Quais sinais e sintomas devem ser identificados na suspeita de insuficiência respiratória?

- A) Frequência respiratória equivalente a 20 (vinte) respirações por minuto, nível normal de oxigênio no sangue, pele corada, desconforto e presença de tosse ocasional.
- B) Frequência respiratória equivalente a 10 (dez) respirações por minuto, nível baixo de oxigênio no sangue, pele pálida, sudorese e confusão mental.
- C) Frequência respiratória equivalente a 16 (dezesesseis) respirações por minuto, nível elevado de oxigênio no sangue, pele quente ao toque, faringite e falta de apetite.
- D) Frequência respiratória equivalente a 24 (vinte e quatro) respirações por minuto, nível normal de oxigênio no sangue, sinais de exaustão, pele rosada e estado de alerta.

QUESTÃO 31

A desinfecção concorrente é uma prática fundamental para manter a segurança do paciente e prevenir a disseminação de infecções.

Sobre a desinfecção concorrente, assinale a alternativa correta.

- A) A desinfecção concorrente é realizada no final do turno de trabalho, após o cuidado de todos os pacientes.
- B) A desinfecção concorrente é realizada em áreas visivelmente sujas e com risco de contaminação, não sendo necessária em áreas limpas.
- C) A desinfecção concorrente é uma prática realizada diariamente, e sua frequência é indicada dependendo do tipo da área do estabelecimento.
- D) A desinfecção concorrente é a prática de desinfetar imediatamente as superfícies e equipamentos após o contato com cada paciente.

QUESTÃO 32

A importância das vacinas para a equipe de Enfermagem está na responsabilidade sobre armazenamento, manutenção e administração.

Acerca dos conhecimentos e cuidados com imunobiológicos, analise as afirmativas a seguir.

- I. Os adjuvantes são substâncias presentes na composição de algumas vacinas e que aumentam a resposta imune dos produtos que contêm micro-organismos inativados.
- II. A temperatura adequada para o armazenamento dos imunobiológicos é de +5 °C a +10 °C, sendo a temperatura ideal +8 °C.
- III. É contraindicada a vacinação para pacientes hospitalizados.
- IV. Por meio das vacinas, é possível adquirir a imunidade artificial e ativa, para cada agente infeccioso.

Estão corretas as afirmativas

- A) I e II, apenas.
- B) II e III, apenas.
- C) III e IV, apenas.
- D) I e IV, apenas.

QUESTÃO 33

A sondagem gástrica se trata da inserção de uma sonda flexível até o estômago.

Sobre a sondagem gástrica, assinale a alternativa correta.

- A) Em adultos, a sonda por via oral é a primeira opção no caso de descompressão e esvaziamento estomacal.
- B) A sonda gástrica deve ser medida da abertura do nariz ao lóbulo da orelha, e do apêndice de xifoide até o ponto médio da cicatriz umbilical.
- C) Para inserção da sonda gástrica, é necessário fazer o uso de luvas estéreis.
- D) No momento da inserção da sonda, o paciente deve estar no leito com cabeceira a zero grau.

QUESTÃO 34

Considere um cenário em que um paciente apresenta uma ferida em membro inferior direito, em região plantar, com as seguintes características: ferida aberta, profunda, borda regular com ceratose, com tecido desvitalizado, exsudato em média quantidade, ausência de edema, pulso pedial normal, extremidades aquecidas.

Assinale a alternativa que apresenta corretamente o tipo da ferida e a melhor opção de cobertura especial para esse paciente.

- A) Úlcera por pressão – Hidrogel
- B) Úlcera arterial – Curativo filme transparente
- C) Úlcera venosa – Hidrocoloide
- D) Úlcera neuropática – Alginato de cálcio

QUESTÃO 35

Considere que um estudante de Enfermagem questiona sobre a diferença entre vacinas com vírus vivo atenuado e vacinas inativadas.

Qual das alternativas a seguir descreve corretamente uma diferença-chave entre esses dois tipos de vacinas?

- A) Vacinas com vírus vivo atenuado geralmente requerem múltiplas doses de reforço, enquanto vacinas inativadas normalmente proporcionam imunidade duradoura com uma única dose.
- B) Vacinas com vírus vivo atenuado contêm microrganismos vivos que foram enfraquecidos para não causar doença, enquanto vacinas inativadas contêm microrganismos mortos ou inativos.
- C) Vacinas com vírus vivo atenuado são geralmente recomendadas para pessoas com sistemas imunológicos enfraquecidos, enquanto vacinas inativadas são mais adequadas para pessoas saudáveis.
- D) Vacinas com vírus vivo atenuado são mais seguras e têm menos efeitos colaterais do que vacinas inativadas, tornando-as escolha preferencial para a maioria das vacinações.

QUESTÃO 36

Qual das abordagens de limpeza de ferida pós-cirúrgica a seguir é a mais apropriada e baseada nas melhores práticas?

- A) Usar sabão antibacteriano concentrado e água morna para esfregar vigorosamente a ferida, seguido por uma aplicação generosa de peróxido de hidrogênio para desinfecção.
- B) Limpar a ferida delicadamente com soro fisiológico a 0,9%, utilizando um movimento suave de dentro para fora, sem esfregar, e secar cuidadosamente com gaze estéril.
- C) Aplicar uma camada espessa de pomada antibiótica sobre a ferida e cobri-la com uma gaze estéril, trocando o curativo e reaplicando a pomada diariamente.
- D) Lavar a ferida durante o banho, com sabonete comum, e realizar seu curativo oclusivo, mantendo a cicatriz limpa e seca.

QUESTÃO 37

Os resíduos em serviços de saúde são classificados em grupos de acordo com sua periculosidade. Os resíduos perfurocortantes, tais como agulhas, escalpes, ampolas de vidro, lancetas, fazem parte de qual grupo no gerenciamento de resíduos?

- A) Grupo A – podem ser descartados em sacos de risco biológico.
- B) Grupo B – podem ser dispostos em aterro de resíduos perigosos.
- C) Grupo D – Podem ser encaminhados para compostagem.
- D) Grupo E – podem ser descartados em recipientes identificados, rígidos, providos com tampa.

QUESTÃO 38

A segurança do paciente é uma prioridade fundamental na prática de Enfermagem.

Assinale a alternativa que apresenta corretamente uma prática que faz parte das seis metas internacionais prioritárias de segurança do paciente.

- A) Anotar as informações da prescrição do medicamento rapidamente após a administração, para evitar atrasos na documentação.
- B) Estimular o uso de formulários de passagem de plantão para evitar que o próximo profissional espere para realizar a comunicação sobre o paciente.
- C) Identificar corretamente o paciente antes de cada procedimento, intervenção ou cuidado.
- D) Escalar um profissional específico para preparar os medicamentos de todos os pacientes garantindo concentração apenas nessa atividade.

QUESTÃO 39

Considere que, em um laboratório de Enfermagem, um colega entra em uma crise convulsiva.

Assinale a alternativa que apresenta as ações mais apropriadas para fornecer primeiros socorros durante uma crise convulsiva.

- A) Colocar a pessoa deitada de costas no chão, afastar objetos perigosos próximos e posicionar a cabeça de lado para facilitar a drenagem de saliva.
- B) Segurar firmemente a pessoa e evitar que ela se mova durante a convulsão para evitar lesões.
- C) Aplicar um objeto na boca da pessoa, como um lápis, para evitar que ela morda a língua durante a convulsão.
- D) Tentar abrir a boca da pessoa à força e administrar medicação anticonvulsivante oral imediatamente.

QUESTÃO 40

A avaliação dos pés em paciente diabético tem sido uma prática altamente recomendada nos serviços de saúde.

São motivos que levam à avaliação dos pés:

- I. Com o aumento da glicose, o paciente perde o equilíbrio, podendo ser identificada claudicação.
- II. O diabetes tipo 1 tem como característica o ressecamento de extremidades.
- III. A perda de sensibilidade nos pés pode ser indicativo de alterações neuropáticas.
- IV. O controle precário da glicemia por tempo prolongado é fator de risco para amputações.

Estão corretos os motivos

- A) I e II, apenas.
- B) II e III, apenas.
- C) III e IV, apenas.
- D) I e IV, apenas.

FOLHA DE RESPOSTAS (VERSÃO DO CANDIDATO)

| | | | | | | | | | |
|----|--------------------------|--------------------------|--------------------------|--------------------------|----|--------------------------|--------------------------|--------------------------|--------------------------|
| 1 | A | B | C | D | 21 | A | B | C | D |
| | <input type="checkbox"/> | <input type="checkbox"/> | <input type="checkbox"/> | <input type="checkbox"/> | | <input type="checkbox"/> | <input type="checkbox"/> | <input type="checkbox"/> | <input type="checkbox"/> |
| 2 | A | B | C | D | 22 | A | B | C | D |
| | <input type="checkbox"/> | <input type="checkbox"/> | <input type="checkbox"/> | <input type="checkbox"/> | | <input type="checkbox"/> | <input type="checkbox"/> | <input type="checkbox"/> | <input type="checkbox"/> |
| 3 | A | B | C | D | 23 | A | B | C | D |
| | <input type="checkbox"/> | <input type="checkbox"/> | <input type="checkbox"/> | <input type="checkbox"/> | | <input type="checkbox"/> | <input type="checkbox"/> | <input type="checkbox"/> | <input type="checkbox"/> |
| 4 | A | B | C | D | 24 | A | B | C | D |
| | <input type="checkbox"/> | <input type="checkbox"/> | <input type="checkbox"/> | <input type="checkbox"/> | | <input type="checkbox"/> | <input type="checkbox"/> | <input type="checkbox"/> | <input type="checkbox"/> |
| 5 | A | B | C | D | 25 | A | B | C | D |
| | <input type="checkbox"/> | <input type="checkbox"/> | <input type="checkbox"/> | <input type="checkbox"/> | | <input type="checkbox"/> | <input type="checkbox"/> | <input type="checkbox"/> | <input type="checkbox"/> |
| 6 | A | B | C | D | 26 | A | B | C | D |
| | <input type="checkbox"/> | <input type="checkbox"/> | <input type="checkbox"/> | <input type="checkbox"/> | | <input type="checkbox"/> | <input type="checkbox"/> | <input type="checkbox"/> | <input type="checkbox"/> |
| 7 | A | B | C | D | 27 | A | B | C | D |
| | <input type="checkbox"/> | <input type="checkbox"/> | <input type="checkbox"/> | <input type="checkbox"/> | | <input type="checkbox"/> | <input type="checkbox"/> | <input type="checkbox"/> | <input type="checkbox"/> |
| 8 | A | B | C | D | 28 | A | B | C | D |
| | <input type="checkbox"/> | <input type="checkbox"/> | <input type="checkbox"/> | <input type="checkbox"/> | | <input type="checkbox"/> | <input type="checkbox"/> | <input type="checkbox"/> | <input type="checkbox"/> |
| 9 | A | B | C | D | 29 | A | B | C | D |
| | <input type="checkbox"/> | <input type="checkbox"/> | <input type="checkbox"/> | <input type="checkbox"/> | | <input type="checkbox"/> | <input type="checkbox"/> | <input type="checkbox"/> | <input type="checkbox"/> |
| 10 | A | B | C | D | 30 | A | B | C | D |
| | <input type="checkbox"/> | <input type="checkbox"/> | <input type="checkbox"/> | <input type="checkbox"/> | | <input type="checkbox"/> | <input type="checkbox"/> | <input type="checkbox"/> | <input type="checkbox"/> |
| 11 | A | B | C | D | 31 | A | B | C | D |
| | <input type="checkbox"/> | <input type="checkbox"/> | <input type="checkbox"/> | <input type="checkbox"/> | | <input type="checkbox"/> | <input type="checkbox"/> | <input type="checkbox"/> | <input type="checkbox"/> |
| 12 | A | B | C | D | 32 | A | B | C | D |
| | <input type="checkbox"/> | <input type="checkbox"/> | <input type="checkbox"/> | <input type="checkbox"/> | | <input type="checkbox"/> | <input type="checkbox"/> | <input type="checkbox"/> | <input type="checkbox"/> |
| 13 | A | B | C | D | 33 | A | B | C | D |
| | <input type="checkbox"/> | <input type="checkbox"/> | <input type="checkbox"/> | <input type="checkbox"/> | | <input type="checkbox"/> | <input type="checkbox"/> | <input type="checkbox"/> | <input type="checkbox"/> |
| 14 | A | B | C | D | 34 | A | B | C | D |
| | <input type="checkbox"/> | <input type="checkbox"/> | <input type="checkbox"/> | <input type="checkbox"/> | | <input type="checkbox"/> | <input type="checkbox"/> | <input type="checkbox"/> | <input type="checkbox"/> |
| 15 | A | B | C | D | 35 | A | B | C | D |
| | <input type="checkbox"/> | <input type="checkbox"/> | <input type="checkbox"/> | <input type="checkbox"/> | | <input type="checkbox"/> | <input type="checkbox"/> | <input type="checkbox"/> | <input type="checkbox"/> |
| 16 | A | B | C | D | 36 | A | B | C | D |
| | <input type="checkbox"/> | <input type="checkbox"/> | <input type="checkbox"/> | <input type="checkbox"/> | | <input type="checkbox"/> | <input type="checkbox"/> | <input type="checkbox"/> | <input type="checkbox"/> |
| 17 | A | B | C | D | 37 | A | B | C | D |
| | <input type="checkbox"/> | <input type="checkbox"/> | <input type="checkbox"/> | <input type="checkbox"/> | | <input type="checkbox"/> | <input type="checkbox"/> | <input type="checkbox"/> | <input type="checkbox"/> |
| 18 | A | B | C | D | 38 | A | B | C | D |
| | <input type="checkbox"/> | <input type="checkbox"/> | <input type="checkbox"/> | <input type="checkbox"/> | | <input type="checkbox"/> | <input type="checkbox"/> | <input type="checkbox"/> | <input type="checkbox"/> |
| 19 | A | B | C | D | 39 | A | B | C | D |
| | <input type="checkbox"/> | <input type="checkbox"/> | <input type="checkbox"/> | <input type="checkbox"/> | | <input type="checkbox"/> | <input type="checkbox"/> | <input type="checkbox"/> | <input type="checkbox"/> |
| 20 | A | B | C | D | 40 | A | B | C | D |
| | <input type="checkbox"/> | <input type="checkbox"/> | <input type="checkbox"/> | <input type="checkbox"/> | | <input type="checkbox"/> | <input type="checkbox"/> | <input type="checkbox"/> | <input type="checkbox"/> |

AO TRANSFERIR ESSAS MARCAÇÕES PARA A FOLHA DE RESPOSTAS,
OBSERVE AS INSTRUÇÕES ESPECÍFICAS DADAS NA CAPA DA PROVA.

USE CANETA ESFEROGRÁFICA AZUL OU PRETA.



Segundo a Lei nº 9.610/1998, reproduções de natureza não pedagógicas das questões desta prova estão proibidas.

TÉCNICO DE LABORATÓRIO – GEOLOGIA E MINERAÇÃO

Código: 207

ABRA APENAS QUANDO AUTORIZADO.

Leia com atenção as seguintes instruções:

- Este caderno contém as **40 questões** da Prova Objetiva, composta por: 10 questões de Língua Portuguesa, 5 questões de Informática Básica, 10 questões de Legislação, e 15 questões de Conhecimentos Específicos.
Caso haja algum problema em seu caderno de provas, informe ao aplicador de provas.
- As informações / instruções dadas no dia da prova complementam o edital.
- Durante as provas, não é permitido o uso de dispositivos eletrônicos de qualquer tipo e celulares, assim como relógios e materiais de consulta.
- Use a Folha de Respostas (versão do candidato) reproduzida no final do Caderno de Provas apenas para marcar seu Gabarito. Esse rascunho somente poderá ser destacado pelo aplicador de provas.
- Na **Folha de Respostas**:
 - Confira seu nome, número de inscrição e cargo.
 - Assine, A TINTA, no espaço próprio indicado.
 - Transcreva a seguinte frase, com sua caligrafia usual, mantendo as letras maiúsculas e minúsculas, desconsiderando aspas e autoria:
- A Folha de Respostas deve ser assinada e não deve ser dobrada, amassada ou rasurada.
- Ao transferir as respostas para a Folha de Respostas:
 - Use somente caneta AZUL ou PRETA, preenchendo toda a área reservada à letra correspondente à resposta solicitada em cada questão, conforme o modelo:

| | | | | |
|----|-------------------------------------|--------------------------|--------------------------|--------------------------|
| 01 | <input checked="" type="checkbox"/> | <input type="checkbox"/> | <input type="checkbox"/> | <input type="checkbox"/> |
| | A | B | C | D |
 - Assinale somente uma alternativa em cada questão e não deixe nenhuma questão sem resposta.
- Sua prova e Folha de Respostas poderão ser entregues somente após o término do período de sigilo: 1 hora.
- Sua resposta **NÃO** será computada se houver marcação de mais de uma alternativa, questões não assinaladas ou rasuradas.
- Ao entregar sua prova, recolha seus objetos, deixe a sala de provas e, em seguida, o prédio. Até deixar as dependências do local de prova, continuam válidas as proibições do uso de aparelhos eletrônicos e celulares, bem como não lhe é mais permitido o uso dos sanitários.
- O Caderno de Questões da Prova Objetiva e os gabaritos serão divulgados no endereço eletrônico www.gestaodeconcursos.com.br, no dia subsequente à data da prova.

“Perder-se também é caminho.”

Clarice Lispector

**DURAÇÃO TOTAL DAS PROVAS,
INCLUINDO TRANSCRIÇÃO DA
FOLHA DE RESPOSTAS:
QUATRO HORAS**

Escreva seu nome completo de forma legível.

NOME: _____

INSTRUÇÃO: Leia o texto a seguir para responder às questões 1 e 2.

Glamorizar o passado é se deixar enganar

Prefiro a caneta ao teclado — apesar da minha letra, que às vezes nem eu entendo —, o papel à tela, o livro físico ao digital. Não é saudosismo e muito menos uma vilanização dos avanços tecnológicos, que ao mesmo tempo são uma bênção e uma maldição. Não glamorizo o passado como sendo melhor: o melhor vive na nossa imaginação [...].

Mantenho o melhor de antes — que gravei no meu HD apertando o rec e o play — e aproveito o melhor de hoje. O que posso escolher escolho, dentro de uma lista nada coerente entre o antigo e o novo, com a vantagem de carregar comigo o passado. A nossa história é um caminho irreversível, saber viver o presente é o melhor dos mundos.

KORICH, Becky S. Glamorizar o passado é se deixar enganar. **Folha de S.Paulo**. Colunas, 11 set. 2023. Disponível em: <https://www1.folha.uol.com.br/colunas/becky-korich/2023/09/glamorizar-o-passado-e-se-deixar-enganar.shtml>. Acesso em: 11 set. 2023. [Fragmento]

QUESTÃO 1

De acordo com as informações apresentadas, pode-se inferir que, para a autora,

- A) o passado apresentava condições melhores que o futuro, que é desesperançoso.
- B) o presente supera o passado devido aos avanços tecnológicos que se apresentam.
- C) o antigo e o novo convivem juntos, e ela aproveita o que há de melhor de cada um.
- D) o saudosismo do passado é o que alimenta a busca por saber viver bem o presente.

QUESTÃO 2

Releia este trecho.

“Não **glamorizo** o passado como sendo melhor: o melhor vive na nossa imaginação [...]”.

O termo em destaque nesse fragmento indica que a autora

- A) não atribui ao passado valor excessivo, mais atraente que o presente.
- B) desconsidera o passado como sendo importante para o futuro.
- C) ignora que o passado foi a melhor época da sua vida.
- D) apaga as lembranças positivas em suas memórias.

QUESTÃO 3

Gaúcho resgatou mais de 100 pessoas de enchente com pequeno barco: ‘fiquei 23 horas em cima do rio’

Mais de 100 pessoas foram salvas por apenas um homem durante a tragédia que atingiu o Vale do Taquari, no Rio Grande do Sul, no começo da semana passada. Com um pequeno barco, o gaúcho Sérgio Benini, morador de Roca Sales, conseguiu resgatar vários vizinhos da enchente que atingiu a cidade, uma das mais afetadas.

“Eu fiquei 23 horas em cima do rio. Nós arrancamos o telhado à mão. As pessoas subiam no segundo piso, no forro embaixo do telhado, porque estava chovendo. E lá eles só gritavam socorro, socorro, socorro”, relembrou ele ao Fantástico.

[...] Conforme a água foi ganhando força pelas ruas da cidade, começaram os pedidos por ajuda. Das janelas, moradores começaram a registrar a força da água.

PORTAL G1. Gaúcho resgatou mais de 100 pessoas de enchente com pequeno barco: ‘fiquei 23 horas em cima do rio’. **Portal G1**. Disponível em: <https://g1.globo.com/fantastico/noticia/2023/09/11/gaucha-resgatou-mais-de-100-pessoas-de-enchente-com-pequeno-barco-fiquei-23-horas-em-cima-do-rio.ghhtml>. Acesso em: 11 set. 2023. [Fragmento]

As diferentes funções da linguagem atendem a propósitos específicos da comunicação. Considerando o texto, a função da linguagem a ele associada é aquela que

- A) valoriza a figura de heróis modernos, reais, sendo classificada como poética.
- B) transmite informações com foco no assunto, classificando-se como referencial.
- C) busca convencer o leitor sobre um posicionamento, sendo chamada de apelativa.
- D) estabelece um diálogo indireto com o leitor do texto, sendo classificada como fática.

QUESTÃO 4

Paz e guerra

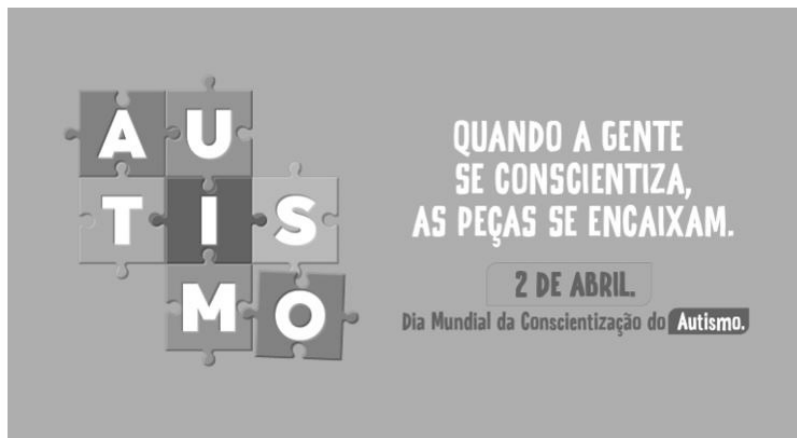
Eu estava atrasado para a guerra; tive de tomar um táxi. Uma contrariedade: com o recente aumento do preço da corrida, aquilo era uma despesa imprevista e inoportuna, um abalo em meu orçamento. Contudo, cheguei justo a tempo de marcar o ponto, evitando assim transtornos maiores.

SCLIAR, Moacyr. Paz e guerra. *In*: **Conto Brasileiro**. Disponível em: <https://contobrasileiro.com.br/paz-e-guerra-conto-de-moacyr-scliar/>. Acesso em: 6 set. 2023. [Fragmento]

Nesse conto de Moacyr Scliar, o sinal de dois-pontos tem a função de introduzir uma

- A) advertência.
- B) dúvida.
- C) explicação.
- D) enumeração.

QUESTÃO 5



Disponível em: <https://prefeitura.pbh.gov.br/noticias/bh-promove-campanha-e-acoes-de-visibilidade-no-mes-de-conscientizacao-do-autismo>. Acesso em: 7 set. 2023.

Tendo em vista os elementos verbais e não verbais do cartaz, infere-se que seu objetivo é

- A) incentivar a busca de tratamento para pessoas diagnosticadas com transtorno do espectro autista.
- B) promover a visibilidade e a inclusão de pessoas com transtorno do espectro autista na sociedade.
- C) sugerir a definição de uma data para celebrar a inclusão de pessoas com autismo no meio social.
- D) defender a luta por maior visibilidade das pessoas com autismo nos ambientes governamentais.

QUESTÃO 6



Disponível em: <https://tirasarmandinho.tumblr.com>. Acesso em: 6 set. 2023.

Na construção da tirinha, foi usada linguagem

- A) corporal, pois o personagem utiliza todas as partes do corpo para parabenizar a mulher em uma data comemorativa.
- B) simbólica, pois as flores representam um objeto de desejo feminino, reproduzindo uma visão superficial das mulheres.
- C) verbo-visual, pois o texto escrito está em elipse, sendo inferido pelo contexto em que os personagens estão inseridos.
- D) visual, pois a mensagem comunicativa pode ser compreendida mesmo sem uso de palavras, mas apenas de imagens.

QUESTÃO 7

Podemos alimentar o discurso de ódio sem perceber

As redes sociais se tornam convenientes para quem produz falas discriminatórias e intolerantes porque elas conseguem interpretar o comportamento dos usuários, recomendando automaticamente conteúdos alinhados com os interesses deles. As redes criam, portanto, uma audiência para oradores de discursos de ódio que normalmente teriam pouco alcance.

Ocorre que, também por essa razão, as mesmas ações que contribuem para a propagação de um vídeo, foto ou meme, como as curtidas e compartilhamentos, colaboram para disseminar essas mensagens problemáticas. Entender isso é importante para evitarmos propagar o discurso que queremos combater.

Explico: por causa de como as plataformas funcionam, quanto mais interagirmos com a postagem problemática, maior será a audiência atingida por ela e mais perigosa esta mensagem será. Isso acontece mesmo quando compartilhamos uma manifestação de ódio como forma de denúncia ou publicamos um comentário criticando o conteúdo.

[...]

Infelizmente, mesmo com boas intenções e sem perceber, podemos acabar ajudando a disseminar posts que depreciam pessoas por sua etnia, gênero, orientação sexual ou outro marcador social. Isso é profundamente perigoso, pois quanto mais pessoas são alcançadas e têm suas opiniões formadas por discursos de ódio, mais provável se torna que algumas delas pratiquem atos concretos de discriminação e violência contra minorias sociais e grupos vulneráveis.

SALVADOR, J. P. F. Podemos alimentar o discurso de ódio sem perceber. **Hoje em Dia**. Opinião, 18 out. 2023. Disponível em: <https://www.hojeemdia.com.br/opiniao/opiniao/podemos-alimentar-o-discurso-de-odio-sem-perceber-1.984113>. Acesso em: 23 out. 2023. [Fragmento]

Em seu texto, o autor argumenta que

- A) ter cuidado com conteúdos consumidos e compartilhados nas redes sociais é uma forma de evitar a disseminação de discursos de ódio.
- B) alimentar a disseminação de discursos de ódio é um dos objetivos das plataformas de redes sociais, devido ao engajamento.
- C) acabar com os discursos de ódio nas redes sociais requer que os usuários façam comentários negativos nos posts.
- D) disseminar discursos de ódio nas redes sociais é uma característica dos produtores de conteúdo que têm pouco alcance.

QUESTÃO 8

Codinome Beija-flor

Pra que mentir
Fingir que perdoou
Tentar ficar amigos sem rancor
A emoção acabou
Que coincidência é o amor
A nossa música nunca mais tocou

Pra que usar de tanta educação
Pra destilar terceiras intenções
Desperdiçando o meu mel
Devagarzinho, flor em flor
Entre os meus inimigos, beija-flor

CAZUZA. Codinome Beija-flor. In: **Vagalume**. Disponível em: <https://www.vagalume.com.br/cazuza/codinome-beija-flor.html>. Acesso em: 6 set. 2023. [Fragmento]

As palavras podem ser formadas por diferentes processos. Um deles é a composição por justaposição, em que dois termos são unidos um ao outro, sem perda de seus elementos.

Na canção de Cazuzza, ocorre justaposição na formação da palavra

- A) destilar.
- B) inimigos.
- C) devagarzinho.
- D) beija-flor.

QUESTÃO 9

A disciplina do amor

Foi na França, durante a Segunda Grande Guerra: um jovem tinha um cachorro que todos os dias, pontualmente, ia esperá-lo voltar do trabalho. Postava-se na esquina, um pouco antes das seis da tarde. Assim que via o dono, ia correndo ao seu encontro e na maior alegria acompanhava-o com seu passinho **saltitante** de volta à casa. A vila inteira já conhecia o cachorro e as pessoas que passavam faziam-lhe festinhas e ele correspondia, chegava até a correr todo animado atrás dos mais íntimos. Para logo voltar atento ao seu posto e ali ficar sentado até o momento em que seu dono apontava lá longe.

TELLES, Lygia Fagundes. A disciplina do amor. In: **Conto Brasileiro**. Disponível em: <https://contobrasileiro.com.br/a-disciplina-do-amor-conto-de-lygia-fagundes-telles/>. Acesso em: 6 set. 2023. [Fragmento]

Assinale a alternativa em que o termo destacado pertença, no contexto, à mesma classe de palavras daquela em destaque no texto.

- A) “Foi na França, durante a Segunda **Grande** guerra [...]”.
- B) “Assim que via o dono, ia correndo ao seu **encontro** [...]”.
- C) “[...] até o momento em que seu **dono** apontava lá longe.”
- D) “Postava-se na esquina, um **pouco** antes das seis da tarde.”

QUESTÃO 10

Escola em tempo integral para uma educação integral

O Brasil é um dos países mais desiguais do mundo, tanto na área econômica como na social, e continuará sendo enquanto a oferta da educação de qualidade permanecer desigual. Sem oportunidades iguais de acesso a um ensino de qualidade para todas as crianças e adolescentes, jamais ultrapassaremos os umbrais da mediocridade. Por isso, termos as escolas funcionando em período estendido é uma das poucas quase-unanidades, como demonstram diversas pesquisas.

VENTURI, Jacir. Escola em tempo integral para uma educação integral. **Gazeta do povo**. Opinião, 31 ago. 2023. Disponível em: <https://www.gazetadopovo.com.br/opiniaio/artigos/escola-em-tempo-integral-para-uma-educacao-integral/>. Acesso em: 6 set. 2023. [Fragmento]

No texto, observa-se o sentido conotativo em:

- A) “Umbrais da mediocridade”, que indica uma limitação do Brasil no avanço da qualidade do ensino escolar.
- B) “Ensino de qualidade”, que alude às escolas particulares, às quais a maior parte da população não tem acesso.
- C) “Diversas pesquisas”, que indefine propositadamente as pesquisas, evidenciando ausência de embasamento.
- D) “Oportunidades iguais”, que ironiza o fato de que a igualdade da educação no Brasil não é possível para a grande massa.

INFORMÁTICA BÁSICA

QUESTÃO 11

A impressão de apresentações é uma etapa importante na comunicação de informações por meio do Microsoft PowerPoint. Analise as afirmativas a seguir, relacionadas à impressão de apresentações no Microsoft PowerPoint para office 365.

- I. A opção de imprimir *slides* selecionados permite selecionar partes de cada *slide* a ser impresso.
- II. Pode-se selecionar a impressão de um intervalo de *slides*, como imprimir todos os *slides*, exceto a capa da apresentação.
- III. A opção de anotações do apresentador permite imprimir a apresentação juntamente com as anotações feitas pelo elaborador da apresentação.

Estão corretas as afirmativas

- A) I e II, apenas.
- B) I e III, apenas.
- C) II e III, apenas.
- D) I, II e III.

QUESTÃO 12

Tendo em vista os tipos de gráficos disponíveis no Microsoft Excel para office 365, numere a COLUNA II de acordo com a COLUNA I, associando os conceitos aos tipos de gráficos correspondentes.

COLUNA I

- 1. Gráfico de pizza
- 2. Gráfico de linhas

COLUNA II

- () Mostram o tamanho dos itens, em um série de dados, proporcional à soma desses itens.
- () Podem mostrar dados contínuos ao longo do tempo em um eixo com escalas iguais e, portanto, são ideais para mostrar tendências de dados em intervalos iguais, como meses, trimestres ou anos fiscais.
- () Pontos de dados deste gráfico são exibidos como uma porcentagem do total de dados.

Assinale a sequência correta.

- A) 2 1 2
- B) 1 2 1
- C) 1 1 2
- D) 2 2 1

QUESTÃO 13

O sistema operacional Windows 10 oferece uma variedade de configurações que podem ser personalizadas por meio do Painel de Controle. Analise as afirmativas a seguir, relacionadas às configurações básicas do Windows 10.

- I. No Painel de Controle, o usuário pode personalizar as configurações de rede no Windows 10, como a configuração de uma conexão Wi-Fi.
- II. No Painel de Controle, é possível alterar a resolução da tela, ajustar as configurações de vídeo e gerenciar dispositivos de impressão conectados ao computador.
- III. O Painel de Controle é o local principal para a instalação e a remoção de programas e aplicativos no Windows 10.

Estão corretas as afirmativas

- A) I e II, apenas.
- B) I e III, apenas.
- C) II e III, apenas.
- D) I, II e III.

QUESTÃO 14

Existem muitos tipos de ataques a redes, cada um visando a explorar vulnerabilidades específicas para comprometer a segurança da rede.

O ataque que visa a sobrecarregar um servidor ou rede com um volume massivo de tráfego, tornando-o inacessível para os usuários legítimos, é chamado de

- A) Ataque de Envenenamento de ARP.
- B) Ataque de Negação de Serviço (DDoS).
- C) Ataque de *Phishing*.
- D) Ataque de Força Bruta.

QUESTÃO 15

A internet é uma rede global que conecta bilhões de dispositivos em todo o mundo, permitindo a troca de informações e recursos.

Com relação às noções básicas de internet, assinale a alternativa correta.

- A) A internet é uma rede de computadores exclusiva para uso governamental e militar.
- B) HTTP é um protocolo de segurança usado para criptografar todas as comunicações na internet, garantindo a privacidade de todos os usuários.
- C) Um endereço IP (Internet Protocol) é um identificador exclusivo atribuído a um dispositivo conectado à internet para facilitar a comunicação e a identificação na rede.
- D) A World Wide Web (WWW) também pode ser chamada de internet.

LEGISLAÇÃO

QUESTÃO 16

Em relação aos direitos e deveres individuais e coletivos previstos na Constituição da República Federativa do Brasil de 1988, assinale a alternativa incorreta.

- A) É assegurada, mediante o pagamento de taxa, a obtenção de certidões em repartições públicas para defesa de direitos.
- B) As entidades associativas, quando expressamente autorizadas, têm legitimidade para representar seus filiados judicial ou extrajudicialmente.
- C) É livre a expressão da atividade intelectual, artística, científica e de comunicação, independentemente de censura ou licença.
- D) A pena será cumprida em estabelecimentos distintos, de acordo com a natureza do delito, a idade e o sexo do apenado.

QUESTÃO 17

Sobre as vedações ao servidor público, previstas no Decreto nº 1.171, de 22 de junho de 1994, que aprova o Código de Ética Profissional do Servidor Público Civil do Poder Executivo Federal, analise as afirmativas a seguir.

- I. É vedado ao servidor exercer atividade profissional aética ou ligar o seu nome a empreendimentos de cunho duvidoso.
- II. É vedado ao servidor público retirar da repartição pública livro ou bem pertencente ao patrimônio público, salvo se for autorizado pelo superior hierárquico.
- III. É vedado ao servidor público embriagar-se, ainda que esporadicamente.

Está(ão) correta(s) a(s) afirmativa(s)

- A) I, apenas.
- B) II, apenas.
- C) I e II, apenas.
- D) I, II e III.

QUESTÃO 18

O credenciamento, de acordo com as previsões da Lei nº 14.133, de 1º de abril de 2021, conhecida como Lei de Licitações e Contratos Administrativos, poderá ser usado na seguinte hipótese de contratação:

- A) Paralela e excludente
- B) Com seleção a critério de terceiros
- C) Em mercados sem flutuação
- D) De particular para provimento de atividade do Poder Público

QUESTÃO 19

Conforme disposto na Lei nº 13.709, de 14 de agosto de 2018, conhecida como Lei Geral de Proteção de Dados Pessoais (LGPD), o término do tratamento de dados pessoais ocorrerá nas seguintes hipóteses, exceto:

- A) Verificação de que a finalidade foi alcançada
- B) Cumprimento de obrigação legal ou regulatória pelo controlador
- C) Fim do período de tratamento
- D) Determinação da autoridade nacional, quando houver violação ao disposto na LGPD

QUESTÃO 20

De acordo com a Lei nº 12.527, de 18 de novembro de 2011, conhecida como Lei de Acesso à Informação, não constitui conduta ilícita que enseja responsabilidade do agente público ou militar:

- A) Impor sigilo à informação para obter proveito pessoal ou de terceiro, ou para fins de ocultação de ato ilegal cometido por si ou por outrem
- B) Ocultar da revisão de autoridade superior competente informação sigilosa para beneficiar a si ou a outrem, ou em prejuízo de terceiros
- C) Destruir ou subtrair, por qualquer meio, documentos concernentes a possíveis violações de direitos humanos por parte de agentes do Estado
- D) Agir com negligência ou imprudência na análise das solicitações de acesso à informação

QUESTÃO 21

Segundo a Lei nº 8.112, de 11 de dezembro de 1990, que dispõe sobre o regime jurídico dos servidores públicos civis da União, das autarquias e das fundações públicas federais, não é uma forma de provimento de cargo público a

- A) ascensão.
- B) recondução.
- C) reversão.
- D) promoção.

QUESTÃO 22

Segundo o Estatuto da Universidade Federal dos Vales do Jequitinhonha e Mucuri, não é uma competência do diretor da Unidade Acadêmica:

- A) Submeter à apreciação da Congregação o orçamento anual e as prioridades para aplicação dos recursos
- B) Estabelecer as normas de afastamento de docentes, para fins de capacitação e cooperação
- C) Planejar e gerir os recursos de pessoal, orçamentários, financeiros, materiais e patrimoniais sob sua responsabilidade
- D) Convocar e presidir as reuniões da Congregação, com voto comum e de qualidade

QUESTÃO 23

Sobre os currículos e as normas previstas no Estatuto da Universidade Federal dos Vales do Jequitinhonha e Mucuri, analise as afirmativas a seguir.

- I. Os conteúdos dos componentes curriculares relacionados às disciplinas serão especificados em ementas e programas, com carga horária e créditos pré-definidos.
- II. O Conselho de Curadores disporá sobre a criação, a organização, o funcionamento e a extinção dos cursos de graduação.
- III. Qualquer que seja a forma de admissão, deverá o discente, nas datas fixadas pelo calendário acadêmico, realizar seu registro, conforme especificado no edital do processo seletivo correspondente.

Está(ão) correta(s) a(s) afirmativa(s)

- A) I, apenas.
- B) II, apenas.
- C) I e III, apenas.
- D) I, II e III.

QUESTÃO 24

De acordo com o Regimento Geral da Universidade Federal dos Vales do Jequitinhonha e Mucuri, são órgãos das Unidades Acadêmicas, exceto:

- A) Congregação
- B) Diretoria
- C) Conselho universitário
- D) Colegiado de curso

QUESTÃO 25

Sobre as normas relativas ao funcionamento dos órgãos colegiados previstas no Regimento Geral da Universidade Federal dos Vales do Jequitinhonha e Mucuri, assinale com V as afirmativas verdadeiras e com F as falsas.

- () As reuniões dos colegiados serão convocadas pelo respectivo Presidente, com antecedência de 48 (quarenta e oito) horas para as reuniões ordinárias.
- () O comparecimento dos membros nas reuniões de órgãos colegiados é facultativo.
- () Serão consideradas aprovadas as propostas que obtiverem maioria simples de votos dos presentes, salvo disposição expressa no Estatuto ou no Regimento Geral.
- () Os representantes do corpo técnico-administrativo serão escolhidos pelos seus pares em processo organizado por eles ou pelas respectivas entidades representativas, por sufrágio secreto e universal.

Assinale a sequência correta.

- A) V V F V
- B) F F V V
- C) F F V F
- D) V V F F

CONHECIMENTOS ESPECÍFICOS

TÉCNICO DE LABORATÓRIO – GEOLOGIA E MINERAÇÃO

QUESTÃO 26

Sobre os tipos de racionalidade que devem ser identificados para a implantação de um empreendimento no meio natural, faz-se a seguinte afirmativa:

“[Essa racionalidade] pode ser conceituada a partir do momento em que se identifica a sociedade como uma coleção de indivíduos e, conseqüentemente, estão destinados a surgir conflitos de interesse que não podem ser resolvidos por [outros meios]. [Tal racionalidade] opera mais no sentido de estabilizar e institucionalizar conflitos do que de removê-los e, dessa maneira, não é socialmente racional”.

RHODE, G. M. **Geoquímica ambiental e estudos de impacto**. São Paulo: Oficina de textos, 2013. p. 17 (adaptado).

A racionalidade descrita é

- A) econômica.
- B) técnica.
- C) legal.
- D) ecológica.

QUESTÃO 27

Na obra “Os domínios de natureza no Brasil: potencialidades paisagísticas” (2003), o geógrafo Aziz Ab’Saber afirma:

“Já se disse que as paisagens de exceção constituem fatos isolados, de diferentes aspectos físicos e ecológicos no corpo geral das paisagens habituais [e que] são referenciais para os homens desde a pré-história. (...) no amplo conjunto de paisagens de exceção existentes [no Brasil, destaca-se uma que está] à jusante dos grandes reservatórios regionais (...) e é um dos desfiladeiros mais importantes e espetaculares do Brasil. Suas paredes rochosas semidesnudas são revestidas por espécies anãs de uma [vegetação] arbustiva e esgarçada. Uma vegetação resistente se instalou em íngremes vertentes de rochas resistentes, superficialmente dominadas por litossolos”.

AB’SABER, A. N. **Os domínios da natureza do Brasil: potencialidades paisagísticas**. São Paulo: Ateliê editorial, 2003. p. 149-150 (adaptado).

A descrição refere-se à paisagem de exceção chamada de

- A) Canyon de Xingó.
- B) Canyon do Tietê.
- C) Inselbergs do Sertão nordestino.
- D) Atol das Rocas.

QUESTÃO 28

De acordo com a obra “Geossistemas: uma introdução à geografia física” (2012), os solos possuem diferentes tipos de horizontes.

A esse respeito, e com base na referida obra, numere a COLUNA II de acordo com a COLUNA I, relacionando os tipos de horizontes às suas características.

COLUNA I

- 1. Horizonte O
- 2. Horizonte E
- 3. Horizonte B

COLUNA II

- () Esse horizonte acumula argilas, alumínio e ferro. Horizonte dominado pela iluviação, em que os materiais lixiviados pela água em uma camada entram e se acumulam em outra.
- () Esse horizonte é composto majoritariamente de areia grossa, silte e minerais resistentes à lixiviação.
- () Esse horizonte possui composição orgânica derivada da serrapilheira vegetal e animal depositada e transformada em húmus, uma mistura de materiais orgânicos decompostos e sintetizados.

Assinale a sequência correta.

- A) 3 2 1
- B) 2 3 1
- C) 1 2 3
- D) 3 1 2

QUESTÃO 29

Na obra “Geossistemas: uma introdução à geografia física” (2012), afirma-se que “as camadas interiores do núcleo, do manto e da crosta são diferenciadas pela composição química [e / ou] por seu caráter rígido ou plástico. (...) usando esse [último] critério, os cientistas dividem a porção externa do planeta” nas seguintes camadas:

- A) Crosta e manto superior
- B) Núcleo e manto inferior
- C) Astenosfera e mesosfera
- D) Litosfera e astenosfera

QUESTÃO 30

De acordo com Guerra & Guerra (2008), as águas podem ser tipificadas de diferentes maneiras. Uma dessas águas “não é retirada pelo solo e por isso [é] descendente até a superfície freática. Os íons nela dissolvidos são extraídos do solo, o qual se empobrece e se acidifica (descalcificação)”.

GUERRA, A. T.; GUERRA, A. J. T. **Novo dicionário geológico-geomorfológico**. 6. ed. Rio de Janeiro: Bertrand Brasil, 2008. p. 26 (adaptado).

O tipo de água descrito é a

- A) água dura.
- B) água de gravidade.
- C) água selvagem.
- D) água termal.

QUESTÃO 31

Analise as afirmativas a seguir, feitas pelo geógrafo Aziz Ab'Saber, em sua obra "Os domínios da natureza do Brasil: potencialidades paisagísticas" (2003), sobre algumas características dos domínios morfoclimáticos brasileiros, e assinale com V as verdadeiras e com F as falsas.

- () O domínio morfoclimático amazônico apresenta terras baixas e grande extensão de florestas equatoriais densas.
- () As pradarias são áreas chamadas, também, de coxilhas que ficam em uma área ecológica típica de zona temperada cálida, subúmida, sujeita a uma certa estiagem de fim de ano.
- () A caatinga é um domínio de depressões intermontanas e interplanálticas de clima semiárido.
- () Os Mares de Morro compõem-se por áreas mamelonares tropical-atlânticas e bastante florestadas no passado.

Assinale a sequência correta.

- A) V F F F
- B) F F F V
- C) V V V V
- D) F V V F

QUESTÃO 32

De acordo com Rhode (2013), no livro "Geoquímica ambiental e estudos de impacto", um sistema de monitoramento de geossistema tem vários aspectos, e todos devem ser seguidos com bastante rigor.

A esse respeito, numere a COLUNA II de acordo com a COLUNA I, relacionando os tipos de monitoramentos a algumas de suas características, conforme descrito pelo autor da referida obra.

COLUNA I

1. Monitoramento espacial
2. Monitoramento de fluxos
3. Monitoramento físico-químico

COLUNA II

- () Nesse tipo de monitoramento, deve-se estabelecer métodos de medição direta de movimentos, verificar a topografia com *benchmarks* e instalar medidores de pressão e nível da água.
- () Nesse tipo de monitoramento, deve-se identificar os fluxos significativos a serem medidos, estabelecer frequências das medidas e estabelecer a malha de monitoramento.
- () Nesse monitoramento, é preciso escolher a cartografia a ser utilizada para monitorar, determinar a temática de evolução da área geográfica, estabelecer métodos de campo e indicar uso de aerofotos.

Assinale a sequência correta.

- A) 2 3 1
- B) 1 2 3
- C) 3 1 2
- D) 3 2 1

QUESTÃO 33

"[Esse] padrão de drenagem [é] característico de áreas desérticas onde não há nenhuma estruturação das bacias hidrográficas, devido à quase total ausência de chuvas e à constante formação de dunas".

GUERRA, A. T.; GUERRA, A. J. T. **Novo dicionário geológico-geomorfológico**. 6. ed. Rio de Janeiro: Bertrand Brasil, 2008. p. 65 (adaptado).

O padrão descrito é o da drenagem

- A) arreira.
- B) retangular.
- C) treliça.
- D) dendrítica.

QUESTÃO 34

Orientando-se pela obra de Hassui *et al* (2012), intitulada "Geologia do Brasil", analise as afirmativas a seguir sobre a Bacia do São Francisco:

- I. Trata-se de uma bacia sedimentar de, aproximadamente, 300.000 quilômetros quadrados, com idade, essencialmente, proterozoica, situada em uma parte extremamente estável do Cráton São Francisco.
- II. Extensas regiões da bacia são recobertas por estratos sedimentares de idades fanerozoicas, que são delgados quando comparados com as espessuras de rochas sedimentares proterozoicas.
- III. A Bacia do São Francisco se notabilizou pelas ocorrências de mineralizações de chumbo e zinco lavradas por várias minas situadas em sua parte central e nas suas faixas marginais.

Estão corretas as afirmativas

- A) I e II, apenas.
- B) I e III, apenas.
- C) II e III, apenas.
- D) I, II e III.

QUESTÃO 35

De acordo com Guerra & Guerra (2008), essa formação geomorfológica foi denominada "pelo geógrafo francês Pierre Delfontaines para as colinas dissecadas que formam verdadeiros níveis, nas zonas da serra do Mar e da Mantiqueira. [Segundo os autores] pode-se dizer, em última análise, que [essa formação] é um conjunto de meias-laranjas como as que são vistas no médio Paraíba do Sul".

GUERRA, A. T.; GUERRA, A. J. T. **Novo dicionário geológico-geomorfológico**. 6. ed. Rio de Janeiro: Bertrand Brasil, 2008. p. 413 (adaptado).

A descrição refere-se ao(s)

- A) Campos Sulinos.
- B) Mares de Morros.
- C) Cerrado do Centro-Oeste.
- D) Domínio Amazônico.

QUESTÃO 36

Conforme Hassui *et al* (2012), a *zona de aeração* “localiza-se” entre a superfície do terreno e a zona de saturação da água. O solo permanece parcialmente preenchido com água, e ocorre água formando películas aderidas aos grãos de solo. Essa zona de aeração é dividida em três partes.

É incorreto afirmar que faz parte da zona de aeração a

- A) zona de umidade do solo.
- B) zona de saturação.
- C) zona intermediária.
- D) franja de capilaridade.

QUESTÃO 37

De acordo com a obra “Geoquímica ambiental e estudos de impacto” (2013), são produtos das análises pedológicas que devem ser realizadas nos estudos ambientais das geociências no diagnóstico do meio ambiente físico, exceto:

- A) Elaboração de mapas pedológicos diversos
- B) Caracterização física, mecânica, química e biológica dos solos da região
- C) Croquis dos sítios existentes nas áreas estudadas
- D) Confecção de mapas da capacidade de uso dos solos na área

QUESTÃO 38

Analise as afirmativas a seguir.

As estruturas sedimentares incluem todos os tipos de feições formadas durante a deposição.

PORQUE

As estruturas sedimentares são caracterizadas por acamamentos ou estratificações que ocorrem quando camadas de sedimento com diferentes tamanhos ou composições de partícula são depositadas umas sobre as outras.

A respeito dessas afirmativas, assinale a alternativa correta.

- A) As afirmativas I e II são falsas, e a III é uma justificativa da I.
- B) As afirmativas I e II são verdadeiras, mas a III não é uma justificativa da I.
- C) A afirmativa I é verdadeira, e a II é falsa.
- D) A afirmativa I é falsa, e a III é verdadeira.

QUESTÃO 39

Geralmente, classificam-se os depósitos minerais a partir do conhecimento de processos geológicos que atuaram durante a formação de tais depósitos.

Não é um exemplo de depósito mineral:

- A) Depósitos hidrotermais que são formados em associação com soluções salinas quentes
- B) Depósitos porfiríticos que ocorrem pela remoção de minerais transportados e concentrados pela ação da água ou do vento
- C) Depósitos magmáticos que ocorrem em áreas de rochas ígneas
- D) Depósitos metamórficos de contato (escarníticos), que são formados pela intrusão de rochas plutônicas em calcários impuros

QUESTÃO 40

Os aquíferos são classificados, geralmente, em função da pressão da água no sistema e, também, da geologia do material saturado.

Orientando-se pela obra “Geologia do Brasil”, de Hassui *et al* (2012), analise as afirmativas a seguir sobre os aquíferos.

- I. Os aquíferos variam de acordo com sua capacidade de armazenar e de transmitir água e podem apresentar diversas características.
- II. Aquíferos confinados drenantes são aqueles em que pelo menos uma das camadas limítrofes é semipermeável, permitindo a entrada ou saída de fluxos.
- III. Aquíferos fraturados ou fissurados ocorrem em sistemas de rochas permeáveis, como as rochas sedimentares, portadoras de muitas descontinuidades.

Estão corretas as afirmativas

- A) I e II, apenas.
- B) I e III, apenas.
- C) II e III, apenas.
- D) I, II e III.

FOLHA DE RESPOSTAS (VERSÃO DO CANDIDATO)

| | | | | | | | | | |
|----|--------------------------|--------------------------|--------------------------|--------------------------|----|--------------------------|--------------------------|--------------------------|--------------------------|
| 1 | A | B | C | D | 21 | A | B | C | D |
| | <input type="checkbox"/> | <input type="checkbox"/> | <input type="checkbox"/> | <input type="checkbox"/> | | <input type="checkbox"/> | <input type="checkbox"/> | <input type="checkbox"/> | <input type="checkbox"/> |
| 2 | A | B | C | D | 22 | A | B | C | D |
| | <input type="checkbox"/> | <input type="checkbox"/> | <input type="checkbox"/> | <input type="checkbox"/> | | <input type="checkbox"/> | <input type="checkbox"/> | <input type="checkbox"/> | <input type="checkbox"/> |
| 3 | A | B | C | D | 23 | A | B | C | D |
| | <input type="checkbox"/> | <input type="checkbox"/> | <input type="checkbox"/> | <input type="checkbox"/> | | <input type="checkbox"/> | <input type="checkbox"/> | <input type="checkbox"/> | <input type="checkbox"/> |
| 4 | A | B | C | D | 24 | A | B | C | D |
| | <input type="checkbox"/> | <input type="checkbox"/> | <input type="checkbox"/> | <input type="checkbox"/> | | <input type="checkbox"/> | <input type="checkbox"/> | <input type="checkbox"/> | <input type="checkbox"/> |
| 5 | A | B | C | D | 25 | A | B | C | D |
| | <input type="checkbox"/> | <input type="checkbox"/> | <input type="checkbox"/> | <input type="checkbox"/> | | <input type="checkbox"/> | <input type="checkbox"/> | <input type="checkbox"/> | <input type="checkbox"/> |
| 6 | A | B | C | D | 26 | A | B | C | D |
| | <input type="checkbox"/> | <input type="checkbox"/> | <input type="checkbox"/> | <input type="checkbox"/> | | <input type="checkbox"/> | <input type="checkbox"/> | <input type="checkbox"/> | <input type="checkbox"/> |
| 7 | A | B | C | D | 27 | A | B | C | D |
| | <input type="checkbox"/> | <input type="checkbox"/> | <input type="checkbox"/> | <input type="checkbox"/> | | <input type="checkbox"/> | <input type="checkbox"/> | <input type="checkbox"/> | <input type="checkbox"/> |
| 8 | A | B | C | D | 28 | A | B | C | D |
| | <input type="checkbox"/> | <input type="checkbox"/> | <input type="checkbox"/> | <input type="checkbox"/> | | <input type="checkbox"/> | <input type="checkbox"/> | <input type="checkbox"/> | <input type="checkbox"/> |
| 9 | A | B | C | D | 29 | A | B | C | D |
| | <input type="checkbox"/> | <input type="checkbox"/> | <input type="checkbox"/> | <input type="checkbox"/> | | <input type="checkbox"/> | <input type="checkbox"/> | <input type="checkbox"/> | <input type="checkbox"/> |
| 10 | A | B | C | D | 30 | A | B | C | D |
| | <input type="checkbox"/> | <input type="checkbox"/> | <input type="checkbox"/> | <input type="checkbox"/> | | <input type="checkbox"/> | <input type="checkbox"/> | <input type="checkbox"/> | <input type="checkbox"/> |
| 11 | A | B | C | D | 31 | A | B | C | D |
| | <input type="checkbox"/> | <input type="checkbox"/> | <input type="checkbox"/> | <input type="checkbox"/> | | <input type="checkbox"/> | <input type="checkbox"/> | <input type="checkbox"/> | <input type="checkbox"/> |
| 12 | A | B | C | D | 32 | A | B | C | D |
| | <input type="checkbox"/> | <input type="checkbox"/> | <input type="checkbox"/> | <input type="checkbox"/> | | <input type="checkbox"/> | <input type="checkbox"/> | <input type="checkbox"/> | <input type="checkbox"/> |
| 13 | A | B | C | D | 33 | A | B | C | D |
| | <input type="checkbox"/> | <input type="checkbox"/> | <input type="checkbox"/> | <input type="checkbox"/> | | <input type="checkbox"/> | <input type="checkbox"/> | <input type="checkbox"/> | <input type="checkbox"/> |
| 14 | A | B | C | D | 34 | A | B | C | D |
| | <input type="checkbox"/> | <input type="checkbox"/> | <input type="checkbox"/> | <input type="checkbox"/> | | <input type="checkbox"/> | <input type="checkbox"/> | <input type="checkbox"/> | <input type="checkbox"/> |
| 15 | A | B | C | D | 35 | A | B | C | D |
| | <input type="checkbox"/> | <input type="checkbox"/> | <input type="checkbox"/> | <input type="checkbox"/> | | <input type="checkbox"/> | <input type="checkbox"/> | <input type="checkbox"/> | <input type="checkbox"/> |
| 16 | A | B | C | D | 36 | A | B | C | D |
| | <input type="checkbox"/> | <input type="checkbox"/> | <input type="checkbox"/> | <input type="checkbox"/> | | <input type="checkbox"/> | <input type="checkbox"/> | <input type="checkbox"/> | <input type="checkbox"/> |
| 17 | A | B | C | D | 37 | A | B | C | D |
| | <input type="checkbox"/> | <input type="checkbox"/> | <input type="checkbox"/> | <input type="checkbox"/> | | <input type="checkbox"/> | <input type="checkbox"/> | <input type="checkbox"/> | <input type="checkbox"/> |
| 18 | A | B | C | D | 38 | A | B | C | D |
| | <input type="checkbox"/> | <input type="checkbox"/> | <input type="checkbox"/> | <input type="checkbox"/> | | <input type="checkbox"/> | <input type="checkbox"/> | <input type="checkbox"/> | <input type="checkbox"/> |
| 19 | A | B | C | D | 39 | A | B | C | D |
| | <input type="checkbox"/> | <input type="checkbox"/> | <input type="checkbox"/> | <input type="checkbox"/> | | <input type="checkbox"/> | <input type="checkbox"/> | <input type="checkbox"/> | <input type="checkbox"/> |
| 20 | A | B | C | D | 40 | A | B | C | D |
| | <input type="checkbox"/> | <input type="checkbox"/> | <input type="checkbox"/> | <input type="checkbox"/> | | <input type="checkbox"/> | <input type="checkbox"/> | <input type="checkbox"/> | <input type="checkbox"/> |

AO TRANSFERIR ESSAS MARCAÇÕES PARA A FOLHA DE RESPOSTAS,
OBSERVE AS INSTRUÇÕES ESPECÍFICAS DADAS NA CAPA DA PROVA.

USE CANETA ESFEROGRÁFICA AZUL OU PRETA.



Segundo a Lei nº 9.610/1998, reproduções de natureza não pedagógicas das questões desta prova estão proibidas.

TÉCNICO DE CONTABILIDADE

Código: 208

ABRA APENAS QUANDO AUTORIZADO.

Leia com atenção as seguintes instruções:

- Este caderno contém as **40 questões** da Prova Objetiva, composta por: 10 questões de Língua Portuguesa, 5 questões de Informática Básica, 10 questões de Legislação, e 15 questões de Conhecimentos Específicos.
Caso haja algum problema em seu caderno de provas, informe ao aplicador de provas.
- As informações / instruções dadas no dia da prova complementam o edital.
- Durante as provas, não é permitido o uso de dispositivos eletrônicos de qualquer tipo e celulares, assim como relógios e materiais de consulta.
- Use a Folha de Respostas (versão do candidato) reproduzida no final do Caderno de Provas apenas para marcar seu Gabarito. Esse rascunho somente poderá ser destacado pelo aplicador de provas.
- Na **Folha de Respostas**:
 - Confira seu nome, número de inscrição e cargo.
 - Assine, A TINTA, no espaço próprio indicado.
 - Transcreva a seguinte frase, com sua caligrafia usual, mantendo as letras maiúsculas e minúsculas, desconsiderando aspas e autoria:
- A Folha de Respostas deve ser assinada e não deve ser dobrada, amassada ou rasurada.
- Ao transferir as respostas para a Folha de Respostas:
 - Use somente caneta AZUL ou PRETA, preenchendo toda a área reservada à letra correspondente à resposta solicitada em cada questão, conforme o modelo:

| | | | | |
|----|-------------------------------------|--------------------------|--------------------------|--------------------------|
| 01 | A | B | C | D |
| | <input checked="" type="checkbox"/> | <input type="checkbox"/> | <input type="checkbox"/> | <input type="checkbox"/> |
 - Assinale somente uma alternativa em cada questão e não deixe nenhuma questão sem resposta.
- Sua prova e Folha de Respostas poderão ser entregues somente após o término do período de sigilo: 1 hora.
- Sua resposta **NÃO** será computada se houver marcação de mais de uma alternativa, questões não assinaladas ou rasuradas.
- Ao entregar sua prova, recolha seus objetos, deixe a sala de provas e, em seguida, o prédio. Até deixar as dependências do local de prova, continuam válidas as proibições do uso de aparelhos eletrônicos e celulares, bem como não lhe é mais permitido o uso dos sanitários.
- O Caderno de Questões da Prova Objetiva e os gabaritos serão divulgados no endereço eletrônico www.gestaodeconcursos.com.br, no dia subsequente à data da prova.

“Perder-se também é caminho.”

Clarice Lispector

**DURAÇÃO TOTAL DAS PROVAS,
INCLUINDO TRANSCRIÇÃO DA
FOLHA DE RESPOSTAS:
QUATRO HORAS**

Escreva seu nome completo de forma legível.

NOME: _____

INSTRUÇÃO: Leia o texto a seguir para responder às questões 1 e 2.

Glamorizar o passado é se deixar enganar

Prefiro a caneta ao teclado — apesar da minha letra, que às vezes nem eu entendo —, o papel à tela, o livro físico ao digital. Não é saudosismo e muito menos uma vilanização dos avanços tecnológicos, que ao mesmo tempo são uma bênção e uma maldição. Não glamorizo o passado como sendo melhor: o melhor vive na nossa imaginação [...].

Mantenho o melhor de antes — que gravei no meu HD apertando o rec e o play — e aproveito o melhor de hoje. O que posso escolher escolho, dentro de uma lista nada coerente entre o antigo e o novo, com a vantagem de carregar comigo o passado. A nossa história é um caminho irreversível, saber viver o presente é o melhor dos mundos.

KORICH, Becky S. Glamorizar o passado é se deixar enganar. **Folha de S.Paulo**. Colunas, 11 set. 2023. Disponível em: <https://www1.folha.uol.com.br/colunas/becky-korich/2023/09/glamorizar-o-passado-e-se-deixar-enganar.shtml>. Acesso em: 11 set. 2023. [Fragmento]

QUESTÃO 1

De acordo com as informações apresentadas, pode-se inferir que, para a autora,

- A) o passado apresentava condições melhores que o futuro, que é desesperançoso.
- B) o presente supera o passado devido aos avanços tecnológicos que se apresentam.
- C) o antigo e o novo convivem juntos, e ela aproveita o que há de melhor de cada um.
- D) o saudosismo do passado é o que alimenta a busca por saber viver bem o presente.

QUESTÃO 2

Releia este trecho.

“Não **glamorizo** o passado como sendo melhor: o melhor vive na nossa imaginação [...]”.

O termo em destaque nesse fragmento indica que a autora

- A) não atribui ao passado valor excessivo, mais atraente que o presente.
- B) desconsidera o passado como sendo importante para o futuro.
- C) ignora que o passado foi a melhor época da sua vida.
- D) apaga as lembranças positivas em suas memórias.

QUESTÃO 3

Gaúcho resgatou mais de 100 pessoas de enchente com pequeno barco: ‘fiquei 23 horas em cima do rio’

Mais de 100 pessoas foram salvas por apenas um homem durante a tragédia que atingiu o Vale do Taquari, no Rio Grande do Sul, no começo da semana passada. Com um pequeno barco, o gaúcho Sérgio Benini, morador de Roca Sales, conseguiu resgatar vários vizinhos da enchente que atingiu a cidade, uma das mais afetadas.

“Eu fiquei 23 horas em cima do rio. Nós arrancamos o telhado à mão. As pessoas subiam no segundo piso, no forro embaixo do telhado, porque estava chovendo. E lá eles só gritavam socorro, socorro, socorro”, relembrou ele ao Fantástico.

[...] Conforme a água foi ganhando força pelas ruas da cidade, começaram os pedidos por ajuda. Das janelas, moradores começaram a registrar a força da água.

PORTAL G1. Gaúcho resgatou mais de 100 pessoas de enchente com pequeno barco: ‘fiquei 23 horas em cima do rio’. **Portal G1**. Disponível em: <https://g1.globo.com/fantastico/noticia/2023/09/11/gaucho-resgatou-mais-de-100-pessoas-de-enchente-com-pequeno-barco-fiquei-23-horas-em-cima-do-rio.ghhtml>. Acesso em: 11 set. 2023. [Fragmento]

As diferentes funções da linguagem atendem a propósitos específicos da comunicação. Considerando o texto, a função da linguagem a ele associada é aquela que

- A) valoriza a figura de heróis modernos, reais, sendo classificada como poética.
- B) transmite informações com foco no assunto, classificando-se como referencial.
- C) busca convencer o leitor sobre um posicionamento, sendo chamada de apelativa.
- D) estabelece um diálogo indireto com o leitor do texto, sendo classificada como fática.

QUESTÃO 4

Paz e guerra

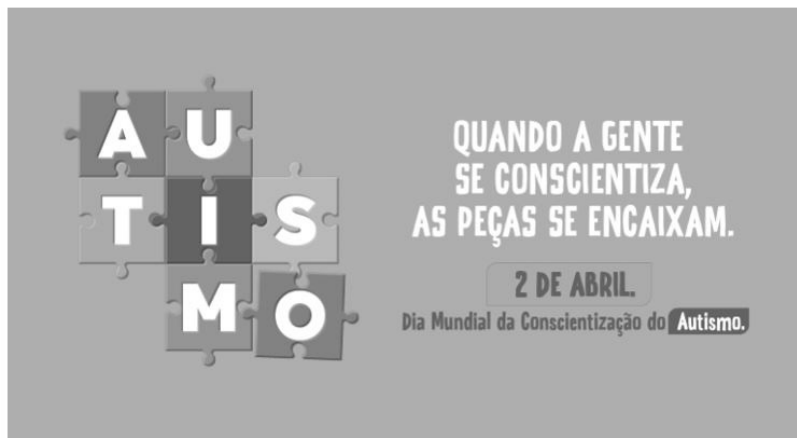
Eu estava atrasado para a guerra; tive de tomar um táxi. Uma contrariedade: com o recente aumento do preço da corrida, aquilo era uma despesa imprevista e inoportuna, um abalo em meu orçamento. Contudo, cheguei justo a tempo de marcar o ponto, evitando assim transtornos maiores.

SCLIAR, Moacyr. Paz e guerra. *In*: **Conto Brasileiro**. Disponível em: <https://contobrasileiro.com.br/paz-e-guerra-conto-de-moacyr-scliar/>. Acesso em: 6 set. 2023. [Fragmento]

Nesse conto de Moacyr Scliar, o sinal de dois-pontos tem a função de introduzir uma

- A) advertência.
- B) dúvida.
- C) explicação.
- D) enumeração.

QUESTÃO 5



Disponível em: <https://prefeitura.pbh.gov.br/noticias/bh-promove-campanha-e-acoes-de-visibilidade-no-mes-de-conscientizacao-do-autismo>. Acesso em: 7 set. 2023.

Tendo em vista os elementos verbais e não verbais do cartaz, infere-se que seu objetivo é

- A) incentivar a busca de tratamento para pessoas diagnosticadas com transtorno do espectro autista.
- B) promover a visibilidade e a inclusão de pessoas com transtorno do espectro autista na sociedade.
- C) sugerir a definição de uma data para celebrar a inclusão de pessoas com autismo no meio social.
- D) defender a luta por maior visibilidade das pessoas com autismo nos ambientes governamentais.

QUESTÃO 6



Disponível em: <https://tirasarmandinho.tumblr.com>. Acesso em: 6 set. 2023.

Na construção da tirinha, foi usada linguagem

- A) corporal, pois o personagem utiliza todas as partes do corpo para parabenizar a mulher em uma data comemorativa.
- B) simbólica, pois as flores representam um objeto de desejo feminino, reproduzindo uma visão superficial das mulheres.
- C) verbo-visual, pois o texto escrito está em elipse, sendo inferido pelo contexto em que os personagens estão inseridos.
- D) visual, pois a mensagem comunicativa pode ser compreendida mesmo sem uso de palavras, mas apenas de imagens.

QUESTÃO 7

Podemos alimentar o discurso de ódio sem perceber

As redes sociais se tornam convenientes para quem produz falas discriminatórias e intolerantes porque elas conseguem interpretar o comportamento dos usuários, recomendando automaticamente conteúdos alinhados com os interesses deles. As redes criam, portanto, uma audiência para oradores de discursos de ódio que normalmente teriam pouco alcance.

Ocorre que, também por essa razão, as mesmas ações que contribuem para a propagação de um vídeo, foto ou meme, como as curtidas e compartilhamentos, colaboram para disseminar essas mensagens problemáticas. Entender isso é importante para evitarmos propagar o discurso que queremos combater.

Explico: por causa de como as plataformas funcionam, quanto mais interagirmos com a postagem problemática, maior será a audiência atingida por ela e mais perigosa esta mensagem será. Isso acontece mesmo quando compartilhamos uma manifestação de ódio como forma de denúncia ou publicamos um comentário criticando o conteúdo.

[...]

Infelizmente, mesmo com boas intenções e sem perceber, podemos acabar ajudando a disseminar posts que depreciam pessoas por sua etnia, gênero, orientação sexual ou outro marcador social. Isso é profundamente perigoso, pois quanto mais pessoas são alcançadas e têm suas opiniões formadas por discursos de ódio, mais provável se torna que algumas delas pratiquem atos concretos de discriminação e violência contra minorias sociais e grupos vulneráveis.

SALVADOR, J. P. F. Podemos alimentar o discurso de ódio sem perceber. **Hoje em Dia**. Opinião, 18 out. 2023. Disponível em: <https://www.hojeemdia.com.br/opiniao/opiniao/podemos-alimentar-o-discurso-de-odio-sem-perceber-1.984113>. Acesso em: 23 out. 2023. [Fragmento]

Em seu texto, o autor argumenta que

- A) ter cuidado com conteúdos consumidos e compartilhados nas redes sociais é uma forma de evitar a disseminação de discursos de ódio.
- B) alimentar a disseminação de discursos de ódio é um dos objetivos das plataformas de redes sociais, devido ao engajamento.
- C) acabar com os discursos de ódio nas redes sociais requer que os usuários façam comentários negativos nos posts.
- D) disseminar discursos de ódio nas redes sociais é uma característica dos produtores de conteúdo que têm pouco alcance.

QUESTÃO 8

Codinome Beija-flor

Pra que mentir
Fingir que perdoou
Tentar ficar amigos sem rancor
A emoção acabou
Que coincidência é o amor
A nossa música nunca mais tocou

Pra que usar de tanta educação
Pra destilar terceiras intenções
Desperdiçando o meu mel
Devagarzinho, flor em flor
Entre os meus inimigos, beija-flor

CAZUZA. Codinome Beija-flor. In: **Vagalume**. Disponível em: <https://www.vagalume.com.br/cazuza/codinome-beija-flor.html>. Acesso em: 6 set. 2023. [Fragmento]

As palavras podem ser formadas por diferentes processos. Um deles é a composição por justaposição, em que dois termos são unidos um ao outro, sem perda de seus elementos.

Na canção de Cazuzza, ocorre justaposição na formação da palavra

- A) destilar.
- B) inimigos.
- C) devagarzinho.
- D) beija-flor.

QUESTÃO 9

A disciplina do amor

Foi na França, durante a Segunda Grande Guerra: um jovem tinha um cachorro que todos os dias, pontualmente, ia esperá-lo voltar do trabalho. Postava-se na esquina, um pouco antes das seis da tarde. Assim que via o dono, ia correndo ao seu encontro e na maior alegria acompanhava-o com seu passinho **saltitante** de volta à casa. A vila inteira já conhecia o cachorro e as pessoas que passavam faziam-lhe festinhas e ele correspondia, chegava até a correr todo animado atrás dos mais íntimos. Para logo voltar atento ao seu posto e ali ficar sentado até o momento em que seu dono apontava lá longe.

TELLES, Lygia Fagundes. A disciplina do amor. In: **Conto Brasileiro**. Disponível em: <https://contobrasileiro.com.br/a-disciplina-do-amor-conto-de-lygia-fagundes-telles/>. Acesso em: 6 set. 2023. [Fragmento]

Assinale a alternativa em que o termo destacado pertença, no contexto, à mesma classe de palavras daquela em destaque no texto.

- A) “Foi na França, durante a Segunda **Grande** guerra [...]”.
- B) “Assim que via o dono, ia correndo ao seu **encontro** [...]”.
- C) “[...] até o momento em que seu **dono** apontava lá longe.”
- D) “Postava-se na esquina, um **pouco** antes das seis da tarde.”

QUESTÃO 10

Escola em tempo integral para uma educação integral

O Brasil é um dos países mais desiguais do mundo, tanto na área econômica como na social, e continuará sendo enquanto a oferta da educação de qualidade permanecer desigual. Sem oportunidades iguais de acesso a um ensino de qualidade para todas as crianças e adolescentes, jamais ultrapassaremos os umbrais da mediocridade. Por isso, termos as escolas funcionando em período estendido é uma das poucas quase-unanidades, como demonstram diversas pesquisas.

VENTURI, Jacir. Escola em tempo integral para uma educação integral. **Gazeta do povo**. Opinião, 31 ago. 2023. Disponível em: <https://www.gazetadopovo.com.br/opiniaio/artigos/escola-em-tempo-integral-para-uma-educacao-integral/>. Acesso em: 6 set. 2023. [Fragmento]

No texto, observa-se o sentido conotativo em:

- A) “Umbrais da mediocridade”, que indica uma limitação do Brasil no avanço da qualidade do ensino escolar.
- B) “Ensino de qualidade”, que alude às escolas particulares, às quais a maior parte da população não tem acesso.
- C) “Diversas pesquisas”, que indefine propositadamente as pesquisas, evidenciando ausência de embasamento.
- D) “Oportunidades iguais”, que ironiza o fato de que a igualdade da educação no Brasil não é possível para a grande massa.

INFORMÁTICA BÁSICA

QUESTÃO 11

A impressão de apresentações é uma etapa importante na comunicação de informações por meio do Microsoft PowerPoint. Analise as afirmativas a seguir, relacionadas à impressão de apresentações no Microsoft PowerPoint para office 365.

- I. A opção de imprimir *slides* selecionados permite selecionar partes de cada *slide* a ser impresso.
- II. Pode-se selecionar a impressão de um intervalo de *slides*, como imprimir todos os *slides*, exceto a capa da apresentação.
- III. A opção de anotações do apresentador permite imprimir a apresentação juntamente com as anotações feitas pelo elaborador da apresentação.

Estão corretas as afirmativas

- A) I e II, apenas.
- B) I e III, apenas.
- C) II e III, apenas.
- D) I, II e III.

QUESTÃO 12

Tendo em vista os tipos de gráficos disponíveis no Microsoft Excel para office 365, numere a COLUNA II de acordo com a COLUNA I, associando os conceitos aos tipos de gráficos correspondentes.

COLUNA I

- 1. Gráfico de pizza
- 2. Gráfico de linhas

COLUNA II

- () Mostram o tamanho dos itens, em um série de dados, proporcional à soma desses itens.
- () Podem mostrar dados contínuos ao longo do tempo em um eixo com escalas iguais e, portanto, são ideais para mostrar tendências de dados em intervalos iguais, como meses, trimestres ou anos fiscais.
- () Pontos de dados deste gráfico são exibidos como uma porcentagem do total de dados.

Assinale a sequência correta.

- A) 2 1 2
- B) 1 2 1
- C) 1 1 2
- D) 2 2 1

QUESTÃO 13

O sistema operacional Windows 10 oferece uma variedade de configurações que podem ser personalizadas por meio do Painel de Controle. Analise as afirmativas a seguir, relacionadas às configurações básicas do Windows 10.

- I. No Painel de Controle, o usuário pode personalizar as configurações de rede no Windows 10, como a configuração de uma conexão Wi-Fi.
- II. No Painel de Controle, é possível alterar a resolução da tela, ajustar as configurações de vídeo e gerenciar dispositivos de impressão conectados ao computador.
- III. O Painel de Controle é o local principal para a instalação e a remoção de programas e aplicativos no Windows 10.

Estão corretas as afirmativas

- A) I e II, apenas.
- B) I e III, apenas.
- C) II e III, apenas.
- D) I, II e III.

QUESTÃO 14

Existem muitos tipos de ataques a redes, cada um visando a explorar vulnerabilidades específicas para comprometer a segurança da rede.

O ataque que visa a sobrecarregar um servidor ou rede com um volume massivo de tráfego, tornando-o inacessível para os usuários legítimos, é chamado de

- A) Ataque de Envenenamento de ARP.
- B) Ataque de Negação de Serviço (DDoS).
- C) Ataque de *Phishing*.
- D) Ataque de Força Bruta.

QUESTÃO 15

A internet é uma rede global que conecta bilhões de dispositivos em todo o mundo, permitindo a troca de informações e recursos.

Com relação às noções básicas de internet, assinale a alternativa correta.

- A) A internet é uma rede de computadores exclusiva para uso governamental e militar.
- B) HTTP é um protocolo de segurança usado para criptografar todas as comunicações na internet, garantindo a privacidade de todos os usuários.
- C) Um endereço IP (Internet Protocol) é um identificador exclusivo atribuído a um dispositivo conectado à internet para facilitar a comunicação e a identificação na rede.
- D) A World Wide Web (WWW) também pode ser chamada de internet.

LEGISLAÇÃO

QUESTÃO 16

Em relação aos direitos e deveres individuais e coletivos previstos na Constituição da República Federativa do Brasil de 1988, assinale a alternativa incorreta.

- A) É assegurada, mediante o pagamento de taxa, a obtenção de certidões em repartições públicas para defesa de direitos.
- B) As entidades associativas, quando expressamente autorizadas, têm legitimidade para representar seus filiados judicial ou extrajudicialmente.
- C) É livre a expressão da atividade intelectual, artística, científica e de comunicação, independentemente de censura ou licença.
- D) A pena será cumprida em estabelecimentos distintos, de acordo com a natureza do delito, a idade e o sexo do apenado.

QUESTÃO 17

Sobre as vedações ao servidor público, previstas no Decreto nº 1.171, de 22 de junho de 1994, que aprova o Código de Ética Profissional do Servidor Público Civil do Poder Executivo Federal, analise as afirmativas a seguir.

- I. É vedado ao servidor exercer atividade profissional aética ou ligar o seu nome a empreendimentos de cunho duvidoso.
- II. É vedado ao servidor público retirar da repartição pública livro ou bem pertencente ao patrimônio público, salvo se for autorizado pelo superior hierárquico.
- III. É vedado ao servidor público embriagar-se, ainda que esporadicamente.

Está(ão) correta(s) a(s) afirmativa(s)

- A) I, apenas.
- B) II, apenas.
- C) I e II, apenas.
- D) I, II e III.

QUESTÃO 18

O credenciamento, de acordo com as previsões da Lei nº 14.133, de 1º de abril de 2021, conhecida como Lei de Licitações e Contratos Administrativos, poderá ser usado na seguinte hipótese de contratação:

- A) Paralela e excludente
- B) Com seleção a critério de terceiros
- C) Em mercados sem flutuação
- D) De particular para provimento de atividade do Poder Público

QUESTÃO 19

Conforme disposto na Lei nº 13.709, de 14 de agosto de 2018, conhecida como Lei Geral de Proteção de Dados Pessoais (LGPD), o término do tratamento de dados pessoais ocorrerá nas seguintes hipóteses, exceto:

- A) Verificação de que a finalidade foi alcançada
- B) Cumprimento de obrigação legal ou regulatória pelo controlador
- C) Fim do período de tratamento
- D) Determinação da autoridade nacional, quando houver violação ao disposto na LGPD

QUESTÃO 20

De acordo com a Lei nº 12.527, de 18 de novembro de 2011, conhecida como Lei de Acesso à Informação, não constitui conduta ilícita que enseja responsabilidade do agente público ou militar:

- A) Impor sigilo à informação para obter proveito pessoal ou de terceiro, ou para fins de ocultação de ato ilegal cometido por si ou por outrem
- B) Ocultar da revisão de autoridade superior competente informação sigilosa para beneficiar a si ou a outrem, ou em prejuízo de terceiros
- C) Destruir ou subtrair, por qualquer meio, documentos concernentes a possíveis violações de direitos humanos por parte de agentes do Estado
- D) Agir com negligência ou imprudência na análise das solicitações de acesso à informação

QUESTÃO 21

Segundo a Lei nº 8.112, de 11 de dezembro de 1990, que dispõe sobre o regime jurídico dos servidores públicos civis da União, das autarquias e das fundações públicas federais, não é uma forma de provimento de cargo público a

- A) ascensão.
- B) recondução.
- C) reversão.
- D) promoção.

QUESTÃO 22

Segundo o Estatuto da Universidade Federal dos Vales do Jequitinhonha e Mucuri, não é uma competência do diretor da Unidade Acadêmica:

- A) Submeter à apreciação da Congregação o orçamento anual e as prioridades para aplicação dos recursos
- B) Estabelecer as normas de afastamento de docentes, para fins de capacitação e cooperação
- C) Planejar e gerir os recursos de pessoal, orçamentários, financeiros, materiais e patrimoniais sob sua responsabilidade
- D) Convocar e presidir as reuniões da Congregação, com voto comum e de qualidade

QUESTÃO 23

Sobre os currículos e as normas previstas no Estatuto da Universidade Federal dos Vales do Jequitinhonha e Mucuri, analise as afirmativas a seguir.

- I. Os conteúdos dos componentes curriculares relacionados às disciplinas serão especificados em ementas e programas, com carga horária e créditos pré-definidos.
- II. O Conselho de Curadores disporá sobre a criação, a organização, o funcionamento e a extinção dos cursos de graduação.
- III. Qualquer que seja a forma de admissão, deverá o discente, nas datas fixadas pelo calendário acadêmico, realizar seu registro, conforme especificado no edital do processo seletivo correspondente.

Está(ão) correta(s) a(s) afirmativa(s)

- A) I, apenas.
- B) II, apenas.
- C) I e III, apenas.
- D) I, II e III.

QUESTÃO 24

De acordo com o Regimento Geral da Universidade Federal dos Vales do Jequitinhonha e Mucuri, são órgãos das Unidades Acadêmicas, exceto:

- A) Congregação
- B) Diretoria
- C) Conselho universitário
- D) Colegiado de curso

QUESTÃO 25

Sobre as normas relativas ao funcionamento dos órgãos colegiados previstas no Regimento Geral da Universidade Federal dos Vales do Jequitinhonha e Mucuri, assinale com V as afirmativas verdadeiras e com F as falsas.

- () As reuniões dos colegiados serão convocadas pelo respectivo Presidente, com antecedência de 48 (quarenta e oito) horas para as reuniões ordinárias.
- () O comparecimento dos membros nas reuniões de órgãos colegiados é facultativo.
- () Serão consideradas aprovadas as propostas que obtiverem maioria simples de votos dos presentes, salvo disposição expressa no Estatuto ou no Regimento Geral.
- () Os representantes do corpo técnico-administrativo serão escolhidos pelos seus pares em processo organizado por eles ou pelas respectivas entidades representativas, por sufrágio secreto e universal.

Assinale a sequência correta.

- A) V V F V
- B) F F V V
- C) F F V F
- D) V V F F

CONHECIMENTOS ESPECÍFICOS

TÉCNICO EM CONTABILIDADE

QUESTÃO 26

De acordo com o Manual de Contabilidade Aplicado ao Setor Público (MCASP, 2021), os princípios orçamentários visam a estabelecer diretrizes norteadoras básicas, a fim de conferir racionalidade, eficiência e transparência para os processos de elaboração, execução e controle do orçamento público.

Com relação aos princípios orçamentários, assinale a alternativa correta.

- A) O princípio da universalidade determina a existência de orçamento único para cada um dos entes federados – União, estados, Distrito Federal e municípios.
- B) O princípio da universalidade estabelece que a Lei Orçamentária Anual de cada ente federado deverá conter todas as receitas e despesas, entre outros, de todas as fundações instituídas e mantidas pelo Poder Público.
- C) O princípio da totalidade estabelece que a Lei Orçamentária Anual não conterá dispositivo estranho à previsão da receita e à fixação da despesa.
- D) O princípio da unidade obriga o registro de receitas e despesas na LOA pelo valor total e bruto, vedadas quaisquer deduções.

QUESTÃO 27

Sobre a Demonstração das Mutações no Patrimônio Líquido (DMPL), assinale a alternativa correta.

- A) Na DMPL, não deve estar demonstrado, para cada item do patrimônio líquido divulgado, os efeitos das alterações nas políticas contábeis e da correção de erros.
- B) A DMPL é facultativa para as empresas estatais dependentes constituídas sob a forma de sociedades anônimas, bem como para os demais órgãos e entidades dos entes da Federação.
- C) Na elaboração da DMPL, nas linhas são apresentadas as contas contábeis das quais os dados devem ser extraídos, enquanto as colunas delimitam o par de lançamento de tais contas.
- D) A DMPL complementa o Anexo de Metas Fiscais (AMF), integrante do Projeto de Lei de Diretrizes Orçamentárias (LDO).

QUESTÃO 28

Assinale a alternativa que apresenta corretamente uma variação patrimonial aumentativa.

- A) Incorporação de passivos
- B) Transferências e delegações concedidas
- C) Desincorporação de passivos
- D) Uso de bens, serviços e consumo de capital fixo

QUESTÃO 29

Analise as afirmativas a seguir, sobre o Plano de Contas Aplicado ao Setor Público (PCASP) Estendido.

- I. Algumas contas do PCASP Estendido servem como base para captação das informações utilizadas pelo Sistema de Informações Contábeis e Fiscais do Setor Público Brasileiro (SICONFI).
- II. A Secretaria de Previdência (Sprev) determinou que os Regimes Próprios de Previdência Social (RPPS) deverão adotar algumas contas específicas do PCASP Estendido.
- III. O PCASP Estendido é de adoção obrigatória para os entes que precisam de uma referência para o desenvolvimento de suas rotinas e sistemas.

Estão corretas as afirmativas

- A) I e II, apenas.
- B) I e III, apenas.
- C) I, II e III.
- D) II e III, apenas.

QUESTÃO 30

O Relatório de Gestão Fiscal (RGF) tem o objetivo de dar transparência à gestão fiscal do titular do Poder / órgão realizada no período, principalmente por meio da verificação do cumprimento dos limites.

Nesse contexto, assinale a alternativa incorreta.

- A) O limite legal (ou limite máximo) constitui uma das formas para a avaliação da gestão fiscal do ente da Federação.
- B) O limite de alerta foi estabelecido para que, a partir de então, estejam vedados alguns atos que acarretem aumento da despesa com pessoal, evitando assim que o limite máximo seja ultrapassado.
- C) O Relatório de Gestão Fiscal dos Poderes e órgãos abrange administração direta, autarquias, fundações, fundos e empresas estatais dependentes.
- D) O Relatório de Gestão Fiscal deverá ser publicado e disponibilizado ao acesso público até 30 (trinta dias) após o encerramento do período a que corresponder.

QUESTÃO 31

No âmbito da administração pública, a dedução de receita orçamentária é o procedimento padrão a ser utilizado em certas situações, salvo quando houver determinação legal expressa de se contabilizar fatos dessa natureza como despesa orçamentária.

Nesse contexto, assinale com V as afirmativas verdadeiras e com F as falsas.

- () A contabilidade utiliza conta redutora de receita orçamentária para evidenciar o fluxo de recursos da receita orçamentária bruta até a líquida, em função de suas operações econômicas e sociais.
- () O critério geral utilizado para registro da receita orçamentária é o do ingresso de disponibilidades, sendo que a dedução deve ser usada no caso de renúncia de receita orçamentária.
- () A dedução de receita orçamentária é utilizada no caso de recursos em que o ente tenha a competência de arrecadar, mas que pertençam a outro ente, de acordo com a legislação vigente.
- () No caso de lançamentos em que ocorram erros de escrituração do ente (não motivados por informações incorretas dos contribuintes), a correção deve ser feita por meio da dedução de receita.

Assinale a sequência correta.

- A) V V V F
- B) V F F V
- C) F F F V
- D) F V V F

QUESTÃO 32

A normatização dos procedimentos contábeis relativos aos custos de empréstimos foi elaborada com base na Norma Brasileira de Contabilidade (NBC TSP) 14 – Custos de Empréstimos, observando a legislação brasileira, quando aplicável.

Com relação ao que preconiza essa norma, assinale a alternativa incorreta.

- A) Ativo qualificável é o ativo que, necessariamente, leva um período substancial para ficar pronto para seu uso ou venda pretendidos.
- B) Os custos dos empréstimos podem ser abordados de duas maneiras, sendo elas: pelo tratamento padrão ou pelo tratamento alternativo.
- C) Custos dos empréstimos podem incluir a amortização de descontos ou os prêmios relacionados com empréstimos concedidos.
- D) A entidade deve iniciar a capitalização dos custos de empréstimos como parte do custo do ativo qualificável quando incorrer em gastos com o ativo.

QUESTÃO 33

Analise as afirmativas a seguir, sobre os elementos das demonstrações contábeis, de acordo com NBC TSP – Estrutura Conceitual.

- I. Os direitos ao potencial de serviços ou à capacidade de gerar benefícios econômicos podem ser verificados por meio da manutenção e da utilização de equipamento arrendado (por arrendamento mercantil financeiro) sem que haja a propriedade legal.
- II. Um passivo deve envolver uma saída de recursos da entidade para ser extinto. A obrigação que pode ser extinta sem a saída de recursos da entidade não é um passivo. Por exemplo, perdão de dívidas.
- III. A situação patrimonial líquida é a diferença entre os ativos e os passivos após a inclusão de outros recursos e a dedução de outras obrigações, reconhecida no Balanço Patrimonial como patrimônio líquido.

Está(ão) correta(s) a(s) afirmativa(s)

- A) II, apenas.
- B) I e III, apenas.
- C) III, apenas.
- D) I, II e III.

QUESTÃO 34

A fase do planejamento da despesa orçamentária abrange, de modo geral, todas as etapas para a análise e a formulação do plano e ações governamentais que servirão de base para a fixação da despesa orçamentária, a descentralização / movimentação de créditos, a programação orçamentária e financeira e o processo de licitação e contratação.

Com relação às etapas de planejamento, assinale a alternativa correta.

- A) A etapa da programação orçamentária compreende um conjunto de procedimentos administrativos que objetivam adquirir materiais, contratar obras e serviços, alienar ou ceder bens a terceiros, bem como fazer concessões de serviços públicos com as melhores condições para o Estado.
- B) A etapa das descentralizações de créditos orçamentários ocorre quando for efetuada movimentação de parte do orçamento, mantidas as classificações institucional, funcional, programática e econômica, para que outras unidades administrativas possam executar a despesa orçamentária.
- C) A etapa do processo de licitação consiste na compatibilização do fluxo dos pagamentos com o fluxo dos recebimentos, visando ao ajuste da despesa fixada às novas projeções de resultados e da arrecadação.
- D) A etapa da previsão da despesa orçamentária se insere no processo de planejamento e compreende a adoção de medidas em direção a uma situação idealizada, tendo em vista os recursos disponíveis e observando as diretrizes e prioridades traçadas pelo governo.

QUESTÃO 35

Com relação ao orçamento público, numere a COLUNA II de acordo com a COLUNA I, associando a peça orçamentária a seu respectivo conceito.

COLUNA I

1. Lei Orçamentária Anual
2. Plano Plurianual
3. Lei de Diretrizes Orçamentárias

COLUNA II

- () Estabelece, de forma regionalizada, as diretrizes, objetivos e metas da administração pública federal para as despesas de capital e outras delas decorrentes e para as relativas aos programas de duração continuada.
- () Compreende as metas e prioridades da administração pública federal, estabelecendo as diretrizes de política fiscal e respectivas metas, em consonância com uma trajetória sustentável da dívida pública, bem como, entre outros aspectos, orienta a elaboração da lei orçamentária anual.
- () Compreende o orçamento fiscal, o orçamento de investimento e o orçamento da seguridade social, sendo acompanhado(a) de demonstrativo regionalizado do efeito, sobre as receitas e despesas, decorrente de, entre outros, isenções, anistias, remissões e subsídios.

Assinale a sequência correta.

- A) 1 2 3
- B) 3 1 2
- C) 2 1 3
- D) 2 3 1

QUESTÃO 36

De acordo com a Lei nº 4.320/1964, no que se refere a subvenções sociais, assinale a alternativa correta.

- A) As subvenções sociais visam à prestação de serviços essenciais de assistência social, médica e educacional, sempre que a suplementação de recursos de origem privada aplicados a esses objetivos revelar-se mais econômica.
- B) As subvenções sociais são dotações destinadas a cobrir a diferença entre os preços de mercado e os preços de revenda, pelo governo, de gêneros alimentícios ou outros materiais.
- C) As subvenções sociais visam à cobertura dos déficits de manutenção das empresas públicas, de natureza autárquica ou não, e devem estar expressamente incluídas nas despesas correntes do orçamento da União, do estado, do município ou do Distrito Federal.
- D) As subvenções sociais são dotações destinadas ao pagamento de bonificações a produtores de determinados gêneros ou materiais.

QUESTÃO 37

A NBC TSP 11 – Apresentação das Demonstrações Contábeis estabelece como as demonstrações contábeis devem ser apresentadas para assegurar a comparabilidade tanto com as demonstrações de períodos anteriores da mesma entidade quanto com as de outras entidades.

Com relação a essa norma, assinale com V as afirmativas verdadeiras e com F as falsas.

- () Políticas contábeis inadequadas não devem ser convalidadas em razão de sua divulgação, seja por meio de notas explicativas, seja por qualquer outra divulgação explicativa.
- () A entidade deve apresentar, separadamente, nas demonstrações contábeis, cada classe material de itens semelhantes.
- () Quando os itens de receitas e despesas são materiais, sua natureza e valores devem ser divulgados conjuntamente.
- () As demonstrações contábeis devem ser identificadas claramente e distinguidas de qualquer outra informação que porventura conste no mesmo documento divulgado.

Assinale a sequência correta.

- A) V F V V
- B) V F F F
- C) F V F V
- D) F V V F

QUESTÃO 38

Determinada empresa industrial produz apenas um tipo de produto e faz uso do método de custeio por absorção para apuração dos custos de produção de seus produtos. No mês de dezembro, a empresa apresentou as seguintes informações:

| | |
|-----------------------------|----------------|
| Produção | 5.000 unidades |
| Custos Fixos Unitários | R\$ 10,00 |
| Custo Variável Unitário | R\$ 20,00 |
| Estoque inicial em dezembro | 0 |
| Unidades vendidas | 2.500 unidades |

Com base somente nas informações apresentadas, assinale a alternativa que descreve corretamente o valor do estoque final no dia 31 de dezembro.

- A) R\$ 1.000.000,00
- B) R\$ 500.000,00
- C) R\$ 50.000,00
- D) R\$ 100.000,00

QUESTÃO 39

Determinada empresa industrial produz pentes de cabelo e faz uso do custeio de seus produtos pelo método variável. No mês de agosto, a empresa apresentou as seguintes informações.

| | |
|-----------------------------|----------------|
| Produção | 5.000 unidades |
| Mão de obra direta | R\$ 10.000,00 |
| Mão de obra indireta | R\$ 5.000,00 |
| Gastos gerais de fabricação | R\$ 20.000,00 |
| Unidades vendidas | 2.000 unidades |
| Matéria-prima consumida | R\$ 15.000,00 |

Com base somente nas informações apresentadas, assinale a alternativa que apresenta o valor do custo unitário dos produtos vendidos.

- A) R\$ 10,00
- B) R\$ 9,00
- C) R\$ 7,50
- D) R\$ 5,00

QUESTÃO 40

De acordo com a obra “Contabilidade de Custos” (2018), de Eliseu Martins, numere a COLUNA I de acordo com a COLUNA II associando as nomenclaturas aos respectivos conceitos fundamentais de custos e da contabilidade de custos.

COLUNA I

1. Despesa
2. Custo
3. Investimento
4. Desembolso

COLUNA II

- () Gasto relativo a bem ou serviço utilizado na produção de outros bens ou serviços.
- () Pagamento resultante da aquisição do bem ou serviço.
- () Gasto ativado em função de sua vida útil ou de benefícios atribuíveis a futuro(s) período(s).
- () Bem ou serviço consumido direta ou indiretamente para a obtenção de receitas.

Assinale a sequência correta.

- A) 2 4 3 1
- B) 3 1 2 4
- C) 4 2 1 3
- D) 2 3 4 1

FOLHA DE RESPOSTAS (VERSÃO DO CANDIDATO)

| | | | | | | | | | |
|----|--------------------------|--------------------------|--------------------------|--------------------------|----|--------------------------|--------------------------|--------------------------|--------------------------|
| 1 | A | B | C | D | 21 | A | B | C | D |
| | <input type="checkbox"/> | <input type="checkbox"/> | <input type="checkbox"/> | <input type="checkbox"/> | | <input type="checkbox"/> | <input type="checkbox"/> | <input type="checkbox"/> | <input type="checkbox"/> |
| 2 | A | B | C | D | 22 | A | B | C | D |
| | <input type="checkbox"/> | <input type="checkbox"/> | <input type="checkbox"/> | <input type="checkbox"/> | | <input type="checkbox"/> | <input type="checkbox"/> | <input type="checkbox"/> | <input type="checkbox"/> |
| 3 | A | B | C | D | 23 | A | B | C | D |
| | <input type="checkbox"/> | <input type="checkbox"/> | <input type="checkbox"/> | <input type="checkbox"/> | | <input type="checkbox"/> | <input type="checkbox"/> | <input type="checkbox"/> | <input type="checkbox"/> |
| 4 | A | B | C | D | 24 | A | B | C | D |
| | <input type="checkbox"/> | <input type="checkbox"/> | <input type="checkbox"/> | <input type="checkbox"/> | | <input type="checkbox"/> | <input type="checkbox"/> | <input type="checkbox"/> | <input type="checkbox"/> |
| 5 | A | B | C | D | 25 | A | B | C | D |
| | <input type="checkbox"/> | <input type="checkbox"/> | <input type="checkbox"/> | <input type="checkbox"/> | | <input type="checkbox"/> | <input type="checkbox"/> | <input type="checkbox"/> | <input type="checkbox"/> |
| 6 | A | B | C | D | 26 | A | B | C | D |
| | <input type="checkbox"/> | <input type="checkbox"/> | <input type="checkbox"/> | <input type="checkbox"/> | | <input type="checkbox"/> | <input type="checkbox"/> | <input type="checkbox"/> | <input type="checkbox"/> |
| 7 | A | B | C | D | 27 | A | B | C | D |
| | <input type="checkbox"/> | <input type="checkbox"/> | <input type="checkbox"/> | <input type="checkbox"/> | | <input type="checkbox"/> | <input type="checkbox"/> | <input type="checkbox"/> | <input type="checkbox"/> |
| 8 | A | B | C | D | 28 | A | B | C | D |
| | <input type="checkbox"/> | <input type="checkbox"/> | <input type="checkbox"/> | <input type="checkbox"/> | | <input type="checkbox"/> | <input type="checkbox"/> | <input type="checkbox"/> | <input type="checkbox"/> |
| 9 | A | B | C | D | 29 | A | B | C | D |
| | <input type="checkbox"/> | <input type="checkbox"/> | <input type="checkbox"/> | <input type="checkbox"/> | | <input type="checkbox"/> | <input type="checkbox"/> | <input type="checkbox"/> | <input type="checkbox"/> |
| 10 | A | B | C | D | 30 | A | B | C | D |
| | <input type="checkbox"/> | <input type="checkbox"/> | <input type="checkbox"/> | <input type="checkbox"/> | | <input type="checkbox"/> | <input type="checkbox"/> | <input type="checkbox"/> | <input type="checkbox"/> |
| 11 | A | B | C | D | 31 | A | B | C | D |
| | <input type="checkbox"/> | <input type="checkbox"/> | <input type="checkbox"/> | <input type="checkbox"/> | | <input type="checkbox"/> | <input type="checkbox"/> | <input type="checkbox"/> | <input type="checkbox"/> |
| 12 | A | B | C | D | 32 | A | B | C | D |
| | <input type="checkbox"/> | <input type="checkbox"/> | <input type="checkbox"/> | <input type="checkbox"/> | | <input type="checkbox"/> | <input type="checkbox"/> | <input type="checkbox"/> | <input type="checkbox"/> |
| 13 | A | B | C | D | 33 | A | B | C | D |
| | <input type="checkbox"/> | <input type="checkbox"/> | <input type="checkbox"/> | <input type="checkbox"/> | | <input type="checkbox"/> | <input type="checkbox"/> | <input type="checkbox"/> | <input type="checkbox"/> |
| 14 | A | B | C | D | 34 | A | B | C | D |
| | <input type="checkbox"/> | <input type="checkbox"/> | <input type="checkbox"/> | <input type="checkbox"/> | | <input type="checkbox"/> | <input type="checkbox"/> | <input type="checkbox"/> | <input type="checkbox"/> |
| 15 | A | B | C | D | 35 | A | B | C | D |
| | <input type="checkbox"/> | <input type="checkbox"/> | <input type="checkbox"/> | <input type="checkbox"/> | | <input type="checkbox"/> | <input type="checkbox"/> | <input type="checkbox"/> | <input type="checkbox"/> |
| 16 | A | B | C | D | 36 | A | B | C | D |
| | <input type="checkbox"/> | <input type="checkbox"/> | <input type="checkbox"/> | <input type="checkbox"/> | | <input type="checkbox"/> | <input type="checkbox"/> | <input type="checkbox"/> | <input type="checkbox"/> |
| 17 | A | B | C | D | 37 | A | B | C | D |
| | <input type="checkbox"/> | <input type="checkbox"/> | <input type="checkbox"/> | <input type="checkbox"/> | | <input type="checkbox"/> | <input type="checkbox"/> | <input type="checkbox"/> | <input type="checkbox"/> |
| 18 | A | B | C | D | 38 | A | B | C | D |
| | <input type="checkbox"/> | <input type="checkbox"/> | <input type="checkbox"/> | <input type="checkbox"/> | | <input type="checkbox"/> | <input type="checkbox"/> | <input type="checkbox"/> | <input type="checkbox"/> |
| 19 | A | B | C | D | 39 | A | B | C | D |
| | <input type="checkbox"/> | <input type="checkbox"/> | <input type="checkbox"/> | <input type="checkbox"/> | | <input type="checkbox"/> | <input type="checkbox"/> | <input type="checkbox"/> | <input type="checkbox"/> |
| 20 | A | B | C | D | 40 | A | B | C | D |
| | <input type="checkbox"/> | <input type="checkbox"/> | <input type="checkbox"/> | <input type="checkbox"/> | | <input type="checkbox"/> | <input type="checkbox"/> | <input type="checkbox"/> | <input type="checkbox"/> |

AO TRANSFERIR ESSAS MARCAÇÕES PARA A FOLHA DE RESPOSTAS,
OBSERVE AS INSTRUÇÕES ESPECÍFICAS DADAS NA CAPA DA PROVA.

USE CANETA ESFEROGRÁFICA AZUL OU PRETA.



Segundo a Lei nº 9.610/1998, reproduções de natureza não pedagógicas das questões desta prova estão proibidas.

TÉCNICO EM ENFERMAGEM

Código: 209

ABRA APENAS QUANDO AUTORIZADO.

Leia com atenção as seguintes instruções:

- Este caderno contém as **40 questões** da Prova Objetiva, composta por: 10 questões de Língua Portuguesa, 5 questões de Informática Básica, 10 questões de Legislação, e 15 questões de Conhecimentos Específicos.
Caso haja algum problema em seu caderno de provas, informe ao aplicador de provas.
- As informações / instruções dadas no dia da prova complementam o edital.
- Durante as provas, não é permitido o uso de dispositivos eletrônicos de qualquer tipo e celulares, assim como relógios e materiais de consulta.
- Use a Folha de Respostas (versão do candidato) reproduzida no final do Caderno de Provas apenas para marcar seu Gabarito. Esse rascunho somente poderá ser destacado pelo aplicador de provas.
- Na **Folha de Respostas**:
 - Confira seu nome, número de inscrição e cargo.
 - Assine, A TINTA, no espaço próprio indicado.
 - Transcreva a seguinte frase, com sua caligrafia usual, mantendo as letras maiúsculas e minúsculas, desconsiderando aspas e autoria:
- A Folha de Respostas deve ser assinada e não deve ser dobrada, amassada ou rasurada.
- Ao transferir as respostas para a Folha de Respostas:
 - Use somente caneta AZUL ou PRETA, preenchendo toda a área reservada à letra correspondente à resposta solicitada em cada questão, conforme o modelo:

| | | | | |
|----|-------------------------------------|--------------------------|--------------------------|--------------------------|
| 01 | A | B | C | D |
| | <input checked="" type="checkbox"/> | <input type="checkbox"/> | <input type="checkbox"/> | <input type="checkbox"/> |
 - Assinale somente uma alternativa em cada questão e não deixe nenhuma questão sem resposta.
- Sua prova e Folha de Respostas poderão ser entregues somente após o término do período de sigilo: 1 hora.
- Sua resposta **NÃO** será computada se houver marcação de mais de uma alternativa, questões não assinaladas ou rasuradas.
- Ao entregar sua prova, recolha seus objetos, deixe a sala de provas e, em seguida, o prédio. Até deixar as dependências do local de prova, continuam válidas as proibições do uso de aparelhos eletrônicos e celulares, bem como não lhe é mais permitido o uso dos sanitários.
- O Caderno de Questões da Prova Objetiva e os gabaritos serão divulgados no endereço eletrônico www.gestaodeconcursos.com.br, no dia subsequente à data da prova.

“Perder-se também é caminho.”

Clarice Lispector

**DURAÇÃO TOTAL DAS PROVAS,
INCLUINDO TRANSCRIÇÃO DA
FOLHA DE RESPOSTAS:
QUATRO HORAS**

Escreva seu nome completo de forma legível.

NOME: _____

INSTRUÇÃO: Leia o texto a seguir para responder às questões 1 e 2.

Glamorizar o passado é se deixar enganar

Prefiro a caneta ao teclado — apesar da minha letra, que às vezes nem eu entendo —, o papel à tela, o livro físico ao digital. Não é saudosismo e muito menos uma vilanização dos avanços tecnológicos, que ao mesmo tempo são uma bênção e uma maldição. Não glamorizo o passado como sendo melhor: o melhor vive na nossa imaginação [...].

Mantenho o melhor de antes — que gravei no meu HD apertando o rec e o play — e aproveito o melhor de hoje. O que posso escolher escolho, dentro de uma lista nada coerente entre o antigo e o novo, com a vantagem de carregar comigo o passado. A nossa história é um caminho irreversível, saber viver o presente é o melhor dos mundos.

KORICH, Becky S. Glamorizar o passado é se deixar enganar. **Folha de S.Paulo**. Colunas, 11 set. 2023. Disponível em: <https://www1.folha.uol.com.br/colunas/becky-korich/2023/09/glamorizar-o-passado-e-se-deixar-enganar.shtml>. Acesso em: 11 set. 2023. [Fragmento]

QUESTÃO 1

De acordo com as informações apresentadas, pode-se inferir que, para a autora,

- A) o passado apresentava condições melhores que o futuro, que é desesperançoso.
- B) o presente supera o passado devido aos avanços tecnológicos que se apresentam.
- C) o antigo e o novo convivem juntos, e ela aproveita o que há de melhor de cada um.
- D) o saudosismo do passado é o que alimenta a busca por saber viver bem o presente.

QUESTÃO 2

Releia este trecho.

“Não **glamorizo** o passado como sendo melhor: o melhor vive na nossa imaginação [...]”.

O termo em destaque nesse fragmento indica que a autora

- A) não atribui ao passado valor excessivo, mais atraente que o presente.
- B) desconsidera o passado como sendo importante para o futuro.
- C) ignora que o passado foi a melhor época da sua vida.
- D) apaga as lembranças positivas em suas memórias.

QUESTÃO 3

Gaúcho resgatou mais de 100 pessoas de enchente com pequeno barco: ‘fiquei 23 horas em cima do rio’

Mais de 100 pessoas foram salvas por apenas um homem durante a tragédia que atingiu o Vale do Taquari, no Rio Grande do Sul, no começo da semana passada. Com um pequeno barco, o gaúcho Sérgio Benini, morador de Roca Sales, conseguiu resgatar vários vizinhos da enchente que atingiu a cidade, uma das mais afetadas.

“Eu fiquei 23 horas em cima do rio. Nós arrancamos o telhado à mão. As pessoas subiam no segundo piso, no forro embaixo do telhado, porque estava chovendo. E lá eles só gritavam socorro, socorro, socorro”, relembrou ele ao Fantástico.

[...] Conforme a água foi ganhando força pelas ruas da cidade, começaram os pedidos por ajuda. Das janelas, moradores começaram a registrar a força da água.

PORTAL G1. Gaúcho resgatou mais de 100 pessoas de enchente com pequeno barco: ‘fiquei 23 horas em cima do rio’. **Portal G1**. Disponível em: <https://g1.globo.com/fantastico/noticia/2023/09/11/gaucho-resgatou-mais-de-100-pessoas-de-enchente-com-pequeno-barco-fiquei-23-horas-em-cima-do-rio.ghhtml>. Acesso em: 11 set. 2023. [Fragmento]

As diferentes funções da linguagem atendem a propósitos específicos da comunicação. Considerando o texto, a função da linguagem a ele associada é aquela que

- A) valoriza a figura de heróis modernos, reais, sendo classificada como poética.
- B) transmite informações com foco no assunto, classificando-se como referencial.
- C) busca convencer o leitor sobre um posicionamento, sendo chamada de apelativa.
- D) estabelece um diálogo indireto com o leitor do texto, sendo classificada como fática.

QUESTÃO 4

Paz e guerra

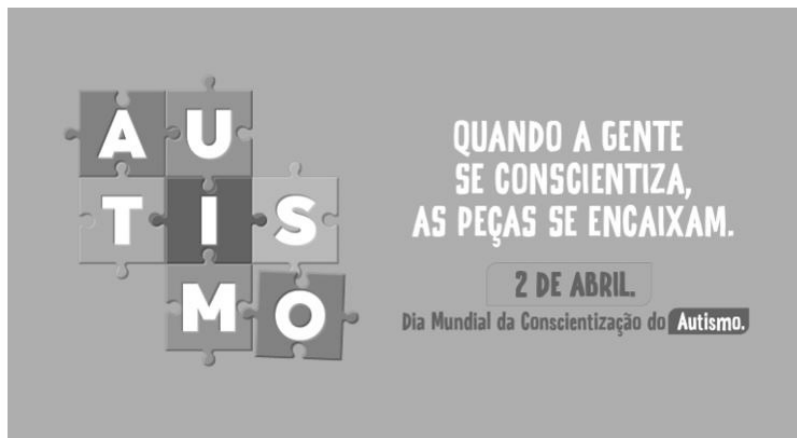
Eu estava atrasado para a guerra; tive de tomar um táxi. Uma contrariedade: com o recente aumento do preço da corrida, aquilo era uma despesa imprevista e inoportuna, um abalo em meu orçamento. Contudo, cheguei justo a tempo de marcar o ponto, evitando assim transtornos maiores.

SCLIAR, Moacyr. Paz e guerra. *In*: **Conto Brasileiro**. Disponível em: <https://contobrasileiro.com.br/paz-e-guerra-conto-de-moacyr-scliar/>. Acesso em: 6 set. 2023. [Fragmento]

Nesse conto de Moacyr Scliar, o sinal de dois-pontos tem a função de introduzir uma

- A) advertência.
- B) dúvida.
- C) explicação.
- D) enumeração.

QUESTÃO 5




Disponível em: <https://prefeitura.pbh.gov.br/noticias/bh-promove-campanha-e-acoes-de-visibilidade-no-mes-de-conscientizacao-do-autismo>. Acesso em: 7 set. 2023.

Tendo em vista os elementos verbais e não verbais do cartaz, infere-se que seu objetivo é

- A) incentivar a busca de tratamento para pessoas diagnosticadas com transtorno do espectro autista.
- B) promover a visibilidade e a inclusão de pessoas com transtorno do espectro autista na sociedade.
- C) sugerir a definição de uma data para celebrar a inclusão de pessoas com autismo no meio social.
- D) defender a luta por maior visibilidade das pessoas com autismo nos ambientes governamentais.

QUESTÃO 6



Disponível em: <https://tirasarmandinho.tumblr.com>. Acesso em: 6 set. 2023.

Na construção da tirinha, foi usada linguagem

- A) corporal, pois o personagem utiliza todas as partes do corpo para parabenizar a mulher em uma data comemorativa.
- B) simbólica, pois as flores representam um objeto de desejo feminino, reproduzindo uma visão superficial das mulheres.
- C) verbo-visual, pois o texto escrito está em elipse, sendo inferido pelo contexto em que os personagens estão inseridos.
- D) visual, pois a mensagem comunicativa pode ser compreendida mesmo sem uso de palavras, mas apenas de imagens.

QUESTÃO 7

Podemos alimentar o discurso de ódio sem perceber

As redes sociais se tornam convenientes para quem produz falas discriminatórias e intolerantes porque elas conseguem interpretar o comportamento dos usuários, recomendando automaticamente conteúdos alinhados com os interesses deles. As redes criam, portanto, uma audiência para oradores de discursos de ódio que normalmente teriam pouco alcance.

Ocorre que, também por essa razão, as mesmas ações que contribuem para a propagação de um vídeo, foto ou meme, como as curtidas e compartilhamentos, colaboram para disseminar essas mensagens problemáticas. Entender isso é importante para evitarmos propagar o discurso que queremos combater.

Explico: por causa de como as plataformas funcionam, quanto mais interagirmos com a postagem problemática, maior será a audiência atingida por ela e mais perigosa esta mensagem será. Isso acontece mesmo quando compartilhamos uma manifestação de ódio como forma de denúncia ou publicamos um comentário criticando o conteúdo.

[...]

Infelizmente, mesmo com boas intenções e sem perceber, podemos acabar ajudando a disseminar posts que depreciam pessoas por sua etnia, gênero, orientação sexual ou outro marcador social. Isso é profundamente perigoso, pois quanto mais pessoas são alcançadas e têm suas opiniões formadas por discursos de ódio, mais provável se torna que algumas delas pratiquem atos concretos de discriminação e violência contra minorias sociais e grupos vulneráveis.

SALVADOR, J. P. F. Podemos alimentar o discurso de ódio sem perceber. **Hoje em Dia**. Opinião, 18 out. 2023. Disponível em: <https://www.hojeemdia.com.br/opiniao/opiniao/podemos-alimentar-o-discurso-de-odio-sem-perceber-1.984113>. Acesso em: 23 out. 2023. [Fragmento]

Em seu texto, o autor argumenta que

- A) ter cuidado com conteúdos consumidos e compartilhados nas redes sociais é uma forma de evitar a disseminação de discursos de ódio.
- B) alimentar a disseminação de discursos de ódio é um dos objetivos das plataformas de redes sociais, devido ao engajamento.
- C) acabar com os discursos de ódio nas redes sociais requer que os usuários façam comentários negativos nos posts.
- D) disseminar discursos de ódio nas redes sociais é uma característica dos produtores de conteúdo que têm pouco alcance.

QUESTÃO 8

Codinome Beija-flor

Pra que mentir
Fingir que perdoou
Tentar ficar amigos sem rancor
A emoção acabou
Que coincidência é o amor
A nossa música nunca mais tocou

Pra que usar de tanta educação
Pra destilar terceiras intenções
Desperdiçando o meu mel
Devagarzinho, flor em flor
Entre os meus inimigos, beija-flor

CAZUZA. Codinome Beija-flor. In: **Vagalume**. Disponível em: <https://www.vagalume.com.br/cazuza/codinome-beija-flor.html>. Acesso em: 6 set. 2023. [Fragmento]

As palavras podem ser formadas por diferentes processos. Um deles é a composição por justaposição, em que dois termos são unidos um ao outro, sem perda de seus elementos.

Na canção de Cazuzza, ocorre justaposição na formação da palavra

- A) destilar.
- B) inimigos.
- C) devagarzinho.
- D) beija-flor.

QUESTÃO 9

A disciplina do amor

Foi na França, durante a Segunda Grande Guerra: um jovem tinha um cachorro que todos os dias, pontualmente, ia esperá-lo voltar do trabalho. Postava-se na esquina, um pouco antes das seis da tarde. Assim que via o dono, ia correndo ao seu encontro e na maior alegria acompanhava-o com seu passinho **saltitante** de volta à casa. A vila inteira já conhecia o cachorro e as pessoas que passavam faziam-lhe festinhas e ele correspondia, chegava até a correr todo animado atrás dos mais íntimos. Para logo voltar atento ao seu posto e ali ficar sentado até o momento em que seu dono apontava lá longe.

TELLES, Lygia Fagundes. A disciplina do amor. In: **Conto Brasileiro**. Disponível em: <https://contobrasileiro.com.br/a-disciplina-do-amor-conto-de-lygia-fagundes-telles/>. Acesso em: 6 set. 2023. [Fragmento]

Assinale a alternativa em que o termo destacado pertença, no contexto, à mesma classe de palavras daquela em destaque no texto.

- A) “Foi na França, durante a Segunda **Grande** guerra [...]”.
- B) “Assim que via o dono, ia correndo ao seu **encontro** [...]”.
- C) “[...] até o momento em que seu **dono** apontava lá longe.”
- D) “Postava-se na esquina, um **pouco** antes das seis da tarde.”

QUESTÃO 10

Escola em tempo integral para uma educação integral

O Brasil é um dos países mais desiguais do mundo, tanto na área econômica como na social, e continuará sendo enquanto a oferta da educação de qualidade permanecer desigual. Sem oportunidades iguais de acesso a um ensino de qualidade para todas as crianças e adolescentes, jamais ultrapassaremos os umbrais da mediocridade. Por isso, termos as escolas funcionando em período estendido é uma das poucas quase-unanidades, como demonstram diversas pesquisas.

VENTURI, Jacir. Escola em tempo integral para uma educação integral. **Gazeta do povo**. Opinião, 31 ago. 2023. Disponível em: <https://www.gazetadopovo.com.br/opiniaio/artigos/escola-em-tempo-integral-para-uma-educacao-integral/>. Acesso em: 6 set. 2023. [Fragmento]

No texto, observa-se o sentido conotativo em:

- A) “Umbrais da mediocridade”, que indica uma limitação do Brasil no avanço da qualidade do ensino escolar.
- B) “Ensino de qualidade”, que alude às escolas particulares, às quais a maior parte da população não tem acesso.
- C) “Diversas pesquisas”, que indefine propositadamente as pesquisas, evidenciando ausência de embasamento.
- D) “Oportunidades iguais”, que ironiza o fato de que a igualdade da educação no Brasil não é possível para a grande massa.

INFORMÁTICA BÁSICA

QUESTÃO 11

A impressão de apresentações é uma etapa importante na comunicação de informações por meio do Microsoft PowerPoint. Analise as afirmativas a seguir, relacionadas à impressão de apresentações no Microsoft PowerPoint para office 365.

- I. A opção de imprimir *slides* selecionados permite selecionar partes de cada *slide* a ser impresso.
- II. Pode-se selecionar a impressão de um intervalo de *slides*, como imprimir todos os *slides*, exceto a capa da apresentação.
- III. A opção de anotações do apresentador permite imprimir a apresentação juntamente com as anotações feitas pelo elaborador da apresentação.

Estão corretas as afirmativas

- A) I e II, apenas.
- B) I e III, apenas.
- C) II e III, apenas.
- D) I, II e III.

QUESTÃO 12

Tendo em vista os tipos de gráficos disponíveis no Microsoft Excel para office 365, numere a COLUNA II de acordo com a COLUNA I, associando os conceitos aos tipos de gráficos correspondentes.

COLUNA I

- 1. Gráfico de pizza
- 2. Gráfico de linhas

COLUNA II

- () Mostram o tamanho dos itens, em um série de dados, proporcional à soma desses itens.
- () Podem mostrar dados contínuos ao longo do tempo em um eixo com escalas iguais e, portanto, são ideais para mostrar tendências de dados em intervalos iguais, como meses, trimestres ou anos fiscais.
- () Pontos de dados deste gráfico são exibidos como uma porcentagem do total de dados.

Assinale a sequência correta.

- A) 2 1 2
- B) 1 2 1
- C) 1 1 2
- D) 2 2 1

QUESTÃO 13

O sistema operacional Windows 10 oferece uma variedade de configurações que podem ser personalizadas por meio do Painel de Controle. Analise as afirmativas a seguir, relacionadas às configurações básicas do Windows 10.

- I. No Painel de Controle, o usuário pode personalizar as configurações de rede no Windows 10, como a configuração de uma conexão Wi-Fi.
- II. No Painel de Controle, é possível alterar a resolução da tela, ajustar as configurações de vídeo e gerenciar dispositivos de impressão conectados ao computador.
- III. O Painel de Controle é o local principal para a instalação e a remoção de programas e aplicativos no Windows 10.

Estão corretas as afirmativas

- A) I e II, apenas.
- B) I e III, apenas.
- C) II e III, apenas.
- D) I, II e III.

QUESTÃO 14

Existem muitos tipos de ataques a redes, cada um visando a explorar vulnerabilidades específicas para comprometer a segurança da rede.

O ataque que visa a sobrecarregar um servidor ou rede com um volume massivo de tráfego, tornando-o inacessível para os usuários legítimos, é chamado de

- A) Ataque de Envenenamento de ARP.
- B) Ataque de Negação de Serviço (DDoS).
- C) Ataque de *Phishing*.
- D) Ataque de Força Bruta.

QUESTÃO 15

A internet é uma rede global que conecta bilhões de dispositivos em todo o mundo, permitindo a troca de informações e recursos.

Com relação às noções básicas de internet, assinale a alternativa correta.

- A) A internet é uma rede de computadores exclusiva para uso governamental e militar.
- B) HTTP é um protocolo de segurança usado para criptografar todas as comunicações na internet, garantindo a privacidade de todos os usuários.
- C) Um endereço IP (Internet Protocol) é um identificador exclusivo atribuído a um dispositivo conectado à internet para facilitar a comunicação e a identificação na rede.
- D) A World Wide Web (WWW) também pode ser chamada de internet.

LEGISLAÇÃO

QUESTÃO 16

Em relação aos direitos e deveres individuais e coletivos previstos na Constituição da República Federativa do Brasil de 1988, assinale a alternativa incorreta.

- A) É assegurada, mediante o pagamento de taxa, a obtenção de certidões em repartições públicas para defesa de direitos.
- B) As entidades associativas, quando expressamente autorizadas, têm legitimidade para representar seus filiados judicial ou extrajudicialmente.
- C) É livre a expressão da atividade intelectual, artística, científica e de comunicação, independentemente de censura ou licença.
- D) A pena será cumprida em estabelecimentos distintos, de acordo com a natureza do delito, a idade e o sexo do apenado.

QUESTÃO 17

Sobre as vedações ao servidor público, previstas no Decreto nº 1.171, de 22 de junho de 1994, que aprova o Código de Ética Profissional do Servidor Público Civil do Poder Executivo Federal, analise as afirmativas a seguir.

- I. É vedado ao servidor exercer atividade profissional aética ou ligar o seu nome a empreendimentos de cunho duvidoso.
- II. É vedado ao servidor público retirar da repartição pública livro ou bem pertencente ao patrimônio público, salvo se for autorizado pelo superior hierárquico.
- III. É vedado ao servidor público embriagar-se, ainda que esporadicamente.

Está(ão) correta(s) a(s) afirmativa(s)

- A) I, apenas.
- B) II, apenas.
- C) I e II, apenas.
- D) I, II e III.

QUESTÃO 18

O credenciamento, de acordo com as previsões da Lei nº 14.133, de 1º de abril de 2021, conhecida como Lei de Licitações e Contratos Administrativos, poderá ser usado na seguinte hipótese de contratação:

- A) Paralela e excludente
- B) Com seleção a critério de terceiros
- C) Em mercados sem flutuação
- D) De particular para provimento de atividade do Poder Público

QUESTÃO 19

Conforme disposto na Lei nº 13.709, de 14 de agosto de 2018, conhecida como Lei Geral de Proteção de Dados Pessoais (LGPD), o término do tratamento de dados pessoais ocorrerá nas seguintes hipóteses, exceto:

- A) Verificação de que a finalidade foi alcançada
- B) Cumprimento de obrigação legal ou regulatória pelo controlador
- C) Fim do período de tratamento
- D) Determinação da autoridade nacional, quando houver violação ao disposto na LGPD

QUESTÃO 20

De acordo com a Lei nº 12.527, de 18 de novembro de 2011, conhecida como Lei de Acesso à Informação, não constitui conduta ilícita que enseja responsabilidade do agente público ou militar:

- A) Impor sigilo à informação para obter proveito pessoal ou de terceiro, ou para fins de ocultação de ato ilegal cometido por si ou por outrem
- B) Ocultar da revisão de autoridade superior competente informação sigilosa para beneficiar a si ou a outrem, ou em prejuízo de terceiros
- C) Destruir ou subtrair, por qualquer meio, documentos concernentes a possíveis violações de direitos humanos por parte de agentes do Estado
- D) Agir com negligência ou imprudência na análise das solicitações de acesso à informação

QUESTÃO 21

Segundo a Lei nº 8.112, de 11 de dezembro de 1990, que dispõe sobre o regime jurídico dos servidores públicos civis da União, das autarquias e das fundações públicas federais, não é uma forma de provimento de cargo público a

- A) ascensão.
- B) recondução.
- C) reversão.
- D) promoção.

QUESTÃO 22

Segundo o Estatuto da Universidade Federal dos Vales do Jequitinhonha e Mucuri, não é uma competência do diretor da Unidade Acadêmica:

- A) Submeter à apreciação da Congregação o orçamento anual e as prioridades para aplicação dos recursos
- B) Estabelecer as normas de afastamento de docentes, para fins de capacitação e cooperação
- C) Planejar e gerir os recursos de pessoal, orçamentários, financeiros, materiais e patrimoniais sob sua responsabilidade
- D) Convocar e presidir as reuniões da Congregação, com voto comum e de qualidade

QUESTÃO 23

Sobre os currículos e as normas previstas no Estatuto da Universidade Federal dos Vales do Jequitinhonha e Mucuri, analise as afirmativas a seguir.

- I. Os conteúdos dos componentes curriculares relacionados às disciplinas serão especificados em ementas e programas, com carga horária e créditos pré-definidos.
- II. O Conselho de Curadores disporá sobre a criação, a organização, o funcionamento e a extinção dos cursos de graduação.
- III. Qualquer que seja a forma de admissão, deverá o discente, nas datas fixadas pelo calendário acadêmico, realizar seu registro, conforme especificado no edital do processo seletivo correspondente.

Está(ão) correta(s) a(s) afirmativa(s)

- A) I, apenas.
- B) II, apenas.
- C) I e III, apenas.
- D) I, II e III.

QUESTÃO 24

De acordo com o Regimento Geral da Universidade Federal dos Vales do Jequitinhonha e Mucuri, são órgãos das Unidades Acadêmicas, exceto:

- A) Congregação
- B) Diretoria
- C) Conselho universitário
- D) Colegiado de curso

QUESTÃO 25

Sobre as normas relativas ao funcionamento dos órgãos colegiados previstas no Regimento Geral da Universidade Federal dos Vales do Jequitinhonha e Mucuri, assinale com V as afirmativas verdadeiras e com F as falsas.

- () As reuniões dos colegiados serão convocadas pelo respectivo Presidente, com antecedência de 48 (quarenta e oito) horas para as reuniões ordinárias.
- () O comparecimento dos membros nas reuniões de órgãos colegiados é facultativo.
- () Serão consideradas aprovadas as propostas que obtiverem maioria simples de votos dos presentes, salvo disposição expressa no Estatuto ou no Regimento Geral.
- () Os representantes do corpo técnico-administrativo serão escolhidos pelos seus pares em processo organizado por eles ou pelas respectivas entidades representativas, por sufrágio secreto e universal.

Assinale a sequência correta.

- A) V V F V
- B) F F V V
- C) F F V F
- D) V V F F

TÉCNICO EM ENFERMAGEM**QUESTÃO 26**

Considere que um paciente foi admitido na unidade de cuidados de feridas apresentando uma ferida aberta na perna proveniente de queimadura. A ferida é rasa, com tecido de granulação e presença de bolhas.

Qual ação prioritária deve ser realizada pelo técnico em enfermagem na sala de curativos?

- A) Lavar a ferida com solução fisiológica a 0,9%.
- B) Aplicar uma pomada antibiótica na ferida.
- C) Romper as bolhas e cobrir a ferida com uma gaze estéril e esparadrapo.
- D) Coletar uma cultura da ferida para análise microbiológica.

QUESTÃO 27

Os sinais vitais são dados essenciais para o monitoramento da condição de saúde dos pacientes.

Sobre a frequência respiratória, analise as afirmativas a seguir.

- I. A frequência respiratória elevada é denominada taquicardia.
- II. A frequência respiratória adequada para um indivíduo adulto é de 12 a 20 respirações por minuto.
- III. O batimento de aletas de nariz é um sinal de insuficiência respiratória.
- IV. A frequência respiratória tende a baixar durante um pico febril.

Estão corretas as afirmativas

- A) I e II, apenas.
- B) II e III, apenas.
- C) III e IV, apenas.
- D) I e IV, apenas.

QUESTÃO 28

Considere que, em um local público, uma pessoa está sufocando, lutando para respirar e incapaz de falar.

Qual a ação de primeiros socorros mais apropriada a ser tomada imediatamente para ajudar a pessoa em perigo?

- A) Iniciar manobras de ressuscitação cardiopulmonar (RCP) imediatamente.
- B) Bater nas costas da pessoa para tentar desobstruir a via aérea.
- C) Realizar a manobra de Heimlich para tentar remover a obstrução das vias respiratórias.
- D) Dar água à pessoa para ajudá-la a engolir e forçar a obstrução para baixo.

QUESTÃO 29

Considere que um paciente com diabetes apresenta dificuldades de realizar o controle adequado da glicose no sangue. O paciente está em tratamento com insulina e monitoramento frequente da glicemia.

Analise os cuidados de enfermagem a seguir, fundamental(is) para adesão desse paciente ao tratamento.

- I. Administrar insulina de ação rápida no momento em que a glicemia estiver muito alta.
- II. Incentivar o paciente a consumir alimentos ricos em açúcar para evitar hipoglicemia.
- III. Monitorar a glicemia pelo menos antes do café da manhã e antes do jantar.
- IV. Avaliar a capacidade de autocuidado e de uso da insulina.

Estão corretos os cuidados

- A) I e II, apenas.
- B) II e III, apenas.
- C) III e IV, apenas.
- D) I e IV, apenas.

QUESTÃO 30

Considere que um paciente idoso e hipertenso comunica ao técnico de enfermagem que ocasionalmente se esquece de tomar os medicamentos prescritos.

Qual a ação mais apropriada a ser tomada diante desse cenário?

- I. Orientar o paciente a tomar os medicamentos no momento em que sentir os sintomas da hipertensão.
- II. Explicar ao paciente a necessidade de verificar a pressão diariamente, visto que ele não toma os medicamentos.
- III. Realizar uma revisão da adesão ao tratamento, identificar as barreiras à adesão e discutir estratégias para lembrar de tomar os medicamentos.
- IV. Orientar o paciente a reduzir o consumo de sal, perder peso e realizar atividades físicas.

Estão corretas as ações

- A) I e II, apenas.
- B) II e III, apenas.
- C) III e IV, apenas.
- D) I e IV, apenas.

QUESTÃO 31

Considere que um paciente chega ao pronto-socorro com uma condição que exige acesso venoso periférico para administração de medicamentos e fluidos.

Qual local a seguir é considerado a escolha apropriada para a inserção de uma linha venosa periférica em adultos?

- A) Dorso da mão dominante, veia de calibre menor.
- B) Fossa cubital, veia de grande calibre.
- C) Pescoço, veia de grande calibre.
- D) Antebraço, veias na porção mais distal.

QUESTÃO 32

Considere que o calendário de vacinação de uma criança de 2 (dois) anos está atrasado, e ela ainda não recebeu a vacina tríplice viral recomendada para 12 (doze) meses. A mãe relata estar preocupada com os possíveis efeitos colaterais da tríplice viral.

Qual a melhor abordagem do técnico de enfermagem para atualizar o calendário?

- A) Dizer à mãe que os efeitos colaterais das vacinas são raros, principalmente na tríplice viral, pois trata-se de uma vacina que apresenta adjuvante de hidróxido de alumínio, o que protege o organismo.
- B) Explicar a importância da vacinação e comentar que essa vacina deve ser administrada via intramuscular no glúteo, o que diminui riscos de efeitos colaterais.
- C) Orientar sobre a necessidade de vacinar a criança contra a difteria, tétano e coqueluche, pois são doenças que podem acometer o ser humano inclusive na idade adulta.
- D) Fornecer informações sobre a segurança das vacinas e sobre a questão epidemiológica relacionada ao retorno do sarampo.

QUESTÃO 33

Considere que uma mulher de 40 anos de idade, sem histórico familiar de câncer de mama, procura um profissional de saúde para discutir estratégias de prevenção do câncer de mama e colo de útero. Ela está preocupada com o risco de desenvolver a doença.

Analise as recomendações a seguir para a prevenção do câncer de mama e colo de útero.

- I. Orientar a mulher que aquelas que apresentam vida sexual ativa e ultrapassaram 25 (vinte e cinco) anos devem realizar o exame citopatológico e de mamas, agendando consulta com a enfermeira.
- II. Agendar consulta médica para iniciar imediatamente a terapia de reposição hormonal para estabilizar os níveis hormonais.
- III. Indicar mamografias de rotina a cada 5 (cinco) anos e exame citopatológico de rotina a cada 3 (três) anos.
- IV. Orientar a adoção de um estilo de vida saudável, incluindo dieta equilibrada, atividade física regular e evitar o consumo excessivo de álcool.

Estão corretas as recomendações

- A) I e II, apenas.
- B) II e III, apenas.
- C) III e IV, apenas.
- D) I e IV, apenas.

QUESTÃO 34

Feridas crônicas e agudas são acometimentos recorrentes, e suas avaliações, diagnósticos e tratamentos são realizados pela equipe de enfermagem.

Sobre as feridas crônicas e agudas, assinale a alternativa correta.

- A) Feridas crônicas geralmente cicatrizam mais rapidamente do que feridas agudas.
- B) Feridas agudas são caracterizadas por inflamação prolongada, enquanto feridas crônicas têm um processo inflamatório breve.
- C) Uma ferida aguda pode se desenvolver e se tornar uma ferida crônica quando associada a outras condições clínicas.
- D) Feridas crônicas são frequentemente causadas por trauma, enquanto feridas agudas são causadas por condições de saúde subjacentes.

QUESTÃO 35

Na cultura de segurança do paciente, como se denomina o evento ou a circunstância que poderia ter resultado ou resultou em dano desnecessário à saúde?

- A) Segurança do paciente.
- B) Incidente.
- C) Evento adverso.
- D) Gestão de risco.

QUESTÃO 36

De acordo com a lei do exercício profissional da enfermagem, qual das relações entre técnicos de enfermagem e enfermeiros é apropriada em uma equipe de assistência à saúde?

- A) Supervisionar os técnicos de enfermagem durante os cuidados diretos de enfermagem com pacientes graves com risco de vida.
- B) Permitir que os técnicos de enfermagem realizem a consulta de enfermagem quando o próprio enfermeiro não estiver presente.
- C) Fornecer orientações e supervisão adequada durante a sistematização da assistência de enfermagem.
- D) Evitar que os técnicos de enfermagem observem, reconheçam e descrevam sinais e sintomas durante a assistência de enfermagem.

QUESTÃO 37

Durante o tratamento ambulatorial, uma pessoa diagnosticada com dengue começa a desenvolver sintomas mais graves da doença.

Quais são as complicações potencialmente graves da dengue?

- A) Paralisia muscular.
- B) Náuseas e vômitos.
- C) Insuficiência respiratória e pneumonia.
- D) Sangramento grave e choque.

QUESTÃO 38

Qual das ações a seguir é fundamental para se garantir uma administração injetável via intramuscular segura e eficaz?

- A) Inserir a agulha a 90 graus de maneira que ela esteja de acordo com o desenho anatômico das fibras musculares.
- B) Escolher qualquer músculo disponível para a administração da injeção, desde que esteja na região recomendada.
- C) Injetar o medicamento rapidamente para minimizar o desconforto do paciente.
- D) Utilizar uma agulha curta para minimizar o risco de lesão do músculo.

QUESTÃO 39

Considere que um técnico de enfermagem precisa administrar um medicamento endovenoso que é fornecido em um frasco-ampola de 2 ml com uma concentração de 20 mg/ml. A prescrição médica indica que o paciente deve receber uma dose de 80 mg do medicamento.

Qual é o volume a ser aplicado e a quantidade de ampolas necessárias para administração correta, nesse caso?

- A) 1 ml e 1 ampola.
- B) 2 ml e 1 ampola.
- C) 4 ml e 2 ampolas.
- D) 6 ml e 3 ampolas.

QUESTÃO 40

As infecções relacionadas à assistência à saúde são complicações devido ao cuidado ou manipulação de pacientes.

A melhor representação dos sinais gerais de infecção é

- A) diarreia, vômitos e icterícia.
- B) coceira, hiperemia e alopecia.
- C) hipertermia, hipotensão e prostração.
- D) dor, perda de peso e hipertensão.

FOLHA DE RESPOSTAS (VERSÃO DO CANDIDATO)

| | | | | | | | | | |
|----|--------------------------|--------------------------|--------------------------|--------------------------|----|--------------------------|--------------------------|--------------------------|--------------------------|
| 1 | A | B | C | D | 21 | A | B | C | D |
| | <input type="checkbox"/> | <input type="checkbox"/> | <input type="checkbox"/> | <input type="checkbox"/> | | <input type="checkbox"/> | <input type="checkbox"/> | <input type="checkbox"/> | <input type="checkbox"/> |
| 2 | A | B | C | D | 22 | A | B | C | D |
| | <input type="checkbox"/> | <input type="checkbox"/> | <input type="checkbox"/> | <input type="checkbox"/> | | <input type="checkbox"/> | <input type="checkbox"/> | <input type="checkbox"/> | <input type="checkbox"/> |
| 3 | A | B | C | D | 23 | A | B | C | D |
| | <input type="checkbox"/> | <input type="checkbox"/> | <input type="checkbox"/> | <input type="checkbox"/> | | <input type="checkbox"/> | <input type="checkbox"/> | <input type="checkbox"/> | <input type="checkbox"/> |
| 4 | A | B | C | D | 24 | A | B | C | D |
| | <input type="checkbox"/> | <input type="checkbox"/> | <input type="checkbox"/> | <input type="checkbox"/> | | <input type="checkbox"/> | <input type="checkbox"/> | <input type="checkbox"/> | <input type="checkbox"/> |
| 5 | A | B | C | D | 25 | A | B | C | D |
| | <input type="checkbox"/> | <input type="checkbox"/> | <input type="checkbox"/> | <input type="checkbox"/> | | <input type="checkbox"/> | <input type="checkbox"/> | <input type="checkbox"/> | <input type="checkbox"/> |
| 6 | A | B | C | D | 26 | A | B | C | D |
| | <input type="checkbox"/> | <input type="checkbox"/> | <input type="checkbox"/> | <input type="checkbox"/> | | <input type="checkbox"/> | <input type="checkbox"/> | <input type="checkbox"/> | <input type="checkbox"/> |
| 7 | A | B | C | D | 27 | A | B | C | D |
| | <input type="checkbox"/> | <input type="checkbox"/> | <input type="checkbox"/> | <input type="checkbox"/> | | <input type="checkbox"/> | <input type="checkbox"/> | <input type="checkbox"/> | <input type="checkbox"/> |
| 8 | A | B | C | D | 28 | A | B | C | D |
| | <input type="checkbox"/> | <input type="checkbox"/> | <input type="checkbox"/> | <input type="checkbox"/> | | <input type="checkbox"/> | <input type="checkbox"/> | <input type="checkbox"/> | <input type="checkbox"/> |
| 9 | A | B | C | D | 29 | A | B | C | D |
| | <input type="checkbox"/> | <input type="checkbox"/> | <input type="checkbox"/> | <input type="checkbox"/> | | <input type="checkbox"/> | <input type="checkbox"/> | <input type="checkbox"/> | <input type="checkbox"/> |
| 10 | A | B | C | D | 30 | A | B | C | D |
| | <input type="checkbox"/> | <input type="checkbox"/> | <input type="checkbox"/> | <input type="checkbox"/> | | <input type="checkbox"/> | <input type="checkbox"/> | <input type="checkbox"/> | <input type="checkbox"/> |
| 11 | A | B | C | D | 31 | A | B | C | D |
| | <input type="checkbox"/> | <input type="checkbox"/> | <input type="checkbox"/> | <input type="checkbox"/> | | <input type="checkbox"/> | <input type="checkbox"/> | <input type="checkbox"/> | <input type="checkbox"/> |
| 12 | A | B | C | D | 32 | A | B | C | D |
| | <input type="checkbox"/> | <input type="checkbox"/> | <input type="checkbox"/> | <input type="checkbox"/> | | <input type="checkbox"/> | <input type="checkbox"/> | <input type="checkbox"/> | <input type="checkbox"/> |
| 13 | A | B | C | D | 33 | A | B | C | D |
| | <input type="checkbox"/> | <input type="checkbox"/> | <input type="checkbox"/> | <input type="checkbox"/> | | <input type="checkbox"/> | <input type="checkbox"/> | <input type="checkbox"/> | <input type="checkbox"/> |
| 14 | A | B | C | D | 34 | A | B | C | D |
| | <input type="checkbox"/> | <input type="checkbox"/> | <input type="checkbox"/> | <input type="checkbox"/> | | <input type="checkbox"/> | <input type="checkbox"/> | <input type="checkbox"/> | <input type="checkbox"/> |
| 15 | A | B | C | D | 35 | A | B | C | D |
| | <input type="checkbox"/> | <input type="checkbox"/> | <input type="checkbox"/> | <input type="checkbox"/> | | <input type="checkbox"/> | <input type="checkbox"/> | <input type="checkbox"/> | <input type="checkbox"/> |
| 16 | A | B | C | D | 36 | A | B | C | D |
| | <input type="checkbox"/> | <input type="checkbox"/> | <input type="checkbox"/> | <input type="checkbox"/> | | <input type="checkbox"/> | <input type="checkbox"/> | <input type="checkbox"/> | <input type="checkbox"/> |
| 17 | A | B | C | D | 37 | A | B | C | D |
| | <input type="checkbox"/> | <input type="checkbox"/> | <input type="checkbox"/> | <input type="checkbox"/> | | <input type="checkbox"/> | <input type="checkbox"/> | <input type="checkbox"/> | <input type="checkbox"/> |
| 18 | A | B | C | D | 38 | A | B | C | D |
| | <input type="checkbox"/> | <input type="checkbox"/> | <input type="checkbox"/> | <input type="checkbox"/> | | <input type="checkbox"/> | <input type="checkbox"/> | <input type="checkbox"/> | <input type="checkbox"/> |
| 19 | A | B | C | D | 39 | A | B | C | D |
| | <input type="checkbox"/> | <input type="checkbox"/> | <input type="checkbox"/> | <input type="checkbox"/> | | <input type="checkbox"/> | <input type="checkbox"/> | <input type="checkbox"/> | <input type="checkbox"/> |
| 20 | A | B | C | D | 40 | A | B | C | D |
| | <input type="checkbox"/> | <input type="checkbox"/> | <input type="checkbox"/> | <input type="checkbox"/> | | <input type="checkbox"/> | <input type="checkbox"/> | <input type="checkbox"/> | <input type="checkbox"/> |

AO TRANSFERIR ESSAS MARCAÇÕES PARA A FOLHA DE RESPOSTAS,
OBSERVE AS INSTRUÇÕES ESPECÍFICAS DADAS NA CAPA DA PROVA.

USE CANETA ESFEROGRÁFICA AZUL OU PRETA.



Segundo a Lei nº 9.610/1998, reproduções de natureza não pedagógicas das questões desta prova estão proibidas.

TÉCNICO EM TECNOLOGIA DA INFORMAÇÃO

Código: 210

ABRA APENAS QUANDO AUTORIZADO.

Leia com atenção as seguintes instruções:

1. Este caderno contém as **40 questões** da Prova Objetiva, composta por: 10 questões de Língua Portuguesa, 5 questões de Informática Básica, 10 questões de Legislação, e 15 questões de Conhecimentos Específicos.

Caso haja algum problema em seu caderno de provas, informe ao aplicador de provas.

2. As informações / instruções dadas no dia da prova complementam o edital.

3. Durante as provas, não é permitido o uso de dispositivos eletrônicos de qualquer tipo e celulares, assim como relógios e materiais de consulta.

4. Use a Folha de Respostas (versão do candidato) reproduzida no final do Caderno de Provas apenas para marcar seu Gabarito. Esse rascunho somente poderá ser destacado pelo aplicador de provas.

5. Na **Folha de Respostas**:

- Confira seu nome, número de inscrição e cargo.
- Assine, A TINTA, no espaço próprio indicado.
- Transcreva a seguinte frase, com sua caligrafia usual, mantendo as letras maiúsculas e minúsculas, desconsiderando aspas e autoria:

“Perder-se também é caminho.”

Clarice Lispector

6. A Folha de Respostas deve ser assinada e não deve ser dobrada, amassada ou rasurada.

Escreva seu nome completo de forma legível.

NOME: _____

7. Ao transferir as respostas para a Folha de Respostas:

- Use somente caneta AZUL ou PRETA, preenchendo toda a área reservada à letra correspondente à resposta solicitada em cada questão, conforme o modelo:

01 A B C D

- Assinale somente uma alternativa em cada questão e não deixe nenhuma questão sem resposta.

8. Sua prova e Folha de Respostas poderão ser entregues somente após o término do período de sigilo: 1 hora.

9. Sua resposta **NÃO** será computada se houver marcação de mais de uma alternativa, questões não assinaladas ou rasuradas.

10. Ao entregar sua prova, recolha seus objetos, deixe a sala de provas e, em seguida, o prédio. Até deixar as dependências do local de prova, continuam válidas as proibições do uso de aparelhos eletrônicos e celulares, bem como não lhe é mais permitido o uso dos sanitários.

11. O Caderno de Questões da Prova Objetiva e os gabaritos serão divulgados no endereço eletrônico www.gestaodeconcursos.com.br, no dia subseqüente à data da prova.

**DURAÇÃO TOTAL DAS PROVAS,
INCLUINDO TRANSCRIÇÃO DA
FOLHA DE RESPOSTAS:
QUATRO HORAS**

INSTRUÇÃO: Leia o texto a seguir para responder às questões 1 e 2.

Glamorizar o passado é se deixar enganar

Prefiro a caneta ao teclado — apesar da minha letra, que às vezes nem eu entendo —, o papel à tela, o livro físico ao digital. Não é saudosismo e muito menos uma vilanização dos avanços tecnológicos, que ao mesmo tempo são uma bênção e uma maldição. Não glamorizo o passado como sendo melhor: o melhor vive na nossa imaginação [...].

Mantenho o melhor de antes — que gravei no meu HD apertando o rec e o play — e aproveito o melhor de hoje. O que posso escolher escolho, dentro de uma lista nada coerente entre o antigo e o novo, com a vantagem de carregar comigo o passado. A nossa história é um caminho irreversível, saber viver o presente é o melhor dos mundos.

KORICH, Becky S. Glamorizar o passado é se deixar enganar. **Folha de S.Paulo**. Colunas, 11 set. 2023. Disponível em: <https://www1.folha.uol.com.br/colunas/becky-korich/2023/09/glamorizar-o-passado-e-se-deixar-enganar.shtml>. Acesso em: 11 set. 2023. [Fragmento]

QUESTÃO 1

De acordo com as informações apresentadas, pode-se inferir que, para a autora,

- A) o passado apresentava condições melhores que o futuro, que é desesperançoso.
- B) o presente supera o passado devido aos avanços tecnológicos que se apresentam.
- C) o antigo e o novo convivem juntos, e ela aproveita o que há de melhor de cada um.
- D) o saudosismo do passado é o que alimenta a busca por saber viver bem o presente.

QUESTÃO 2

Releia este trecho.

“Não **glamorizo** o passado como sendo melhor: o melhor vive na nossa imaginação [...]”.

O termo em destaque nesse fragmento indica que a autora

- A) não atribui ao passado valor excessivo, mais atraente que o presente.
- B) desconsidera o passado como sendo importante para o futuro.
- C) ignora que o passado foi a melhor época da sua vida.
- D) apaga as lembranças positivas em suas memórias.

QUESTÃO 3

Gaúcho resgatou mais de 100 pessoas de enchente com pequeno barco: ‘fiquei 23 horas em cima do rio’

Mais de 100 pessoas foram salvas por apenas um homem durante a tragédia que atingiu o Vale do Taquari, no Rio Grande do Sul, no começo da semana passada. Com um pequeno barco, o gaúcho Sérgio Benini, morador de Roca Sales, conseguiu resgatar vários vizinhos da enchente que atingiu a cidade, uma das mais afetadas.

“Eu fiquei 23 horas em cima do rio. Nós arrancamos o telhado à mão. As pessoas subiam no segundo piso, no forro embaixo do telhado, porque estava chovendo. E lá eles só gritavam socorro, socorro, socorro”, relembrou ele ao Fantástico.

[...] Conforme a água foi ganhando força pelas ruas da cidade, começaram os pedidos por ajuda. Das janelas, moradores começaram a registrar a força da água.

PORTAL G1. Gaúcho resgatou mais de 100 pessoas de enchente com pequeno barco: ‘fiquei 23 horas em cima do rio’. **Portal G1**. Disponível em: <https://g1.globo.com/fantastico/noticia/2023/09/11/gaucho-resgatou-mais-de-100-pessoas-de-enchente-com-pequeno-barco-fiquei-23-horas-em-cima-do-rio.ghtml>. Acesso em: 11 set. 2023. [Fragmento]

As diferentes funções da linguagem atendem a propósitos específicos da comunicação. Considerando o texto, a função da linguagem a ele associada é aquela que

- A) valoriza a figura de heróis modernos, reais, sendo classificada como poética.
- B) transmite informações com foco no assunto, classificando-se como referencial.
- C) busca convencer o leitor sobre um posicionamento, sendo chamada de apelativa.
- D) estabelece um diálogo indireto com o leitor do texto, sendo classificada como fática.

QUESTÃO 4

Paz e guerra

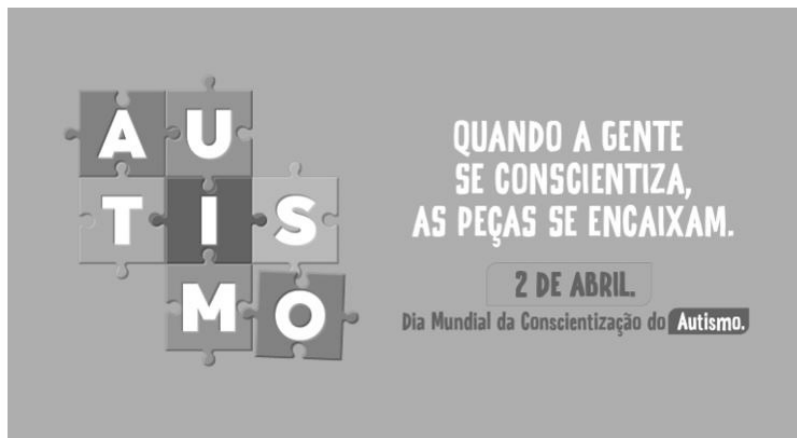
Eu estava atrasado para a guerra; tive de tomar um táxi. Uma contrariedade: com o recente aumento do preço da corrida, aquilo era uma despesa imprevista e inoportuna, um abalo em meu orçamento. Contudo, cheguei justo a tempo de marcar o ponto, evitando assim transtornos maiores.

SCLIAR, Moacyr. Paz e guerra. *In*: **Conto Brasileiro**. Disponível em: <https://contobrasileiro.com.br/paz-e-guerra-conto-de-moacyr-scliar/>. Acesso em: 6 set. 2023. [Fragmento]

Nesse conto de Moacyr Scliar, o sinal de dois-pontos tem a função de introduzir uma

- A) advertência.
- B) dúvida.
- C) explicação.
- D) enumeração.

QUESTÃO 5



Disponível em: <https://prefeitura.pbh.gov.br/noticias/bh-promove-campanha-e-acoes-de-visibilidade-no-mes-de-conscientizacao-do-autismo>. Acesso em: 7 set. 2023.

Tendo em vista os elementos verbais e não verbais do cartaz, infere-se que seu objetivo é

- A) incentivar a busca de tratamento para pessoas diagnosticadas com transtorno do espectro autista.
- B) promover a visibilidade e a inclusão de pessoas com transtorno do espectro autista na sociedade.
- C) sugerir a definição de uma data para celebrar a inclusão de pessoas com autismo no meio social.
- D) defender a luta por maior visibilidade das pessoas com autismo nos ambientes governamentais.

QUESTÃO 6



Disponível em: <https://tirasarmandinho.tumblr.com>. Acesso em: 6 set. 2023.

Na construção da tirinha, foi usada linguagem

- A) corporal, pois o personagem utiliza todas as partes do corpo para parabenizar a mulher em uma data comemorativa.
- B) simbólica, pois as flores representam um objeto de desejo feminino, reproduzindo uma visão superficial das mulheres.
- C) verbo-visual, pois o texto escrito está em elipse, sendo inferido pelo contexto em que os personagens estão inseridos.
- D) visual, pois a mensagem comunicativa pode ser compreendida mesmo sem uso de palavras, mas apenas de imagens.

QUESTÃO 7

Podemos alimentar o discurso de ódio sem perceber

As redes sociais se tornam convenientes para quem produz falas discriminatórias e intolerantes porque elas conseguem interpretar o comportamento dos usuários, recomendando automaticamente conteúdos alinhados com os interesses deles. As redes criam, portanto, uma audiência para oradores de discursos de ódio que normalmente teriam pouco alcance.

Ocorre que, também por essa razão, as mesmas ações que contribuem para a propagação de um vídeo, foto ou meme, como as curtidas e compartilhamentos, colaboram para disseminar essas mensagens problemáticas. Entender isso é importante para evitarmos propagar o discurso que queremos combater.

Explico: por causa de como as plataformas funcionam, quanto mais interagirmos com a postagem problemática, maior será a audiência atingida por ela e mais perigosa esta mensagem será. Isso acontece mesmo quando compartilhamos uma manifestação de ódio como forma de denúncia ou publicamos um comentário criticando o conteúdo.

[...]

Infelizmente, mesmo com boas intenções e sem perceber, podemos acabar ajudando a disseminar posts que depreciam pessoas por sua etnia, gênero, orientação sexual ou outro marcador social. Isso é profundamente perigoso, pois quanto mais pessoas são alcançadas e têm suas opiniões formadas por discursos de ódio, mais provável se torna que algumas delas pratiquem atos concretos de discriminação e violência contra minorias sociais e grupos vulneráveis.

SALVADOR, J. P. F. Podemos alimentar o discurso de ódio sem perceber. **Hoje em Dia**. Opinião, 18 out. 2023. Disponível em: <https://www.hojeemdia.com.br/opiniao/opiniao/podemos-alimentar-o-discurso-de-odio-sem-perceber-1.984113>. Acesso em: 23 out. 2023. [Fragmento]

Em seu texto, o autor argumenta que

- A) ter cuidado com conteúdos consumidos e compartilhados nas redes sociais é uma forma de evitar a disseminação de discursos de ódio.
- B) alimentar a disseminação de discursos de ódio é um dos objetivos das plataformas de redes sociais, devido ao engajamento.
- C) acabar com os discursos de ódio nas redes sociais requer que os usuários façam comentários negativos nos posts.
- D) disseminar discursos de ódio nas redes sociais é uma característica dos produtores de conteúdo que têm pouco alcance.

QUESTÃO 8

Codinome Beija-flor

Pra que mentir
Fingir que perdoou
Tentar ficar amigos sem rancor
A emoção acabou
Que coincidência é o amor
A nossa música nunca mais tocou

Pra que usar de tanta educação
Pra destilar terceiras intenções
Desperdiçando o meu mel
Devagarzinho, flor em flor
Entre os meus inimigos, beija-flor

CAZUZA. Codinome Beija-flor. In: **Vagalume**. Disponível em: <https://www.vagalume.com.br/cazuza/codinome-beija-flor.html>. Acesso em: 6 set. 2023. [Fragmento]

As palavras podem ser formadas por diferentes processos. Um deles é a composição por justaposição, em que dois termos são unidos um ao outro, sem perda de seus elementos.

Na canção de Cazuzza, ocorre justaposição na formação da palavra

- A) destilar.
- B) inimigos.
- C) devagarzinho.
- D) beija-flor.

QUESTÃO 9

A disciplina do amor

Foi na França, durante a Segunda Grande Guerra: um jovem tinha um cachorro que todos os dias, pontualmente, ia esperá-lo voltar do trabalho. Postava-se na esquina, um pouco antes das seis da tarde. Assim que via o dono, ia correndo ao seu encontro e na maior alegria acompanhava-o com seu passinho **saltitante** de volta à casa. A vila inteira já conhecia o cachorro e as pessoas que passavam faziam-lhe festinhas e ele correspondia, chegava até a correr todo animado atrás dos mais íntimos. Para logo voltar atento ao seu posto e ali ficar sentado até o momento em que seu dono apontava lá longe.

TELLES, Lygia Fagundes. A disciplina do amor. In: **Conto Brasileiro**. Disponível em: <https://contobrasileiro.com.br/a-disciplina-do-amor-conto-de-lygia-fagundes-telles/>. Acesso em: 6 set. 2023. [Fragmento]

Assinale a alternativa em que o termo destacado pertença, no contexto, à mesma classe de palavras daquela em destaque no texto.

- A) “Foi na França, durante a Segunda **Grande** guerra [...]”.
- B) “Assim que via o dono, ia correndo ao seu **encontro** [...]”.
- C) “[...] até o momento em que seu **dono** apontava lá longe.”
- D) “Postava-se na esquina, um **pouco** antes das seis da tarde.”

QUESTÃO 10

Escola em tempo integral para uma educação integral

O Brasil é um dos países mais desiguais do mundo, tanto na área econômica como na social, e continuará sendo enquanto a oferta da educação de qualidade permanecer desigual. Sem oportunidades iguais de acesso a um ensino de qualidade para todas as crianças e adolescentes, jamais ultrapassaremos os umbrais da mediocridade. Por isso, termos as escolas funcionando em período estendido é uma das poucas quase-unanidades, como demonstram diversas pesquisas.

VENTURI, Jacir. Escola em tempo integral para uma educação integral. **Gazeta do povo**. Opinião, 31 ago. 2023. Disponível em: <https://www.gazetadopovo.com.br/opiniaio/artigos/escola-em-tempo-integral-para-uma-educacao-integral/>. Acesso em: 6 set. 2023. [Fragmento]

No texto, observa-se o sentido conotativo em:

- A) “Umbrais da mediocridade”, que indica uma limitação do Brasil no avanço da qualidade do ensino escolar.
- B) “Ensino de qualidade”, que alude às escolas particulares, às quais a maior parte da população não tem acesso.
- C) “Diversas pesquisas”, que indefine propositadamente as pesquisas, evidenciando ausência de embasamento.
- D) “Oportunidades iguais”, que ironiza o fato de que a igualdade da educação no Brasil não é possível para a grande massa.

INFORMÁTICA BÁSICA

QUESTÃO 11

A impressão de apresentações é uma etapa importante na comunicação de informações por meio do Microsoft PowerPoint. Analise as afirmativas a seguir, relacionadas à impressão de apresentações no Microsoft PowerPoint para office 365.

- I. A opção de imprimir *slides* selecionados permite selecionar partes de cada *slide* a ser impresso.
- II. Pode-se selecionar a impressão de um intervalo de *slides*, como imprimir todos os *slides*, exceto a capa da apresentação.
- III. A opção de anotações do apresentador permite imprimir a apresentação juntamente com as anotações feitas pelo elaborador da apresentação.

Estão corretas as afirmativas

- A) I e II, apenas.
- B) I e III, apenas.
- C) II e III, apenas.
- D) I, II e III.

QUESTÃO 12

Tendo em vista os tipos de gráficos disponíveis no Microsoft Excel para office 365, numere a COLUNA II de acordo com a COLUNA I, associando os conceitos aos tipos de gráficos correspondentes.

COLUNA I

- 1. Gráfico de pizza
- 2. Gráfico de linhas

COLUNA II

- () Mostram o tamanho dos itens, em um série de dados, proporcional à soma desses itens.
- () Podem mostrar dados contínuos ao longo do tempo em um eixo com escalas iguais e, portanto, são ideais para mostrar tendências de dados em intervalos iguais, como meses, trimestres ou anos fiscais.
- () Pontos de dados deste gráfico são exibidos como uma porcentagem do total de dados.

Assinale a sequência correta.

- A) 2 1 2
- B) 1 2 1
- C) 1 1 2
- D) 2 2 1

QUESTÃO 13

O sistema operacional Windows 10 oferece uma variedade de configurações que podem ser personalizadas por meio do Painel de Controle. Analise as afirmativas a seguir, relacionadas às configurações básicas do Windows 10.

- I. No Painel de Controle, o usuário pode personalizar as configurações de rede no Windows 10, como a configuração de uma conexão Wi-Fi.
- II. No Painel de Controle, é possível alterar a resolução da tela, ajustar as configurações de vídeo e gerenciar dispositivos de impressão conectados ao computador.
- III. O Painel de Controle é o local principal para a instalação e a remoção de programas e aplicativos no Windows 10.

Estão corretas as afirmativas

- A) I e II, apenas.
- B) I e III, apenas.
- C) II e III, apenas.
- D) I, II e III.

QUESTÃO 14

Existem muitos tipos de ataques a redes, cada um visando a explorar vulnerabilidades específicas para comprometer a segurança da rede.

O ataque que visa a sobrecarregar um servidor ou rede com um volume massivo de tráfego, tornando-o inacessível para os usuários legítimos, é chamado de

- A) Ataque de Envenenamento de ARP.
- B) Ataque de Negação de Serviço (DDoS).
- C) Ataque de *Phishing*.
- D) Ataque de Força Bruta.

QUESTÃO 15

A internet é uma rede global que conecta bilhões de dispositivos em todo o mundo, permitindo a troca de informações e recursos.

Com relação às noções básicas de internet, assinale a alternativa correta.

- A) A internet é uma rede de computadores exclusiva para uso governamental e militar.
- B) HTTP é um protocolo de segurança usado para criptografar todas as comunicações na internet, garantindo a privacidade de todos os usuários.
- C) Um endereço IP (Internet Protocol) é um identificador exclusivo atribuído a um dispositivo conectado à internet para facilitar a comunicação e a identificação na rede.
- D) A World Wide Web (WWW) também pode ser chamada de internet.

LEGISLAÇÃO

QUESTÃO 16

Em relação aos direitos e deveres individuais e coletivos previstos na Constituição da República Federativa do Brasil de 1988, assinale a alternativa incorreta.

- A) É assegurada, mediante o pagamento de taxa, a obtenção de certidões em repartições públicas para defesa de direitos.
- B) As entidades associativas, quando expressamente autorizadas, têm legitimidade para representar seus filiados judicial ou extrajudicialmente.
- C) É livre a expressão da atividade intelectual, artística, científica e de comunicação, independentemente de censura ou licença.
- D) A pena será cumprida em estabelecimentos distintos, de acordo com a natureza do delito, a idade e o sexo do apenado.

QUESTÃO 17

Sobre as vedações ao servidor público, previstas no Decreto nº 1.171, de 22 de junho de 1994, que aprova o Código de Ética Profissional do Servidor Público Civil do Poder Executivo Federal, analise as afirmativas a seguir.

- I. É vedado ao servidor exercer atividade profissional aética ou ligar o seu nome a empreendimentos de cunho duvidoso.
- II. É vedado ao servidor público retirar da repartição pública livro ou bem pertencente ao patrimônio público, salvo se for autorizado pelo superior hierárquico.
- III. É vedado ao servidor público embriagar-se, ainda que esporadicamente.

Está(ão) correta(s) a(s) afirmativa(s)

- A) I, apenas.
- B) II, apenas.
- C) I e II, apenas.
- D) I, II e III.

QUESTÃO 18

O credenciamento, de acordo com as previsões da Lei nº 14.133, de 1º de abril de 2021, conhecida como Lei de Licitações e Contratos Administrativos, poderá ser usado na seguinte hipótese de contratação:

- A) Paralela e excludente
- B) Com seleção a critério de terceiros
- C) Em mercados sem flutuação
- D) De particular para provimento de atividade do Poder Público

QUESTÃO 19

Conforme disposto na Lei nº 13.709, de 14 de agosto de 2018, conhecida como Lei Geral de Proteção de Dados Pessoais (LGPD), o término do tratamento de dados pessoais ocorrerá nas seguintes hipóteses, exceto:

- A) Verificação de que a finalidade foi alcançada
- B) Cumprimento de obrigação legal ou regulatória pelo controlador
- C) Fim do período de tratamento
- D) Determinação da autoridade nacional, quando houver violação ao disposto na LGPD

QUESTÃO 20

De acordo com a Lei nº 12.527, de 18 de novembro de 2011, conhecida como Lei de Acesso à Informação, não constitui conduta ilícita que enseja responsabilidade do agente público ou militar:

- A) Impor sigilo à informação para obter proveito pessoal ou de terceiro, ou para fins de ocultação de ato ilegal cometido por si ou por outrem
- B) Ocultar da revisão de autoridade superior competente informação sigilosa para beneficiar a si ou a outrem, ou em prejuízo de terceiros
- C) Destruir ou subtrair, por qualquer meio, documentos concernentes a possíveis violações de direitos humanos por parte de agentes do Estado
- D) Agir com negligência ou imprudência na análise das solicitações de acesso à informação

QUESTÃO 21

Segundo a Lei nº 8.112, de 11 de dezembro de 1990, que dispõe sobre o regime jurídico dos servidores públicos civis da União, das autarquias e das fundações públicas federais, não é uma forma de provimento de cargo público a

- A) ascensão.
- B) recondução.
- C) reversão.
- D) promoção.

QUESTÃO 22

Segundo o Estatuto da Universidade Federal dos Vales do Jequitinhonha e Mucuri, não é uma competência do diretor da Unidade Acadêmica:

- A) Submeter à apreciação da Congregação o orçamento anual e as prioridades para aplicação dos recursos
- B) Estabelecer as normas de afastamento de docentes, para fins de capacitação e cooperação
- C) Planejar e gerir os recursos de pessoal, orçamentários, financeiros, materiais e patrimoniais sob sua responsabilidade
- D) Convocar e presidir as reuniões da Congregação, com voto comum e de qualidade

QUESTÃO 23

Sobre os currículos e as normas previstas no Estatuto da Universidade Federal dos Vales do Jequitinhonha e Mucuri, analise as afirmativas a seguir.

- I. Os conteúdos dos componentes curriculares relacionados às disciplinas serão especificados em ementas e programas, com carga horária e créditos pré-definidos.
- II. O Conselho de Curadores disporá sobre a criação, a organização, o funcionamento e a extinção dos cursos de graduação.
- III. Qualquer que seja a forma de admissão, deverá o discente, nas datas fixadas pelo calendário acadêmico, realizar seu registro, conforme especificado no edital do processo seletivo correspondente.

Está(ão) correta(s) a(s) afirmativa(s)

- A) I, apenas.
- B) II, apenas.
- C) I e III, apenas.
- D) I, II e III.

QUESTÃO 24

De acordo com o Regimento Geral da Universidade Federal dos Vales do Jequitinhonha e Mucuri, são órgãos das Unidades Acadêmicas, exceto:

- A) Congregação
- B) Diretoria
- C) Conselho universitário
- D) Colegiado de curso

QUESTÃO 25

Sobre as normas relativas ao funcionamento dos órgãos colegiados previstas no Regimento Geral da Universidade Federal dos Vales do Jequitinhonha e Mucuri, assinale com V as afirmativas verdadeiras e com F as falsas.

- () As reuniões dos colegiados serão convocadas pelo respectivo Presidente, com antecedência de 48 (quarenta e oito) horas para as reuniões ordinárias.
- () O comparecimento dos membros nas reuniões de órgãos colegiados é facultativo.
- () Serão consideradas aprovadas as propostas que obtiverem maioria simples de votos dos presentes, salvo disposição expressa no Estatuto ou no Regimento Geral.
- () Os representantes do corpo técnico-administrativo serão escolhidos pelos seus pares em processo organizado por eles ou pelas respectivas entidades representativas, por sufrágio secreto e universal.

Assinale a sequência correta.

- A) V V F V
- B) F F V V
- C) F F V F
- D) V V F F

CONHECIMENTOS ESPECÍFICOS

TÉCNICO EM TECNOLOGIA DA INFORMAÇÃO

QUESTÃO 26

Relacione os diretórios do sistema de arquivos Linux listados na COLUNA I com as descrições correspondentes na COLUNA II.

COLUNA I

1. /bin
2. /etc
3. /var

COLUNA II

- () Contém arquivos de configuração do sistema.
- () Armazena dados que podem mudar durante a operação do sistema.
- () Contém comandos e programas essenciais para a inicialização e operação do sistema.

Assinale a sequência correta.

- A) 2 1 3
- B) 1 2 3
- C) 3 2 1
- D) 2 3 1

QUESTÃO 27

Analise as afirmativas a seguir, sobre as características da Cloud Computing.

- I. O autoatendimento sobre demanda permite aos usuários escalarem os recursos de computação de forma manual para cima ou para baixo conforme necessário. Isso significa que pode-se aumentar ou diminuir a capacidade de processamento, armazenamento e recursos de rede de acordo com a demanda, garantindo eficiência e otimização de recursos.
- II. A virtualização é a tecnologia subjacente que permite a criação de ambientes virtuais, em que recursos físicos de *hardware* são compartilhados e alocados de forma eficiente. Isso possibilita a consolidação de servidores e o isolamento de recursos, melhorando a flexibilidade e a eficiência dos recursos de TI.
- III. No pagamento por uso, os usuários são cobrados apenas pelos recursos de computação que realmente utilizam.

Estão corretas as afirmativas

- A) I e II, apenas.
- B) I e III, apenas.
- C) II e III, apenas.
- D) I, II e III.

QUESTÃO 28

Os *backups* são uma parte crucial da gestão de dados e da proteção de informações importantes. Relacione os tipos de *backup* listados na COLUNA I com suas características correspondentes na COLUNA II.

COLUNA I

1. *Backup* diferencial
2. *Backup* incremental

COLUNA II

- () Salva todos os dados alterados desde o último *backup* completo.
- () Faz uma cópia apenas dos dados que foram alterados ou adicionados desde o último *backup*, independentemente do tipo.
- () É uma recuperação mais rápida entre os tipos descritos.

Assinale a sequência correta.

- A) 2 1 1
- B) 1 2 2
- C) 1 2 1
- D) 2 1 2

QUESTÃO 29

Na área de tecnologia, a gestão de riscos desempenha um papel fundamental na proteção de ativos e na tomada de decisões estratégicas.

Qual dos termos a seguir é usado para descrever a análise de riscos que leva em consideração a probabilidade de ocorrência, o impacto potencial e a capacidade de detecção de um risco?

- A) Análise de Risco Quantitativa.
- B) Planejamento de Análise de Risco.
- C) Estratégia de Mitigação de Risco.
- D) Matriz de Ameaças e Vulnerabilidade.

QUESTÃO 30

Analise as afirmativas a seguir, sobre os tipos de ataques a redes de computadores.

- I. O ataque *man-in-the-middle* (MitM) envolve um invasor intermediando a comunicação entre dois dispositivos, interceptando e possivelmente modificando os dados em trânsito.
- II. O ataque de injeção SQL explora vulnerabilidades em aplicativos da web para injetar código SQL malicioso em consultas, permitindo o acesso não autorizado a bancos de dados.
- III. O ataque de *phishing* é o envio de e-mails ou mensagens falsas que parecem legítimas, com o objetivo de enganar os usuários para que revelem informações pessoais ou financeiras.

Estão corretas as afirmativas

- A) I e II, apenas.
- B) I e III, apenas.
- C) II e III, apenas.
- D) I, II e III.

QUESTÃO 31

A classificação da informação desempenha um papel fundamental na segurança da informação em organizações.

Assinale a alternativa que melhor descreve o objetivo da classificação da informação.

- A) A classificação da informação serve principalmente para ocultar informações importantes dos funcionários para evitar vazamentos.
- B) O principal objetivo da classificação da informação é reduzir a acessibilidade aos dados para garantir a privacidade dos usuários.
- C) A classificação da informação visa a categorizar os dados com base em sua sensibilidade e importância para garantir que medidas de segurança adequadas sejam aplicadas.
- D) A classificação da informação não é usada para facilitar a recuperação de documentos em um sistema de gerenciamento de conteúdo.

QUESTÃO 32

Sobre a infraestrutura física de redes, relacione os equipamentos listados na COLUNA I com as suas funcionalidades e / ou características correspondentes na COLUNA II.

COLUNA I

1. *Switch*
2. *Gateway*

COLUNA II

- () Dispositivo de rede usado para conectar dispositivos em uma rede local (LAN) e encaminhar quadros de dados com base nos endereços MAC.
- () Dispositivo que atua como ponto de entrada ou saída entre duas redes diferentes, permitindo a comunicação entre elas.
- () Dispositivo usado para converter endereços IP públicos em endereços IP privados e vice-versa.

Assinale a sequência correta.

- A) 2 2 1
- B) 1 1 2
- C) 1 2 1
- D) 2 1 2

QUESTÃO 33

A infraestrutura física desempenha um papel crítico no funcionamento de redes de computadores.

Qual dos componentes a seguir é uma parte fundamental da infraestrutura física de redes e fornece conectividade entre dispositivos em uma rede local (LAN)?

- A) Roteador.
- B) Antivírus.
- C) Sistema operacional.
- D) Navegador da web.

QUESTÃO 34

Na área de redes de computadores, a topologia descreve a forma como os dispositivos estão interconectados.

A topologia de rede caracterizada por todos os dispositivos conectados a um único cabo central é chamada de

- A) Topologia em Estrela.
- B) Topologia em Anel.
- C) Topologia em Barramento.
- D) Topologia em Malha.

QUESTÃO 35

Os Sistemas de Gerenciamento de Banco de Dados (SGBD) desempenham um papel fundamental na manutenção e na recuperação de dados em organizações.

Acerca dos serviços de reparos em SGBD, assinale a alternativa incorreta.

- A) Os serviços de reparos em um SGBD incluem a detecção e a correção de erros de integridade nos dados armazenados no banco de dados, garantindo que os dados estejam consistentes e confiáveis.
- B) Em um SGBD, os serviços de reparos são executados automaticamente, sem intervenção humana, uma vez que os sistemas são projetados para identificar e corrigir automaticamente erros de dados.
- C) A realização de *backups* regulares é uma prática recomendada em serviços de reparos, pois os *backups* podem ser usados para restaurar dados em caso de corrupção irreversível.
- D) Os serviços de reparos em SGBD também são relevantes para bancos de dados em nuvem, uma vez que esses ambientes, mesmo sendo seguros, estão sujeitos a erros de dados.

QUESTÃO 36

Uma empresa de desenvolvimento de jogos *on-line* está considerando migrar seus servidores para um ambiente de *Cloud Computing*. Eles estão interessados nas características-chave desse modelo.

Assinale a alternativa que melhor descreve uma das principais características da *Cloud Computing* que poderia beneficiar a empresa.

- A) A migração para a *Cloud Computing* garantirá a segurança total dos dados da empresa, eliminando qualquer preocupação relacionada à privacidade.
- B) Ao migrar para a *Cloud Computing*, a empresa não precisará mais se preocupar com a escalabilidade de recursos, pois ela sempre terá recursos suficientes à disposição.
- C) A mudança para a *Cloud Computing* tornará os servidores independentes da internet, eliminando qualquer necessidade de conectividade com a rede.
- D) A migração para a *Cloud Computing* diminuirá significativamente os custos operacionais, pois a empresa somente pagará pela licença do *software*, e não pelo serviço de acesso.

QUESTÃO 37

Analise as afirmativas a seguir sobre os tipos de armazenamento para *backups*.

- I. Dispositivos de Armazenamento Externo: esses dispositivos, como discos rígidos externos e unidades *flash* USB, são opções eficazes para *backup* de dados devido à sua portabilidade e facilidade de uso.
- II. Armazenamento em Nuvem: o armazenamento em serviços de nuvem, como Google Drive e Dropbox, é uma opção insegura e não recomendada para *backups* de dados.
- III. *Tape Drives* (Unidades de Fita): as unidades de fita são uma opção de *backup* de dados obsoleta e raramente utilizada devido à sua lentidão e capacidade limitada.

Estão corretas as afirmativas

- A) I e II, apenas.
- B) I e III, apenas.
- C) II e III, apenas.
- D) I, II e III.

QUESTÃO 38

A Lei Geral de Proteção de Dados Pessoais (LGPD) é uma legislação que visa a proteger a privacidade e os direitos dos cidadãos em relação ao tratamento de seus dados pessoais. Analise as afirmativas a seguir, relacionadas à LGPD.

- I. A LGPD não se aplica a empresas brasileiras que estão fora do território nacional, independentemente de tratarem dados de cidadãos brasileiros.
- II. A LGPD estabelece que as empresas devem obter o consentimento explícito dos titulares dos dados antes de coletar e processar informações pessoais.
- III. A LGPD estabelece o direito dos titulares de dados de acessar, corrigir e excluir suas informações pessoais, bem como o direito de se opor ao processamento de seus dados.

Estão corretas as afirmativas

- A) I e II, apenas.
- B) I e III, apenas.
- C) II e III, apenas.
- D) I, II e III.

QUESTÃO 39

No sistema operacional Linux, qual comando é usado para listar os arquivos e diretórios em um diretório específico?

- A) *search*.
- B) *dir*.
- C) *ls*.
- D) *list*.

QUESTÃO 40

A computação em nuvem oferece muitos benefícios; no entanto, também apresenta desafios.

Assinale a alternativa que descreve uma dificuldade comum associada à adoção da computação em nuvem.

- A) A computação em nuvem não oferece suporte à colaboração entre equipes geograficamente dispersas.
- B) A segurança é muito falha na computação em nuvem, pois todos podem acessar, bastando ter conexão à internet.
- C) Os servidores da computação em nuvem são mais propícios a ficar sem conexão que um servidor local com *link* de internet.
- D) A dependência da conectividade de internet pode levar a problemas de disponibilidade de aplicativos e serviços em caso de interrupções na rede.

FOLHA DE RESPOSTAS (VERSÃO DO CANDIDATO)

| | | | | | | | | | |
|----|--------------------------|--------------------------|--------------------------|--------------------------|----|--------------------------|--------------------------|--------------------------|--------------------------|
| 1 | A | B | C | D | 21 | A | B | C | D |
| | <input type="checkbox"/> | <input type="checkbox"/> | <input type="checkbox"/> | <input type="checkbox"/> | | <input type="checkbox"/> | <input type="checkbox"/> | <input type="checkbox"/> | <input type="checkbox"/> |
| 2 | A | B | C | D | 22 | A | B | C | D |
| | <input type="checkbox"/> | <input type="checkbox"/> | <input type="checkbox"/> | <input type="checkbox"/> | | <input type="checkbox"/> | <input type="checkbox"/> | <input type="checkbox"/> | <input type="checkbox"/> |
| 3 | A | B | C | D | 23 | A | B | C | D |
| | <input type="checkbox"/> | <input type="checkbox"/> | <input type="checkbox"/> | <input type="checkbox"/> | | <input type="checkbox"/> | <input type="checkbox"/> | <input type="checkbox"/> | <input type="checkbox"/> |
| 4 | A | B | C | D | 24 | A | B | C | D |
| | <input type="checkbox"/> | <input type="checkbox"/> | <input type="checkbox"/> | <input type="checkbox"/> | | <input type="checkbox"/> | <input type="checkbox"/> | <input type="checkbox"/> | <input type="checkbox"/> |
| 5 | A | B | C | D | 25 | A | B | C | D |
| | <input type="checkbox"/> | <input type="checkbox"/> | <input type="checkbox"/> | <input type="checkbox"/> | | <input type="checkbox"/> | <input type="checkbox"/> | <input type="checkbox"/> | <input type="checkbox"/> |
| 6 | A | B | C | D | 26 | A | B | C | D |
| | <input type="checkbox"/> | <input type="checkbox"/> | <input type="checkbox"/> | <input type="checkbox"/> | | <input type="checkbox"/> | <input type="checkbox"/> | <input type="checkbox"/> | <input type="checkbox"/> |
| 7 | A | B | C | D | 27 | A | B | C | D |
| | <input type="checkbox"/> | <input type="checkbox"/> | <input type="checkbox"/> | <input type="checkbox"/> | | <input type="checkbox"/> | <input type="checkbox"/> | <input type="checkbox"/> | <input type="checkbox"/> |
| 8 | A | B | C | D | 28 | A | B | C | D |
| | <input type="checkbox"/> | <input type="checkbox"/> | <input type="checkbox"/> | <input type="checkbox"/> | | <input type="checkbox"/> | <input type="checkbox"/> | <input type="checkbox"/> | <input type="checkbox"/> |
| 9 | A | B | C | D | 29 | A | B | C | D |
| | <input type="checkbox"/> | <input type="checkbox"/> | <input type="checkbox"/> | <input type="checkbox"/> | | <input type="checkbox"/> | <input type="checkbox"/> | <input type="checkbox"/> | <input type="checkbox"/> |
| 10 | A | B | C | D | 30 | A | B | C | D |
| | <input type="checkbox"/> | <input type="checkbox"/> | <input type="checkbox"/> | <input type="checkbox"/> | | <input type="checkbox"/> | <input type="checkbox"/> | <input type="checkbox"/> | <input type="checkbox"/> |
| 11 | A | B | C | D | 31 | A | B | C | D |
| | <input type="checkbox"/> | <input type="checkbox"/> | <input type="checkbox"/> | <input type="checkbox"/> | | <input type="checkbox"/> | <input type="checkbox"/> | <input type="checkbox"/> | <input type="checkbox"/> |
| 12 | A | B | C | D | 32 | A | B | C | D |
| | <input type="checkbox"/> | <input type="checkbox"/> | <input type="checkbox"/> | <input type="checkbox"/> | | <input type="checkbox"/> | <input type="checkbox"/> | <input type="checkbox"/> | <input type="checkbox"/> |
| 13 | A | B | C | D | 33 | A | B | C | D |
| | <input type="checkbox"/> | <input type="checkbox"/> | <input type="checkbox"/> | <input type="checkbox"/> | | <input type="checkbox"/> | <input type="checkbox"/> | <input type="checkbox"/> | <input type="checkbox"/> |
| 14 | A | B | C | D | 34 | A | B | C | D |
| | <input type="checkbox"/> | <input type="checkbox"/> | <input type="checkbox"/> | <input type="checkbox"/> | | <input type="checkbox"/> | <input type="checkbox"/> | <input type="checkbox"/> | <input type="checkbox"/> |
| 15 | A | B | C | D | 35 | A | B | C | D |
| | <input type="checkbox"/> | <input type="checkbox"/> | <input type="checkbox"/> | <input type="checkbox"/> | | <input type="checkbox"/> | <input type="checkbox"/> | <input type="checkbox"/> | <input type="checkbox"/> |
| 16 | A | B | C | D | 36 | A | B | C | D |
| | <input type="checkbox"/> | <input type="checkbox"/> | <input type="checkbox"/> | <input type="checkbox"/> | | <input type="checkbox"/> | <input type="checkbox"/> | <input type="checkbox"/> | <input type="checkbox"/> |
| 17 | A | B | C | D | 37 | A | B | C | D |
| | <input type="checkbox"/> | <input type="checkbox"/> | <input type="checkbox"/> | <input type="checkbox"/> | | <input type="checkbox"/> | <input type="checkbox"/> | <input type="checkbox"/> | <input type="checkbox"/> |
| 18 | A | B | C | D | 38 | A | B | C | D |
| | <input type="checkbox"/> | <input type="checkbox"/> | <input type="checkbox"/> | <input type="checkbox"/> | | <input type="checkbox"/> | <input type="checkbox"/> | <input type="checkbox"/> | <input type="checkbox"/> |
| 19 | A | B | C | D | 39 | A | B | C | D |
| | <input type="checkbox"/> | <input type="checkbox"/> | <input type="checkbox"/> | <input type="checkbox"/> | | <input type="checkbox"/> | <input type="checkbox"/> | <input type="checkbox"/> | <input type="checkbox"/> |
| 20 | A | B | C | D | 40 | A | B | C | D |
| | <input type="checkbox"/> | <input type="checkbox"/> | <input type="checkbox"/> | <input type="checkbox"/> | | <input type="checkbox"/> | <input type="checkbox"/> | <input type="checkbox"/> | <input type="checkbox"/> |

AO TRANSFERIR ESSAS MARCAÇÕES PARA A FOLHA DE RESPOSTAS,
OBSERVE AS INSTRUÇÕES ESPECÍFICAS DADAS NA CAPA DA PROVA.

USE CANETA ESFEROGRÁFICA AZUL OU PRETA.



Segundo a Lei nº 9.610/1998, reproduções de natureza não pedagógicas das questões desta prova estão proibidas.