



PROVA DE LÍNGUA PORTUGUESA

Leia este texto para responder as questões de 01 a 06.

As frutas públicas

Marcio Alemão

- 1 O culpado é o Black, o cão que adotamos lá em casa. Ele tem me levado para passear pelas ruas do bairro onde moro há décadas, mas que nunca me viu circular muito. Higienópolis é o bairro, bastante melhorado depois que as pessoas entenderam ser bacana recolher o cocô dos cães das ruas. É verdade que algumas
- 5 azêmolas ainda não sacaram que o saquinho plástico contendo o conteúdo citado deveria ser jogado no lixo, não em um cantinho na rua.
- Ao caminhar, lanço mão de todas as técnicas ensinadas pelo encantador de cães Cesar Millan. Duvido que alguém não tenha visto ou ouvido falar desse mexicano que virou um fenômeno da mídia. Seu programa na tevê é um sucesso
- 10 mundial. Mas, para quem esteve hibernando, rápido resumo. Ele visita casas onde os donos perderam o controle sobre seus cães. Em minutos coloca tudo em seu devido lugar. Igual às superbabás que transformam demônios em anjos em três dias.
- Ao seguir seus ensinamentos, vejo que jamais estou sozinho nas ruas. A
- 15 cada esquina ouço alguém pronunciando o mágico “shiii” e dando um tranco na guia do cão. Isto, segundo Cesar, é suficiente para que o animal entenda definitivamente quem está no comando, quem é o dominante, quem é o dominado.
- O Black deve ser surdo. Aliás, todos os cães que tenho visto passar pela doutrina do “shiii” milanês devem ser. Não funciona.
- 20 Black me leva para onde ele bem entende.
- Pois, neste mês de outubro, temos pisado em muitas amoras e pitangas. Eu não sabia que tínhamos tantos pés dessas frutinhas na região. Comento com um e outro e fico sabendo que são muitos pés espalhados por toda a cidade.
- Navego pela internet e descubro que muita gente vê nos pés de fruta da
- 25 cidade uma ameaça. Atraem morcegos, que transmitem a raiva. Chamam ratos. Sujam as ruas. A possibilidade de alguém escorregar existe. O guardião-mor de nossa saúde, o governador, já deve estar bolando uma nova lei que proíba as pitangueiras e amoreiras de deixarem cair seus frutos maduros no chão. Considerando os morcegos e ratos, teremos uma legislação severa. Serão
- 30 desterradas as frutíferas que descumprirem a lei.
- O que eu acho? Não consigo ficar encantado. E olha que seria um tema espetacular para uma crônica emocionada. As rubras marcas a tatuar com doçura a rabugice das calçadas cinzas e apressadas da urbe louca...
- Eu as observo com estranhamento. Para que serve uma amoreira, uma
- 35 pitangueira ou qualquer pé de fruta se a gente não pode ficar embaixo dele ou equilibrado em algum galho, pegando e comendo um monte de seus frutos? Neste caso, admito que servem apenas para sujar o chão.
- Mas esse cenário não poderia ser outro? Pés de fruta públicos, sobre os quais a população teria direito. Primeiro problema a ser resolvido: como dividir a



40 colheita. Uma possibilidade é privilegiar os moradores da região. Para tanto, diria o comunicado, os interessados deverão comparecer à Secretaria de Agricultura com identidade e comprovante domiciliar. A taxa simbólica será utilizada para a confecção da carteirinha.

Isso valeria só no primeiro ano. No segundo, como prova de excelência administrativa, todo o trâmite ocorreria via internet. Empregos seriam gerados. O de catador de frutas, de controlador da catraca de acesso à árvore. Concurso para agrônomos e licitação para a compra de adubos.

Não pense que tudo estaria resolvido. Um projeto pleitearia a colheita para os carentes. Conflito com a turma do bairro. Luta de classes inevitável, que se arrastaria por anos. Enquanto isso, ninguém colhe ou come frutas. Mas, enquanto isso, o Imposto Sobre a Fruta Pública (ISFP), já teria sido criado e continuaria sendo cobrado.

O Black, já adulto e sereno, não mais me arrastaria e, ao passar pela pitangueira da praça, ergueria sua perninha e, à sua maneira, diria: “Enquanto não se chega a uma conclusão, eu declaro essa árvore minha”.

Fonte: <http://www.cartacapital.com.br/app/coluna> - acesso em 12/10/2009

Questão 01

ASSINALE a alternativa que contém o tema principal do texto.

- A) A defesa de um projeto de lei para controlar a produção de frutas nos bairros.
- B) Uma crítica à burocracia que se faz presente em todas as instâncias da vida cotidiana.
- C) Uma crítica à ineficiência do método de adestramento de animais proposto por Cesar Milan.
- D) O descontentamento do autor pelo fato de andar pisando em frutas pelas calçadas do bairro onde ele mora.

Questão 02

Percebe-se no texto, paralelamente ao uso da norma padrão, a utilização de certos termos que se enquadram na língua menos formal, também classificada como coloquial.

ASSINALE a alternativa em que **NÃO** se faz uso dessa informalidade.

- A) “Higienópolis é o bairro, bastante melhorado depois que as pessoas entenderam ser bacana recolher o cocô dos cães das ruas.”
- B) “É verdade que algumas azêmolas ainda não sacaram que o saquinho plástico contendo o conteúdo citado deveria ser jogado no lixo.”
- C) “O guardião-mor de nossa saúde, o governador, já deve estar bolando uma nova lei que proíba as pitangueiras e amoreiras de deixarem cair seus frutos maduros no chão.”
- D) “Enquanto isso, ninguém colhe ou come frutas. Mas, enquanto isso, o Imposto Sobre a Fruta Pública (ISFP), já teria sido criado e continuaria sendo cobrado.”



Questão 03

O texto apresenta de maneira bem humorada uma crítica à sociedade atual e seu culto à burocratização dos processos.

ASSINALE a alternativa que **NÃO** exemplifica essa afirmativa.

- A) “Considerando os morcegos e ratos, teremos uma legislação severa. Serão desterradas as frutíferas que descumprirem a lei.”
- B) “Pés de fruta públicos, sobre os quais a população teria direito. Primeiro problema a ser resolvido: como dividir a colheita.”
- C) “Para tanto, diria o comunicado, os interessados deverão comparecer à Secretaria de Agricultura com identidade e comprovante domiciliar.”
- D) “Um projeto pleitearia a colheita para os carentes. Conflito com a turma do bairro. Luta de classes inevitável, que se arrastaria por anos.”

Questão 04

O cenário e a rotina apresentados no texto caracterizam a vida urbana.

ASSINALE a alternativa que **NÃO** comprova essa afirmativa.

- A) “Higienópolis é o bairro, bastante melhorado depois que as pessoas entenderam ser bacana recolher o cocô dos cães das ruas.”
- B) “O guardião-mor de nossa saúde, o governador, já deve estar bolando uma nova lei que proíba as pitangueiras e amoreiras de deixarem cair seus frutos maduros no chão.”
- C) “Navego pela internet e descobro que muita gente vê nos pés de fruta da cidade uma ameaça. Atraem morcegos, que transmitem a raiva.”
- D) “A cada esquina ouço alguém pronunciando o mágico “shiii” e dando um tranco na guia do cão. Isto, segundo Cesar, é suficiente para que o animal entenda definitivamente quem está no comando...”



Questão 05

O texto apresenta como estratégia narrativa uma exploração do tempo que, mesmo projetando uma possibilidade de futuro, consegue manter a narrativa no presente.

ASSINALE a alternativa que **NÃO** justifica essa afirmação.

- A) “Ele tem me levado para passear pelas ruas do bairro onde moro há décadas, mas que nunca me viu circular muito.”
- B) “Ao caminhar, lanço mão de todas as técnicas ensinadas pelo encantador de cães Cesar Millan.”
- C) “Pois, neste mês de outubro, temos pisado em muitas amoras e pitangas. Eu não sabia que tínhamos tantos pés dessas frutinhas na região.”
- D) “O Black, já adulto e sereno, não mais me arrastaria e, ao passar pela pitangueira da praça, ergueria sua perninha e, à sua maneira, diria: “Enquanto não se chega a uma conclusão, eu declaro essa árvore minha”.

Questão 06

ASSINALE a alternativa em que a substituição do termo em destaque pelo termo entre parênteses altera o sentido inicial.

- A) “Ele tem me levado para passear pelas ruas do bairro onde moro há décadas, **mas que** nunca me viu circular muito. (e que)
- B) “Comento com um e outro **e** fico sabendo que são muitos pés espalhados por toda a cidade. (logo)
- C) “**Para tanto**, diria o comunicado, os interessados deverão comparecer à Secretaria de Agricultura com identidade e comprovante domiciliar. (para isso)
- D) “Enquanto isso, ninguém colhe **ou** come frutas” (e)



Leia este texto para responder as questões de 07 a 11.

A outra epidemia

"Como de um lado nos tornamos mais abertamente corruptos e de outro estamos mais condescendentes, instalou-se entre nós uma epidemia moral"

Lya Luft

- 1 Para mim, escrever é sempre questionar, não importa se estou escrevendo um romance, um poema, um artigo. Como ficcionista, meu espaço de trabalho é o drama humano: palco, cenário, bastidores e os mais variados personagens com os quais invento histórias de magia ou desespero. Como colunista, observo e comento a realidade. O quadro não anda muito animador, embora na crise mundial o Brasil pareça estar se saindo melhor que a maioria dos países. De tirar o chapéu, se isso se concretizar e perdurar. Do ponto de vista da moralidade, por outro lado, até em instituições públicas que julgávamos venerandas, a cada dia há um novo espanto. Não por obra de todos os que lá foram colocados (por nós), mas o que ficamos sabendo é difícil de acreditar. Teríamos de andar feito o velho filósofo grego Diógenes, que percorria as ruas em dia claro com uma lanterna na mão. Questionado, respondia procurar um homem honrado. Vamos ter de sair aos bandos, aos magotes, catando essa figura, não uma, mas multidões delas, para consertar isso, que parece não ter arrumação? Se os homens nos quais confiamos, em seus cargos importantes, já não servem de modelo, devemos dizer aos nossos filhos e netos que não olhem para aquele lado nem os imitem? O Senado da República, só para citar um caso atual, teve sua maior importância em Roma, a antiga, e se originou nos milenares conselhos de anciãos, ou homens sábios e meritórios de tempos remotos. O Senado Romano também não era um congresso de santos: até Brutus ali tramava, ocultando nas vestes o punhal com que mataria Júlio Cesar, seu protetor. Afinal eram – e são – todos apenas humanos, e o problema sempre começa aí. A noção idealizada de um grupo de homens virtuosos liderando tornou-se mais realista, levando em conta as nossas mazelas. E daí? – dirão os mais cétricos. Toda família tem seu esqueleto no armário, todo povo também: houve papas assassinos e mulherengos, reis dementes, rainhas devassas, e alguns normaizinhos, que só buscavam cumprir seus deveres e cuidar da sua gente sem prejudicar ninguém. Eu queria preservar a imagem dos homens públicos como uma estirpe vagamente nobre, em cargos solenes, que lutariam pelo país ou por sua comunidade, por nós todos, buscando antes de tudo o bem dos que neles confiaram. Em caso de dúvida ou perplexidade, a gente olharia para eles e saberia como agir. Mas, como de um lado nos tornamos mais abertamente corruptos e de outro estamos mais condescendentes, instalou-se entre nós uma epidemia moral. Se fomos criados acreditando que o importante não é ter poder, mas ser uma pessoa honrada, estamos mal-arranjados. Pois, na vida pública, não malbaratar o dinheiro, não fazer jogos de poder ilícitos, não participar das tramas, ficar fora da dança dos rabos presos em que todos se protegem, virou quase uma excentricidade. Quem sabe o jeito é engolir sapos inaceitáveis: fim para o idealismo, treinem-se um olho clínico e



- 40 cínico, enchendo bolsos e esvaziando pudores na permissividade geral que questiona o velho conceito de certo-errado. Talvez ele não passe de uma ilusão envelhecida, para sobreviver em vez de afundar. Não sei. A cada dia sei menos coisas. Antigas certezas se diluem: calejados pelas decepções, vacinados contra a indignação, não sabemos direito o que pensar. Então não pensamos.
- 45 A sorte é que apesar de tudo o país anda, a grande maioria de nós labuta na sua vidinha, trabalhando, pagando contas, construindo casas e ruas e pontes e amores e famílias legais. Lutando para ser pessoas decentes, as que carregam nas costas o mundo de verdade. É a nós – o povo, independentemente da cor, da chamada classe, da conta bancária ou do lugar onde mora – que os ocupantes de cargos públicos devem servir. Nós os elegemos e pagamos (coisa que nosso lado servil
- 50 costuma esquecer), e não podemos ser contaminados por essa epidemia contra a qual não há vacina, mas para a qual é preciso urgentemente encontrar alguma cura. Enquanto ela não chega, mais uma vez eu digo: meus pêsames, senhores.

Fonte: Veja- Edição 2121 / 15 de julho de 2009.

Questão 07

A autora diferencia a atividade do escritor de ficção do escritor de coluna. Com base nessa constatação, avalie as afirmativas I, II e III.

- I. O questionamento é uma característica que se faz presente tanto em textos de ficção quanto naqueles pertencentes ao gênero notícia.
- II. A ficção tem como base a imaginação não se comprometendo com a veracidade enquanto a reportagem baseia-se na realidade.
- III. O ofício de colunista, por basear-se na realidade, torna-se cada vez mais difícil uma vez que essa realidade não tem se apresentado animadora.

ASSINALE a alternativa que contém as afirmativas corretas.

- A) Apenas I e II.
- B) Apenas II e III.
- C) Apenas I e III.
- D) Estão corretas todas as afirmativas.

Questão 08

ASSINALE a alternativa em que a alteração proposta entre parênteses para o termo destacado acarretaria mudança de sentido no texto.

- A) “De tirar o chapéu, se isso se concretizar e **perdurar**.” (estabelecer)
- B) “...até em instituições públicas que julgávamos **venerandas**...” (respeitáveis)
- C) “Pois, na vida pública, não **malbaratar** o dinheiro...” (desperdiçar)
- D) “...a grande maioria de nós **labuta** na sua vidinha...” (desafia)



Questão 09

ASSINALE a alternativa em que a interpretação do título **NÃO** pode ser sustentada com elementos do texto.

- A) A epidemia à qual a autora faz contraposição ao usar a expressão “outra epidemia” é aquela provocada pelo vírus H1N1.
- B) A outra epidemia de que fala a autora refere-se à corrupção, à falta de ética, enfim, à falta de valores que assola as instituições públicas do país.
- C) A autora associa a situação do país a uma doença porque assim como a doença, o mal de que sofre o país, ainda não tem cura.
- D) A outra epidemia de que fala a autora refere-se à crise que assola o mundo, de modo geral, e em relação à qual o Brasil não está imune.

Questão 10

A autora explora, ao longo do texto, a contradição que marca a trajetória do ser humano no mundo.

ASSINALE a alternativa que **NÃO** comprova essa afirmação.

- A) “Como de um lado nos tornamos mais abertamente corruptos e de outro estamos mais condescendentes, instalou-se entre nós uma epidemia moral.”
- B) “Do ponto de vista da moralidade, por outro lado, até em instituições públicas que julgávamos venerandas, a cada dia há um novo espanto”.
- C) “... fim para o idealismo, treinem-se um olho clínico e cínico, enchendo bolsos e esvaziando pudores na permissividade geral...”.
- D) “Toda família tem seu esqueleto no armário, todo povo também: houve papas assassinos e mulherengos, reis dementes, rainhas devassas”.

Questão 11

ASSINALE a alternativa em que o uso de dois pontos **NÃO** introduz uma explicação.

- A) “meu espaço de trabalho é o drama humano: palco, cenário, bastidores e os mais variados personagens com os quais invento histórias de magia ou desespero.
- B) “Antigas certezas se diluem: calejados pelas decepções, vacinados contra a indignação, não sabemos direito o que pensar.”
- C) “O Senado Romano também não era um congresso de santos: até Brutus ali tramava, ocultando nas vestes o punhal com que mataria Júlio Cesar, seu protetor.”
- D) “Toda família tem seu esqueleto no armário, todo povo também: houve papas assassinos e mulherengos, reis dementes, rainhas devassas, e alguns normaizinhos...”



PROVA DE MATEMÁTICA

Questão 12

Geraldo e Luiza precisam comprar frutas. Ele necessita de 4 maçãs, 8 mexericas e 5 laranjas e Luiza, de 6 maçãs, 3 mexericas e 10 laranjas. Nas proximidades há uma feira com duas bancas, a de Joaquim e a de Severino.

Esta tabela representa os preços das frutas, em cada banca.

	Joaquim	Severino
Maçã	R\$ 0,10	R\$ 0,15
Mexerica	R\$ 0,40	R\$ 0,30
Laranja	R\$ 0,10	R\$ 0,20

Com base nesses dados, **ASSINALE** a alternativa que indica o gasto que Geraldo terá se comprar na banca do Severino.

- A) R\$ 2,80
- B) R\$ 3,80
- C) R\$ 4,00
- D) R\$ 4,10

Questão 13

Uma turma de dois rapazes e três moças foi acampar e levou duas barracas, cada uma com capacidade máxima para quatro pessoas.

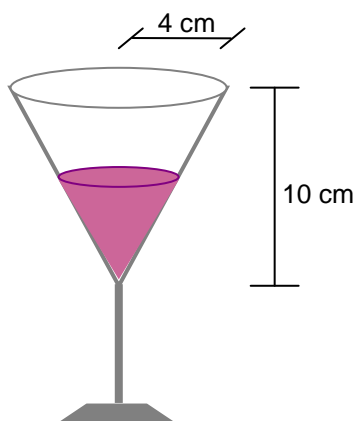
ASSINALE a alternativa que contém o número de possibilidades da turma se alojar dentro das barracas de modo que cada rapaz fique em uma barraca diferente.

- A) 2
- B) 3
- C) 6
- D) 7



Questão 14

Esta figura representa o corpo de uma taça de vinho que tem o formato de um cone de raio 4 cm e altura 10 cm.



Para elevar o nível de vinho em 0,5 cm serão necessários

- A) $\pi/3$ ml de vinho.
- B) $8\pi/3$ ml de vinho.
- C) $16\pi/3$ ml de vinho.
- D) $160\pi/3$ ml de vinho.

Questão 15

Sr. João pintou as seis faces de um cubo de madeira maciça de verde e, em seguida, dividiu este cubo em vários cubinhos iguais a partir de uma divisão de cada aresta em três partes iguais.

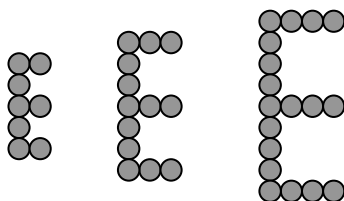
DETERMINE a probabilidade de escolher ao acaso um destes cubinhos e ele ter apenas uma das faces pintadas de verde.

- A) $4/27$
- B) $8/27$
- C) $4/9$
- D) $8/9$



Questão 16

Esta figura representa os três primeiros termos de uma seqüência de **E**'s formados por círculos.



ASSINALE a alternativa que apresenta o número de círculos do 100º termo.

- A) 203 círculos
- B) 300 círculos
- C) 503 círculos
- D) 700 círculos

Questão 17

ASSINALE a alternativa que contém a informação correta sobre as posições relativas das retas que passam pelos vértices de uma pirâmide pentagonal.

- A) Todas estas retas são concorrentes entre si.
- B) Algumas destas retas são concorrentes entre si, outras são paralelas.
- C) Algumas destas retas são concorrentes entre si, outras são reversas.
- D) Algumas destas retas são concorrentes, outras paralelas, outras reversas.



Questão 18

Uma companhia tem um lucro de 5% nos primeiros R\$ 1.000,00 de venda diária, e 4% em todas as vendas que excedem R\$ 1.000,00 no mesmo dia.

Com base no exposto, **ASSINALE** a alternativa que contém o valor do lucro dessa companhia em um dia que as vendas alcancem R\$ 4.000,00.

- A) R\$ 160,00
- B) R\$ 170,00
- C) R\$ 200,00
- D) R\$ 210,00

Questão 19

Sejam **P** e **C** números reais que satisfazem a expressão $\frac{3}{(x-1)(2x+3)} = \frac{P}{(x-1)} + \frac{C}{(2x+3)}$, sendo **x** o valor que não anula os denominadores.

ASSINALE a alternativa que equivale a soma **P + C**

- A) $-6/5$
- B) $-3/5$
- C) $3/5$
- D) $6/5$



Questão 20

O governo se prepara para lançar a maior liquidação de terras da história recente do país. O pacote prevê a transferência de 67 milhões de hectares de lotes da União para mãos privadas. (...) A distribuição de títulos de propriedade na Amazônia será feita através de uma medida provisória que pode ser sancionada pelo presidente Lula. As 296 mil posses rurais ficam espalhadas por 9 Estados. As posses que serão regularizadas foram classificadas em categorias de acordo com o tamanho da propriedade. O destino das posses e a quantidade, segundo o projeto, estão apresentados nesta tabela.

Tamanho	Destino	Quantidade (em mil)
Até 100 hectares	Doação	186
De 100 a 400 hectares	Venda por valor simbólico	97
De 400 a 1.500 hectares	Venda pelo menor preço de mercado ou venda por leilão	13
Acima de 1.500 hectares	Devolvido ao governo	-

Fonte Revista Época / Nº 578 / 15 junho 2009. (Adaptado)

Considerando que essa classificação será apresentada em um gráfico de setores circulares, onde cada categoria corresponderá a um setor, pode-se afirmar que o ângulo do maior desses setores medirá aproximadamente.

- A) 63°
- B) 72°
- C) 58°
- D) 33°



Questão 21

Se a expressão $x^3 - 3x^2 + 4x - 2 = 0$ tem uma raiz $x_1 = 1$, então, pode-se afirmar que as outras duas raízes da equação são

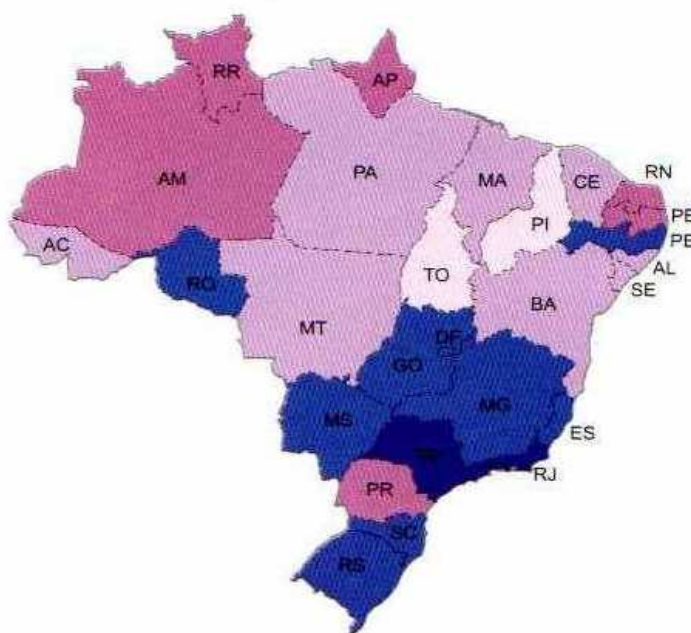
- A) complexas.
- B) racionais.
- C) irracionais.
- D) inteiras e opostas entre si.



PROVA DE GEOGRAFIA

QUESTÃO 22

Analise este mapa.



Fonte: IBGE – Adaptado

Verifica-se no Brasil uma acentuada desigualdade socioeconômica por região. Fato esse que muito se deve a fatores históricos, estruturais e até mesmo naturais. Esse mapa ilustra a desigualdade a partir da distribuição e oferta de energia elétrica nos domicílios brasileiros, que não se mostra uniforme em todas as regiões do país. As áreas mais escuras representam maior oferta domiciliar de energia elétrica, enquanto que, as áreas mais claras representam menor oferta.

Com base na leitura desse mapa, foram feitas estas afirmações.

I – A maior disponibilidade de recursos estruturais, que contribui na geração de energia elétrica, justifica sua maior oferta na região Sudeste.



- II – A distribuição de energia no complexo Centro-Sul do Brasil é mais eficiente, por se tratar de uma área de maior concentração industrial e de prestação de serviços, fatos que refletem na oferta de energia domiciliar.
- III – Estados como o Piauí e o Tocantins ofertam menos energia, sendo que, entre os fatores determinantes, destacam-se o econômico e o estrutural.

ASSINALE a alternativa que contém as afirmações corretas.

- A) Apenas II e III.
B) Apenas I e III.
C) Apenas I e II.
D) Todas estão corretas.

QUESTÃO 23

Leia este texto.

“A implementação efetiva das unidades de conservação da Amazônia, as já existentes ou as que estão em elaboração, podem render ao Brasil cerca de 40 bilhões de dólares e evitar que 4,8 bilhões de toneladas de carbono sejam lançadas na atmosfera. Esta é a conclusão do estudo lançado nesta quarta (23) pelo Instituto de Pesquisa Ambiental da Amazônia (Ipam), em parceria com a não-governamental WWF e a Universidade Federal de Minas Gerais, durante o 6º Congresso Brasileiro de Unidades de Conservação, realizado desde o último domingo em Curitiba”.

Fonte: Cristiane Prizibiszki - Ouro Verde. 2009.

Com base nesse texto e em seus conhecimentos, **ASSINALE** a alternativa correta.

- A) A preservação da Amazônia é fundamental para a redução da emissão de dióxido de carbono na atmosfera.
- B) A implementação de políticas efetivas de conservação da Amazônia atende a interesses econômicos e de preservação ambiental.
- C) As Unidades de Conservação vêm desenvolvendo importante trabalho no combate ao desmatamento ilegal da Floresta Amazônica.
- D) A idéia do texto contraria o Censo Comum que afirma ser a preservação da Floresta Amazônica essencial para a qualidade de vida no planeta.



Questão 24

As atividades agropecuárias consistem num conjunto de técnicas voltadas para a produção de alimentos e matérias-primas a partir do desenvolvimento de plantas e animais. Apesar de sua importância socioeconômica, essa atividade é responsável por consideráveis impactos ambientais, principalmente, em regiões que possuem poucos e ineficientes recursos técnicos e científicos para manejo; fato que agrava ainda mais os processos de degradação.

Com base nessas informações e no seu conhecimento sobre o assunto, **ASSINALE** a alternativa **INCORRETA**.

- A) A pecuária extensiva e sedentária prejudica a fertilidade do solo. O pisoteio, causado pelos animais, contribui para os processos erosivos nas áreas de criação.
- B) Os processos de degradação ocasionados pelas práticas agrícolas se restringem aos países pobres, pois os mesmos utilizam técnicas ultrapassadas de plantio.
- C) As terras muito degradadas comprometem a produção agrícola nos países subdesenvolvidos, sendo considerado um dos fatores que contribuem para a baixa oferta de alimentos.
- D) As áreas suscetíveis à desertificação podem ter sua situação agravada com a retirada da vegetação para abrir novas áreas agrícolas, além do pastoreio excessivo.



QUESTÃO 25

Analise esta figura.



Fonte: Angeli - 29/03/09

Com base nessa figura, **ASSINALE** a alternativa correta.

- A) A geografia brasileira retrata um país cheio de contradições.
- B) O problema do Brasil não é apenas econômico, mas moral.
- C) O poder do tráfico contaminou as várias esferas de poder no país.
- D) A justiça brasileira é eficaz e pune devidamente a corrupção.



QUESTÃO 26

Leia este texto.

Os gases causadores do efeito estufa na atmosfera terrestre aumentaram desde 1750 devido ao consumo de combustíveis fósseis, às novas formas de uso da terra e à agricultura. Embora a poluição atmosférica tenha tido um efeito de resfriamento durante os últimos séculos, o aumento maciço de gases estufa ocasionou uma elevação de $0,74^{\circ}$ Celsius nas temperaturas médias desde 1901. Os cientistas têm 90% de certeza de que a última metade do século XX foi o período mais quente no hemisfério norte em 500 anos.

Fonte: Relatório da ONU sobre Aquecimento Global – In: *Knowledge. Allianz.com.br*

Analise estas afirmações.

- I – O efeito estufa é um processo natural e essencial para a manutenção da vida na Terra.
- II – A emissão de gases que provocam alteração no efeito estufa está ligada à Revolução Industrial.
- III – O aquecimento global aumenta a proliferação de doenças infecciosas através da maior incidência de pestes.
- IV – Um dos resultados diretos do aumento do calor foi a migração de mosquitos responsáveis pela malária e febre amarela para regiões litorâneas e de baixa altitude.

Com base no texto e nas afirmações, **ASSINALE** a alternativa correta.

- A) Apenas I, II e III.
- B) Apenas I, II e IV.
- C) Apenas II, III e IV.
- D) Apenas I, III e IV.



QUESTÃO 27

O terrorismo praticado por alguns grupos religiosos é uma forma de assegurar não apenas a unidade e firmeza religiosa, mas também a liberdade política em suas regiões como, por exemplo, o terrorismo islâmico.

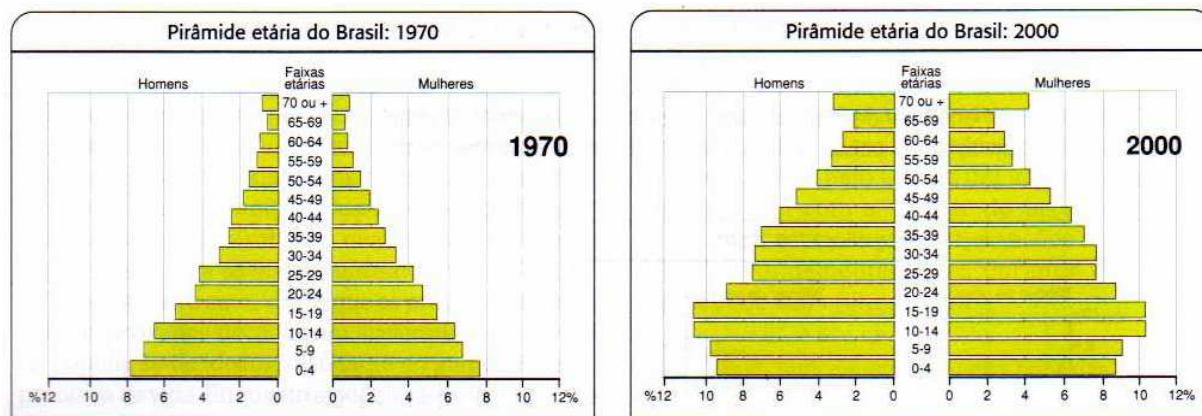
A pretensão do Islã de criar Estados Islâmicos, exigindo uma unidade entre religião e política nos países por eles governados, é definida como

- A) Absolutismo.
- B) Totalitarismo.
- C) Fundamentalismo.
- D) Liberalismo.



Questão 28

Estas pirâmides representam as recentes mudanças na dinâmica demográfica da população brasileira.



Fonte: IBGE – Adaptado

Com base na leitura das pirâmides, foram feitas estas afirmações.

- I – Na década de 2000 o topo se apresenta mais largo, devido às altas taxas de natalidade.
- II – Na década de 1970 o topo se apresenta mais estreito, devido à uma menor expectativa de vida.
- III – Na década de 2000 o centro se apresenta mais largo, devido à uma diminuição nos índices de natalidade e de mortalidade infantil.

ASSINALE a alternativa que contém as afirmações corretas.

- A) Apenas I e III.
- B) Apenas II e III.
- C) Apenas I e II.
- D) Todas as afirmações estão corretas.



PROVA DE HISTÓRIA

Questão 29

Leia este texto.

Para além da trajetória individual de Chica da Silva, sua história lança luz sobre as formas como as relações entre as raças se construíram no espaço geográfico das Minas Gerais. Sob o manto de uma pretensa democracia racial, sutil e veladamente, a sociedade mestiça procurava se branquear e escondia a fria exclusão social e racial, simbolizando o que se passava no Brasil.

(...) Assim como as outras forras da época, ela alcançou sua alforria, amou, teve filhos, educou-os, buscou ascender socialmente com vistas a diminuir a marca que a condição de parda e forra impunha para ela mesma e para seus descendentes. Inserção que se comprovou paradoxal foi, porém a única maneira que mulheres como Chica encontraram para retomar o controle sobre suas vidas. Todas acumularam bens, transitaram entre as irmandades que se constituíram, independentemente da cor dos membros que essas entidades pretendiam congregar, foram senhoras de escravos, imitaram padrões de comportamento da elite – foi assim que se integraram à sociedade branca, à procura de reconhecimento e aceitação.

Fonte: FURTADO. 2003. p.284.

Com base nesse texto, é correto afirmar que

- A) a situação vivida por Chica da Silva nas Minas Gerais colonial ilustra bem como democrática era a sociedade daquela época.
- B) Chica da Silva, por ser negra e ex-escrava, lutou pela abolição da escravidão no Brasil, sendo assim uma abolicionista.
- C) a condição de Chica da Silva foi ímpar na província de Minas Gerais.
- D) a forma encontrada por Chica da Silva para se integrar à sociedade branca da época foi imitar os padrões ditados pela elite.



Questão 30

Leia os textos I e II.

Texto I

No imaginário popular, a Petrobras é símbolo da brasilidade, do Estado realizador. É um contraponto à idéia de que só o mercado é capaz de resolver essas questões. O conflito entre Estado e privado, mercado e planejamento, se materializa na Petrobras. No plano ideológico, a Petrobras também é alvo. Há má vontade de certos setores em relação à Petrobras e a favor de empresas menores do que a Petrobras, que foram privatizadas ou são privadas, é impressionante.

Fonte: Sérgio Gabrielli. Caros Amigos. Setembro. 2009.

Texto II

Lula decidiu desmontar o modelo. No pré-sal, quem paga antecipadamente é o contribuinte, por meio de empréstimos públicos, e a Petrobras promete rendimentos para daqui a dez ou quinze anos, se seus planos derem certo. Nos últimos tempos, o barril de petróleo chegou a 150 dólares e, em seguida, caiu para 30 dólares. O que Lula está fazendo, enrolado na bandeira nacional junto com Dilma Rousseff e Luis Fernando Veríssimo, é apostar metade do PIB brasileiro nesse negócio, como um especulador no mercado futuro de petróleo.

Fonte: Diogo Mainardi, Veja.com. 19/09/2000

Com base nos textos I e II, é correto afirmar que os autores

- A) convergem quanto ao papel do Estado sobre a exploração do pré-sal, mais divergem em relação ao papel desempenhado pela Petrobras.
- B) divergem em relação ao papel do Estado e da iniciativa privada em relação ao modelo de planejamento e exploração do petróleo no país.
- C) demonstram imparcialidade ao abordar o tema petróleo, um assunto importante para a sociedade e para a iniciativa privada no Brasil.

D) ao defenderem a importância das novas reservas de petróleo relembram historicamente a campanha o “Petróleo é Nosso” em nosso país.



MINISTÉRIO DA EDUCAÇÃO
UNIVERSIDADE FEDERAL DOS VALES DO JEQUITINHONHA E
MUCURI

Comissão Permanente de Processos Seletivos – COPESE
Processo Seletivo do Curso Licenciatura em Educação do Campo-PROCAMPO



Questão 31

Leia este texto.

Em suas muitas manifestações, o terrorismo é um dos pesadelos da civilização moderna, por seu componente de irracionalidade, amplitude de suas conseqüências e impossibilidade de prevenção. Sua motivação varia da genuína convicção política à ânsia pessoal de afirmação, mas o resultado é sempre a morte, a mutilação e a destruição. Terrorismo são o uso sistemático do terror ou da violência imprevisível contra regimes políticos, povos ou pessoas para alcançar um fim político, ideológico ou religioso.

Fonte: site Brasil Escola

ASSINALE a alternativa que contém características de terrorismos nas últimas décadas.

- A) As ações do grupo Movimento Revolucionário 8 de outubro de tendência marxista e que seqüestrou o embaixador americano nos anos 60.
- B) A ação de grupos segregacionistas que praticaram massacre no Brasil nos últimos anos como o acontecido em El Dourado de Carajás.
- C) Os atos da Ku Klux Klan e do macarthismo nos Estados Unidos que desencadeou uma série de atentados contra marxistas naquele país.
- D) Aos ataques com correspondência contaminados com bactéria de antraz enviados a vários locais dos EUA, nos primeiros anos do século XXI.



Questão 32

Em 1870, foi publicado o Manifesto Republicano no jornal *A República*.

“Como homens livres e essencialmente subordinados aos interesses da nossa pátria, não é nossa intenção convulsionar a sociedade em que vivemos. (...) Somos da América e queremos ser americanos”.

Os autores do Manifesto Republicano pretendiam

- A) conclamar à população brasileira a lançar mão da luta armada para derrubar a Monarquia e estabelecer a República no Brasil.
- B) estabelecer uma identidade política com o resto do continente americano, pois o Brasil era a única monarquia na América.
- C) gerar uma discussão que fosse levada ao parlamento para que o território brasileiro passasse a ser anexado aos Estados Unidos da América.
- D) apresentar suas indignações frente à Abolição da escravidão em 1888, pois todos eram escravocratas.



Questão 33

Analise esta charge.



Fonte: Novais Jornal do Brasil 16/09/2008

Sobre essa charge, é correto afirmar que a crise

- A) econômica que abalou os EUA no ano passado tem sua origem nos atentados terroristas ao World Trade Center.
- B) que atingiu a economia dos Estados Unidos causou impactos semelhantes aos provocados pelos atentados ao World Trade Center
- C) econômica mundial foi provocada pela quebra do sistema financeiro nos Estados Unidos puxadas pela crise imobiliária.
- D) econômica está relacionada ao fundamentalismo econômico do presidente George W. Bush dos Estados Unidos e do FED.



Questão 34

Esta letra de Haroldo Lobo está relacionada a uma marchinha muito cantada no Brasil por ocasião da eleição de Getúlio Vargas.

Bota o retrato do velho outra vez
Bota no mesmo lugar
O sorriso do velhinho
Faz a gente trabalhar
Eu já botei o meu
E tu, não vai botar?
Já enfeitei o meu
E tu vais enfeitar?
O sorriso do velhinho
Faz a gente trabalhar

ASSINALE a alternativa que contém a mensagem cantada nessa marchinha.

- A) Uma prática comum no Brasil e em outros países de pendurarem o retrato de presidentes nas paredes de repartições públicas e casas.
- B) A associação entre o regime adotado no Brasil daquela época com os regimes totalitários existente na Europa na primeira metade do século XX.
- C) Uma louvação ao processo de redemocratização do Brasil depois de anos de Ditadura e opressão à livre manifestação.
- D) A importância que representava a eleição de Getúlio para o projeto de desenvolvimento do capitalismo e em nosso país.



MINISTÉRIO DA EDUCAÇÃO
UNIVERSIDADE FEDERAL DOS VALES DO JEQUITINHONHA E
MUCURI

Comissão Permanente de Processos Seletivos – COPESE
Processo Seletivo do Curso Licenciatura em Educação do Campo-PROCAMPO



Questão 35

Leia este texto.

“O Japão permaneceu praticamente isolado do mundo ocidental até o século XVI, quando chegaram as primeiras navegações portuguesas, seguidas das espanholas. A partir da metade do século XVII, fechou seus portos para o resto do mundo. No século XIX, os japoneses viviam sob o domínio do chefe de armas imperial, o *xogun*, e de uma aristocracia feudal, os *daidos*, apoiados por guerreiros profissionais chamados *samurais*. O imperador (*micado*), embora considerado um deus, vivia na então capital, Edo (atual Tóquio), onde exercia um poder apenas formal. O período do *xogunato* durou até 1854, quando os americanos forçaram a abertura dos portos. A esquadra americana, sob o comando do comodoro Matthew Perry, chegou a Edo para impor uma série de tratados desfavoráveis aos japoneses. Diante das negativas japonesas, os americanos ameaçaram bombardear a cidade.

Os japoneses concordaram em estabelecer relações comerciais com os americanos. Outras nações impuseram, posteriormente, condições semelhantes. O Japão podia se ocidentalizar ou sucumbir diante do imperialismo ocidental. Em 1868, iniciou-se a *Revolução Meiji*, marcada pela industrialização e modernização. A estrutura feudal desintegrou-se e o imperador., Mutsuo Ito, concentrou o poder político, extinguindo o xogunato. Os samurais colocavam-se a serviço da nobreza feudal. Eram geralmente nobres sem fortuna.”

Fonte: BARBEIRO et all. *História: volume único para o Ensino Médio*. 2004. p.343

Sobre o processo de ocidentalização do Japão, é correto afirmar que

- A) foi pacífico porque sua elite política sempre teve laços estreitos com o mundo ocidental desde o século XVI.
- B) a estrutura política japonesa sempre foi centralizada na figura do micado facilitando o processo de modernização daquele país.
- C) pode-se afirmar que o processo de modernização e ocidentalização do Japão ocorre com a Revolução Meiji pois possibilitou a desintegração e extinção do xogunato.
- D) os samurais tiveram grande participação e atuação relevante na constituição do processo de ocidentalização no Japão.

